



**PREFEITURA MUNICIPAL DE TERRA DE AREIA
ESTADO DO RIO GRANDE DO SUL**

EDITAL Nº 395, DE 17 DE DEZEMBRO DE 2025.

HOMOLOGAÇÃO DO RESULTADO PRELIMINAR do
Processo Seletivo Simplificado, Edital nº 380/2025, para
contratação de profissionais.

O Prefeito Municipal de Terra de Areia, no uso de suas atribuições legais, em conjunto com a Comissão de Processo Seletivo, nos termos da Portaria nº 343/2025 e em conformidade com o Edital de Processo Seletivo Simplificado nº 380/2025, TORNA PÚBLICO o presente Edital:

1. **HOMOLOGAÇÃO DO RESULTADO PRELIMINAR** – Fica homologado o resultado preliminar do Processo Seletivo Simplificado, aberto conforme Edital nº 380/2025, já com critérios de desempate, para contratação de profissionais, por prazo determinado, para atuarem na Secretaria Municipal de Saúde, Secretaria Municipal de Administração, Secretaria Municipal de Obras e Trânsito, Secretaria Municipal de Agricultura e Meio Ambiente, Secretaria Municipal de Assistência Social, Trabalho, Habitação e Cidadania, Secretaria Municipal de Desenvolvimento Econômico, Secretaria Municipal de Turismo e Cultura, Secretaria Municipal de Esporte e Juventude, Secretaria Municipal de Planejamento e Secretaria Municipal de Educação, bem como, no anexo I, o gabarito e a prova objetiva, conforme segue:

1.1 APROVADOS

PSICOLOGO

COLOCAÇÃO	NOME	CPF	NOTA
1º	FRANCIELE MARIA FARIAS	025.XXX.XXX-21	89
2º	NAYRA OLIVEIRA DOS REIS FRANÇA	024.XXX.XXX-70	88
3º	CAMILE MARIA UBIALI	008.XXX.XXX-30	84
4º	CLARICE D. DE MELOS GERMANO	033.XXX.XXX-60	81
5º	FABIANA STEFFEN MUNARI	042.XXX.XXX-33	73
6º	SHIRLEY LIPPERT JACOBY	033.XXX.XXX-57	55
7º	JULIANA TORRES PORTO DAS NEVES	007.XXX.XXX-59	54
8º	ALANA TELLES CAMARA	013.XXX.XXX-90	45
9º	IVANESSA DA SILVA HOFFMAN SOUZA	003.XXX.XXX-62	44
10º	PALLOMA DA SILVA VIANA	870.XXX.XXX-87	44
11º	RENATA DA SILVA DIAS	022.XXX.XXX-83	35
12º	ALINE GOMES SILVEIRA	809.XXX.XXX-04	29
13º	ALINE DE ALMEIDA MORAES	015.XXX.XXX-63	25
14º	ANDRESSA ASEVEDO SIMPLÍCIO	045.XXX.XXX-38	22



**PREFEITURA MUNICIPAL DE TERRA DE AREIA
ESTADO DO RIO GRANDE DO SUL**

EDITAL Nº 395, DE 17 DE DEZEMBRO DE 2025.

15º	CAROLINE ZIMMER DE OLIVEIRA	018.XXX.XXX-46	22
16º	MIRÉLA CARLOS ROLDÃO	045.XXX.XXX-06	20
17º	LUCIANA DOFMAN	575.XXX.XXX-68	10
18º	ANDREIA SECCO OLIVEIRA	807.XXX.XXX-49	10
19º	LEONARDO WOTTRICH	071.XXX.XXX-09	10

NUTRICIONISTA

COLOCAÇÃO	NOME	CPF	NOTA
1º	TAMARA JUSTIN DA SILVA	031.XXX.XXX-98	87
2º	DAIANA SANTOS DA SILVA	013.XXX.XXX-70	80
3º	FERNANDA DA SILVA SANTOS	049.XXX.XXX-38	74
4º	TACIANE SALAZAR BEZA	037.XXX.XXX-35	66
5º	LÚCIA MARGARETE ZEFINO	664.XXX.XXX-68	54
6º	RAFAELA MORAES AGUIAR	024.XXX.XXX-01	53
7º	FRANCIELLE DE FREITAS ALVES	016.XXX.XXX-00	52
8º	BRENDA RAPACH RODRIGUES	002.XXX.XXX-30	50
9º	CARLA CRISTIANE SANTANA DE FRAGA	914.XXX.XXX-91	44
10º	DANIELLI R. GULART	042.XXX.XXX-46	42
11º	SONIAMAR SCHARDOSIM RAOS	984.XXX.XXX-87	4
12º	RODRIGO JONGH PRUX	020.XXX.XXX-92	0
13º	TAMIRIS BOFF HAHN	048.XXX.XXX-79	0

ASSISTENTE SOCIAL

COLOCAÇÃO	NOME	CPF	NOTA
1º	GISLAINE EBERHARDT DA SILVA	047.XXX.XXX-82	84
2º	EVELISE DOS SANTOS ACUNHA	011.XXX.XXX-38	82
3º	TÁSSIA PORN	036.XXX.XXX-93	75
4º	TALITA TEIXEIRA FAGUNDES ROCHA	025.XXX.XXX-11	66
5º	PRISCILA TELES PAZ	922.XXX.XXX-15	62
6º	SOFIA PADILHA BORGES	039.XXX.XXX-22	52
7º	PRISCILA SILVEIRA FONTOURA	003.XXX.XXX-16	51
8º	FABIANA WITT DA ROCHA	926.XXX.XXX-72	51
9º	ANA PAULA DA SILVA GOLDANI	005.XXX.XXX-32	48
10º	LUZIHÊ MENDES MARTINS	871.XXX.XXX-20	34



**PREFEITURA MUNICIPAL DE TERRA DE AREIA
ESTADO DO RIO GRANDE DO SUL**

EDITAL Nº 395, DE 17 DE DEZEMBRO DE 2025.

11º	NADIELE SUCKEL RODRIGUES	029.XXX.XXX-11	31
12º	MARIA REJANE MACEDO DA SILVA	316.XXX.XXX-68	30
13º	ALINE FERREIRA LEAL	913.XXX.XXX-20	30
14º	JACIARA VIEIRA ANGRA	011.XXX.XXX-06	29
15º	DAIANE SCHWANCK DE OLIVEIRA	008.XXX.XXX-56	25
16º	CAMILA TAYNÁ TURRA	014.XXX.XXX-58	20
17º	DEISE GRACIELE MATIAS DA SILVA	013.XXX.XXX-50	16
18º	JOSELINE JOYCE NUNES TEIXEIRA	987.XXX.XXX-04	10
19º	SOLANGE DE FÁTIMA LIÇARAÇA DA SILVA	724.XXX.XXX-91	0
20º	ANA PAULA MACHADO	019.XXX.XXX-89	0
21º	FRANCIELE SOARES LOPO	025.XXX.XXX-62	0

FISIOTERAPEUTA

COLOCAÇÃO	NOME	CPF	NOTA
1º	MAXSUEL FIEIRA DA SILVA	020.XXX.XXX-98	76
2º	SANDY TRISCH WITT	035.XXX.XXX-70	76
3º	FERNANDA SALVADOR DARÔS	099.XXX.XXX-14	65
4º	TAÍS JUSTO OLIVEIRA	049.XXX.XXX-73	63
5º	EVELIN DA SILVA ROSA	846.XXX.XXX-00	54
6º	BRUNA KÖNIG DOS SANTOS VIEIRA	032.XXX.XXX-22	21
7º	LIDIANA DA SILVA LÚCIO	012.XXX.XXX-43	20
8º	VILSON METZ JUNIOR	001.XXX.XXX-36	0

ENFERMEIRO 20H

COLOCAÇÃO	NOME	CPF	NOTA
1º	CRISTIANO DOS SANTOS RAMOS	001.XXX.XXX-07	100
2º	JANAINA CAVALHEIRO OLIVEIRA	628.XXX.XXX-63	80
3º	RENATA PRESTES BITENCOURT MENDER FERREIRA	808.XXX.XXX-34	80
4º	SIMONE GOMES DOZE	934.XXX.XXX-68	75
5º	JONATAN DOS SANTOS CARLOS DA SILVA	020.XXX.XXX-75	60
6º	THIANE BITTENCOURT DOS SANTOS	000.XXX.XXX-45	40
7º	MADALÉN PRISCILLA DIAS PEREIRA	809.XXX.XXX-49	20
8º	MAYCKON DOUGLAS DE OLIVEIRA	095.XXX.XXX-74	18
9º	LETÍCIA BRESOLIN DA SILVEIRA	037.XXX.XXX-69	16



**PREFEITURA MUNICIPAL DE TERRA DE AREIA
ESTADO DO RIO GRANDE DO SUL**

EDITAL Nº 395, DE 17 DE DEZEMBRO DE 2025.

10º	RAQUEL DE SOUZA VARGAS	034.XXX.XXX-01	15
-----	------------------------	----------------	----

ENGENHEIRO CIVIL

COLOCAÇÃO	NOME	CPF	NOTA
1º	HAIANI DA SILVA AGOSTINHO	030.XXX.XXX-63	51
2º	ADRIANA NERI DE AMORIM	866.XXX.XXX-91	47
3º	MANUELA HOFFMANN MENDER JACOBY	030.XXX.XXX-28	36
4º	MARCOS CESAR DE OLIVEIRA	973.XXX.XXX-00	8
5º	JULIANO TORRES	011.XXX.XXX-28	0
6º	JOÃO HENRIQUE ALVES DE JESUS	021.XXX.XXX-85	0

TÉCNICO EM ENFERMAGEM – VACINADOR

COLOCAÇÃO	NOME	CPF	NOTA
1º	ANA TATIANI BOFF	002.XXX.XXX-10	100
2º	CÍNARA DE MELO JUSTIN	006.XXX.XXX-33	100
3º	JOSIANE NEUBERT KELLERMAM	006.XXX.XXX-75	100
4º	FRANCIELE DE OLIVEIRA CONTINI	029.XXX.XXX-63	100
5º	SUZIANE DA SILVA ROCHA	992.XXX.XXX-00	40
6º	ALESSANDRA NUNES DE MATOS	041.XXX.XXX-09	34
7º	VIVIANE KNEVITZ PACHECO	706.XXX.XXX-53	30
8º	ADRIANA VIDAL DA SILVA	007.XXX.XXX-75	20
9º	MARLOVA FATIMA DE MORAIS BARCELOS	890.XXX.XXX-53	10

FARMACÊUTICO

COLOCAÇÃO	NOME	CPF	NOTA
1º	CAMILA PRUSCH QUADROS	026.XXX.XXX-01	74
2º	THALLES G. MACHADO	016.XXX.XXX-94	41
3º	ANA CAROLINE GONÇALVES POLEZE	044.XXX.XXX-40	25
4º	CRISTIÉLI ROSSINI KOPP	015.XXX.XXX-32	20

AGENTE DE FISCALIZAÇÃO AMBIENTAL



**PREFEITURA MUNICIPAL DE TERRA DE AREIA
ESTADO DO RIO GRANDE DO SUL**

EDITAL Nº 395, DE 17 DE DEZEMBRO DE 2025.

COLOCAÇÃO	NOME	CPF	NOTA
1º	SAMUEL SILVA VARGAS	928.XXX.XXX-72	44
2º	ROSELLINE CRISTINE A. DA COSTA	312.XXX.XXX-44	18
3º	WALMOSSIR MACHADO	404.XXX.XXX-68	10
4º	ALCIDES GONÇALVES	838.XXX.XXX-34	10
5º	NAIANE OLIVEIRA DE CASTRO	017.XXX.XXX-61	0

BIÓLOGO

COLOCAÇÃO	NOME	CPF	NOTA
1º	LETÍCIA MARIA	018.XXX.XXX-41	90
2º	CAROLINE PIEROSAN DE MATOS	023.XXX.XXX-44	51
3º	GABRIEL CAMPOS DOS ANJOS	021.XXX.XXX-98	24
4º	RODRIGO METHODIO DA COSTA TIBÉRIO	855.XXX.XXX-04	20
5º	FABIANA DA SILVA ENGEL	020.XXX.XXX-05	16

TURISMÓLOGO

COLOCAÇÃO	NOME	CPF	NOTA
1º	LÍLIAN FOGAÇA REIS	659.XXX.XXX-20	28
2º	LAUTARO SCHEFFER MARTINEZ	039.XXX.XXX-82	20
3º	VILSON JOSÉ DO NASCIMENTO JUNIOR	033.XXX.XXX-40	18

AGENTE ADMINISTRATIVO AUXILIAR

COLOCAÇÃO	NOME	CPF	NOTA
1º	VICTOR EDUARDO SANTOS LISBOA	037.XXX.XXX-05	75
2º	REGINA MARTINS	747.XXX.XXX-68	65
3º	MARCIO GERMANN KNEVITZ	030.XXX.XXX-52	65
4º	PRISCILA DA SILVA VARGAS	816.XXX.XXX-87	60
5º	LETICIA ALBUDANE FRANÇA	066.XXX.XXX-66	55
6º	CAMILA GOMES DE ÁVILA	050.XXX.XXX-84	55
7º	JÚLIA CARDOSO SARATE	029.XXX.XXX-76	55
8º	IGOR DEMOZI JARDIM DA SILVA	030.XXX.XXX-26	50
9º	BRENDA CARDOSO SARATE	031.XXX.XXX-31	50
10º	MARIA GABRIELA DOS SANTOS DE OLIVEIRA	037.XXX.XXX-24	50



**PREFEITURA MUNICIPAL DE TERRA DE AREIA
ESTADO DO RIO GRANDE DO SUL**

EDITAL Nº 395, DE 17 DE DEZEMBRO DE 2025.

ATENDENTE DE EDUCAÇÃO

COLOCAÇÃO	NOME	CPF	NOTA
1º	EDUARDA CARNIEL FABRICIO	043.XXX.XXX-23	100
2º	HELOÍSA JUSTO QUADROS	048.XXX.XXX-35	100
3º	PRISCILA CARVALHO KLEIN	017.XXX.XXX-63	95
4º	TANIANDRA MELO LIMA	851.XXX.XXX-49	95
5º	MARIANA SANTOS DA SILVA	058.XXX.XXX-56	95
6º	MILEIDE SOUZA DA SILVA	975.XXX.XXX-04	90
7º	CAMILA DA CUNHA ESPINDULA	019.XXX.XXX-42	90
8º	ANA PAULA SANTOS DE OLIVEIRA	037.XXX.XXX-93	90
9º	DENISE ELIAS ROLDÃO	045.XXX.XXX-29	90
10º	TATIANE KLEIN DA SILVEIRA	066.XXX.XXX-11	85
11º	CLARA FERREIRA DA ROCHA	033.XXX.XXX-65	85
12º	KÉRMILY TIETBOHL ENDRES	044.XXX.XXX-48	85
13º	NICOLLY HOMEM DO AMARAL	055.XXX.XXX-63	85
14º	MEIRE LISIANE SOARES DOS SANTOS	018.XXX.XXX-90	80
15º	EMILIANE DOS SANTOS ACUNHA	013.XXX.XXX-06	80
16º	ANDREZA BONHO GERMANO	034.XXX.XXX-80	80
17º	NATALIA DOS SANTOS	038.XXX.XXX-79	80
18º	NATALIA DOS SANTOS	038.XXX.XXX-79	80
19º	CATIA REJANE SANTOS LIMA	965.XXX.XXX-72	75
20º	EDINEIA DA SILVA PEREIRA	020.XXX.XXX-32	75
21º	GYOVANA QUADROS DA SILVA	601.XXX.XXX-10	75
22º	JOSEANE TAIS MACHADO DE BORBA	801.XXX.XXX-68	70
23º	DANIELA GUIMARAES	003.XXX.XXX-39	70
24º	FRANCIELE GONÇALVES DE SOUZA	012.XXX.XXX-03	70
25º	ELISA RODRIGUES FRANÇA	041.XXX.XXX-05	70
26º	ALESSANDRA FRAGA DA COSTA	046.XXX.XXX-08	70
27º	FERNANDA KLEIN DA SILVA	984.XXX.XXX-15	65
28º	ROSIMARI NASCIMENTO NEUBERT	002.XXX.XXX-51	65
29º	VÂNIA CATARINA DA CRUZ NASCIMENTO	962.XXX.XXX-04	65
30º	DAIANE CRISTINA VEBER	004.XXX.XXX-05	65
31º	VITÓRIA SILVA QUADROS	064.XXX.XXX-38	65
32º	EDINA DA SILVA PEREIRA	005.XXX.XXX-00	60
33º	EDUARDA MAYER BREZOLIN QUADROS	053.XXX.XXX-02	60



PREFEITURA MUNICIPAL DE TERRA DE AREIA
ESTADO DO RIO GRANDE DO SUL

EDITAL Nº 395, DE 17 DE DEZEMBRO DE 2025.

ATENDENTE DE EDUCAÇÃO (AMANDIO FRANCISCO FAGUNDES)

COLOCAÇÃO	NOME	CPF	NOTA
1º	SARA DE SOUZA MÜLLER	600.XXX.XXX-70	80
2º	DANUBIA DOS SANTOS ESTIGARRIBA	034.XXX.XXX-00	75

AUXILIAR DE SALA

COLOCAÇÃO	NOME	CPF	NOTA
1º	KAREN LAGARRETA DE VARGAS	572.XXX.XXX-49	95
2º	JOSIANE MARINHO DA SILVA	915.XXX.XXX-49	95
3º	GABRIELA VALLI TEIXEIRA	041.XXX.XXX-02	95
4º	GABRIELA SILVA GONÇALVES	025.XXX.XXX-85	95
5º	LUANA MELLO SPARREMBERGER	038.XXX.XXX-92	95
6º	ANNA CLARA MASCHMANN FABRICIO	055.XXX.XXX-40	95
7º	SAMIRA CARNIEL FABRICIO	043.XXX.XXX-83	95
8º	EVA ELENI TRISCH	006.XXX.XXX-24	90
9º	SAYMON FERNANDES ALVES	030.XXX.XXX-40	90
10º	MATEUS CARDOSO SOARES	041.XXX.XXX-17	90
11º	VANDRIELE DE SOUZA NEUBERT	048.XXX.XXX-31	90
12º	KATIELLY DE DEUS HOFMAN	059.XXX.XXX-95	90
13º	CLARISSA EMILIA CARVALHO	927.XXX.XXX-72	85
14º	TATIANE SOUZA DA ROSA	016.XXX.XXX-11	85
15º	ALINE SOUZA NEUBERT	023.XXX.XXX-29	85
16º	GRAZIELA VALLI TEIXEIRA	027.XXX.XXX-89	85
17º	JESSICA DE MELLO NEUBERT	041.XXX.XXX-99	85
18º	DAIANA CAVANI DE OLIVEIRA	033.XXX.XXX-11	85
19º	ANA LICE DA SILVA	047.XXX.XXX-71	85
20º	AGNES DOS SANTOS KLEIN	062.XXX.XXX-80	85
21º	MARIELLY HOMEM DO AMARAL	055.XXX.XXX-40	85
22º	VANUSA DE MORAES CAMARGO	823.XXX.XXX-15	80
23º	DEBORA GOLDANI	990.XXX.XXX-87	80
24º	TATIANA SELAU TRISCH	021.XXX.XXX-62	80
25º	PRISCILA AMARAL DA SILVA	021.XXX.XXX-48	80
26º	ALINE DOS REIS SANTOS	026.XXX.XXX-02	80
27º	FRANCIELE DA SILVA	043.XXX.XXX-77	80
28º	ANA CAROLINA AGUIAR DUARTE	062.XXX.XXX-09	80



PREFEITURA MUNICIPAL DE TERRA DE AREIA
ESTADO DO RIO GRANDE DO SUL

EDITAL Nº 395, DE 17 DE DEZEMBRO DE 2025.

29º	CRISTINA SOUZA DE ASSIS	001.XXX.XXX-01	75
30º	ÉDINA BREHM NEGRINI	005.XXX.XXX-40	75
31º	SIMONE DE CASTILHOS HOMEM	024.XXX.XXX-41	75
32º	ADRIELE NUNES DE MATOS	043.XXX.XXX-08	75
33º	PALOMA PEREIRA DE ANDRADE	048.XXX.XXX-25	75
34º	ELOYSE QUADROS DE ABREU	052.XXX.XXX-03	75
35º	LISIANE CAROLINA GOLDANI	966.XXX.XXX-20	70
36º	CLEIDI TRISCH	025.XXX.XXX-03	70
37º	ÉDINA ROCHA VIEIRA	031.XXX.XXX-90	70
38º	CRISTIANE AMARAL EBERHARDT	031.XXX.XXX-01	70
39º	BRENDA RAFAELA LEITE DE ANDRADE	600.XXX.XXX-28	70
40º	STFANI DOS SANTOS GALIMBERTI DA SILVA	601.XXX.XXX-73	70
41º	MARIA CLARA MATOS VARGAS E SILVA	056.XXX.XXX-38	70
42º	ROSÂNGELA KELLERMANN DA ROCHA	000.XXX.XXX-19	65
43º	VERÔNICA ROTH TEIXEIRA	974.XXX.XXX-20	65
44º	PRISCILLA TOBIAS	010.XXX.XXX-64	65
45º	CAMILA MEDEIROS DE CASTILHOS	038.XXX.XXX-22	65
46º	CRISTINE FAGUNDES EBERHARDT	044.XXX.XXX-80	65
47º	MARIA SALETE CAETANO DA SILVA	014.XXX.XXX-01	60
48º	PÂMELA BATU RODRIGUES KIRIYAMA	025.XXX.XXX-03	60
49º	ELIZANDRA WITT MELO	030.XXX.XXX-03	60
50º	SAMARA DA SILVA MARTINS	053.XXX.XXX-65	60
51º	CRISTINA IZABEL GLAPINSKI EBERHARDT	002.XXX.XXX-77	55
52º	DAIANE MITTMANN SCHNEIGER	010.XXX.XXX-42	55
53º	MICHELE DA SILVA VAISFOHL	024.XXX.XXX-40	55
54º	CAMILA VALLI TEIXEIRA	033.XXX.XXX-75	55
55º	VANESSA SILVEIRA DA ROCHA	017.XXX.XXX-78	50
56º	CAROLINE PASCHE GROSS	851.XXX.XXX-68	50
57º	ANDRESSA ALMEIDA FERREIRA	046.XXX.XXX-11	50
58º	JULIANA ALMEIDA DA SILVA	050.XXX.XXX-84	50
59º	MARIA EDUARDA DORNELES DOS SANTOS	061.XXX.XXX-81	50
60º	ANDRIELI HOFFMANN TORRES	056.XXX.XXX-56	50
61º	CIMONE BONHO DA ROCHA	665.XXX.XXX-00	50



PREFEITURA MUNICIPAL DE TERRA DE AREIA
ESTADO DO RIO GRANDE DO SUL

EDITAL Nº 395, DE 17 DE DEZEMBRO DE 2025.

AUXILIAR DE SALA (AMANDIO FRANCISCO FAGUNDES)

COLOCAÇÃO	NOME	CPF	NOTA
1º	FERNANDA LAUX	982.XXX.XXX-68	80
2º	JÚLIA JACOBY GROSS	048.XXX.XXX-80	80

AUXILIAR DE SERVIÇOS GERAIS

COLOCAÇÃO	NOME	CPF	NOTA
1º	VÂNIA MARA DE DEUS	003.XXX.XXX-05	100
2º	JUCILÉIA ALMEIDA DE OLIVEIRA	957.XXX.XXX-87	100
3º	PATRICIA FEIJÓ AGUIAR	020.XXX.XXX-86	100
4º	BRUNA INÁCIO DE LIMA	016.XXX.XXX-02	100
5º	NAURA VEIGA DIAS HENDLER	008.XXX.XXX-94	95
6º	DAIANE PIRES DOS SANTOS	013.XXX.XXX-71	95
7º	LAIS MAGUS DE LIMA	026.XXX.XXX-89	95
8º	ROSELI BONHO QUADROS	626.XXX.XXX-87	90
9º	BELONIR BORBA DOS SANTOS	694.XXX.XXX-72	90
10º	OLIVIA MARTIN FAGUNDES	778.XXX.XXX-04	90
11º	NATIELI VALIM DA SILVA	028.XXX.XXX-07	90
12º	LARISSA DE AGUIAR MARQUES	038.XXX.XXX-58	90
13º	GABRIELLI FEIJÓ AGUIAR	057.XXX.XXX-76	90
14º	GABRIELLE OLIVEIRA DE ALMEIDA	043.XXX.XXX-02	90
15º	ELISIANE DA SILVA DUTRA	060.XXX.XXX-10	90
16º	DAIANE MACHADO DE SOUZA	057.XXX.XXX-45	90
17º	JOCEMAR RODRIGO OLIVEIRA	803.XXX.XXX-68	85
18º	GISLAINE BRANDO NICOLEIT	041.XXX.XXX-16	85
19º	BALBINA CARRILHO MENDES	258.XXX.XXX-34	80
20º	SUSANA FRAGA DA COSTA	825.XXX.XXX-87	80
21º	ELIZETE MATOS TEIXEIRA FAGUNDES	918.XXX.XXX-87	80
22º	MARLI TERESINHA A DA SILVEIRA	414.XXX.XXX-00	80
23º	LIZANDRA MEDEIROS GOMES DE LIMA	644.XXX.XXX-68	80
24º	INVANEIDE LOPES ROCHA	741.XXX.XXX-97	80
25º	NOEMI CRUZ DA SILVA	694.XXX.XXX-53	80
26º	CIBELE DOS SANTOS	837.XXX.XXX-53	80
27º	LAIDE DA SILVA CHAVES TELLES	034.XXX.XXX-50	75
28º	DAIANA TERESINHA COSTA DA ROSA	021.XXX.XXX-04	75
29º	CRISTIANE DE FREITAS PRUSCH	011.XXX.XXX-37	75
30º	MARIANE COSTA DA SILVEIRA	030.XXX.XXX-78	75
31º	ANA PAULA ANDRADES JORGE	048.XXX.XXX-06	70
32º	RAFAELA DA SILVA SANTOS	043.XXX.XXX-30	70



**PREFEITURA MUNICIPAL DE TERRA DE AREIA
ESTADO DO RIO GRANDE DO SUL**

EDITAL Nº 395, DE 17 DE DEZEMBRO DE 2025.

33º	LENIR DA SILVA MAGNUS	008.XXX.XXX-43	55
34º	JOCIELI DA FONSECA RAMOS	058.XXX.XXX-17	50

AUXILIAR DE SERVIÇOS GERAIS (AMANDIO FRANCISCO FAGUNDES)

COLOCAÇÃO	NOME	CPF	NOTA
1º	DAIANE PEREIRA MEDEIROS DA SILVA	022.XXX.XXX-67	100
2º	BRUNA LESSA ROCHA	049.XXX.XXX-81	85
3º	THIERRY VIEIRA CARLOS	028.XXX.XXX-09	75

MONITOR

COLOCAÇÃO	NOME	CPF	NOTA
1º	DIONATÃ TRISCH DE JESUS	015.XXX.XXX-12	90
2º	FABIANA DA SILVA ENGEL	020.XXX.XXX-05	85
3º	JULIANA EBERHARDT GROSS	038.XXX.XXX-47	85
4º	FABIANI RAPACK LEVANDOSKI	530.XXX.XXX-20	80
5º	DENISE ESTER DE SA	693.XXX.XXX-20	80
6º	ROSANA PELISOLI MAIATO	023.XXX.XXX-50	80
7º	LUAN DA SILVA MARQUES	042.XXX.XXX-43	80
8º	BRENDA MATOS DOS SANTOS	601.XXX.XXX-84	80
9º	JUAN BONHO GOMES	030.XXX.XXX-75	75
10º	TALITA TEIXEIRA FAGUNDES ROCHA	025.XXX.XXX-11	75
11º	SABRINA DE MATOS VARGAS	005.XXX.XXX-80	70
12º	LUÍZ GUSTAVO SOUZA DA SILVA	050.XXX.XXX-54	70
13º	BRUNA SILVA DA SILVEIRA	040.XXX.XXX-38	65
14º	ASAFE LUIZ EBERHARDT OLIVEIRA	033.XXX.XXX-00	65
15º	GUILHERME LIMA FERREIRA	601.XXX.XXX-40	65
16º	ANTONIA BOBSIN KLIPPEL	045.XXX.XXX-03	65
17º	EDUARDA PEREIRA GUIMARÃES	038.XXX.XXX-24	65
18º	RAISA TEIXEIRA LESSA	042.XXX.XXX-01	65
19º	CAUÃ DA SILVA PAZZIM	032.XXX.XXX-08	65
20º	ÉVILYN ACUNHA DA SILVA	048.XXX.XXX-28	65
21º	ALESSANDRA CORRÊA RIBEIRO	770.XXX.XXX-00	60
22º	DANIELA ROSA DE QUADROS SOUZA	005.XXX.XXX-09	55
23º	RENAN GRITTE RIBEIRO	466.XXX.XXX-73	55
24º	CATIELI FONSECA RAMOS	063.XXX.XXX-42	55
25º	BIANCA SOUTO MARTINS	048.XXX.XXX-81	55
26º	RAFAEL DA SILVA OLIVEIRA	059.XXX.XXX-42	55
27º	DAIANE AIRES DA SILVA	069.XXX.XXX-80	50
28º	VÍTOR FERNANDO DA SILVEIRA LIMA	868.XXX.XXX -53	50



PREFEITURA MUNICIPAL DE TERRA DE AREIA
ESTADO DO RIO GRANDE DO SUL

EDITAL Nº 395, DE 17 DE DEZEMBRO DE 2025.

MONITOR (AMANDIO FRANCISCO FAGUNDES)

COLOCAÇÃO	NOME	CPF	NOTA
1º	DENISE SOUZA ESSIG	056.XXX.XXX-55	90
2º	FERNANDA DA SILVA AZEVEDO	033.XXX.XXX-23	70

OPERÁRIO ESPECIALIZADO

COLOCAÇÃO	NOME	CPF	NOTA
1º	MARCIANO SELAU TRISCH	032.XXX.XXX-18	55
2º	JOSÉ IVO PEREIRA DA SILVA	376.XXX.XXX-87	50
3º	LUAN DE LIMA SANTOS	039.XXX.XXX-02	50

OPERÁRIO

COLOCAÇÃO	NOME	CPF	NOTA
1º	CLEITON GAUER TRINDADE	008.XXX.XXX-06	95
2º	IURY MARTINS DA SILVA	020.XXX.XXX-85	70

RECEPCIONISTA

COLOCAÇÃO	NOME	CPF	NOTA
01	ALICE BRANDO DE MATOS	020.XXX.XXX-81	50

MOTORISTA

COLOCAÇÃO	NOME	CPF	NOTA
1º	NATHAN ESPINDULA DA SILVA	601.XXX.XXX-60	100
2º	BRUNO PERES VASCONCELOS	021.XXX.XXX-95	90
3º	MACIEL DA SILVA ENGEL	042.XXX.XXX-27	89,5
4º	GUILHERME SILVA DA SILVEIRA	044.XXX.XXX-43	86,5
5º	JOHNY MAICOL GUIZZO	936.XXX.XXX-04	86
6º	ALEX SANDRO RODRIGUES DA SILVA	029.XXX.XXX-01	86
7º	MATEUS ENGEL MELO	045.XXX.XXX-94	86
8º	ELISETE LOURDES DE SÁ	531.XXX.XXX-20	84,5
9º	TANIA ADRIANA RIBEIRO DE ASSUNÇÃO	014.XXX.XXX-43	82
10º	RIVAEEL DOS SANTOS INACIO	023.XXX.XXX-80	82



PREFEITURA MUNICIPAL DE TERRA DE AREIA
ESTADO DO RIO GRANDE DO SUL

EDITAL Nº 395, DE 17 DE DEZEMBRO DE 2025.

11º	CLEBER MURARO CORREA	007.XXX.XXX-33	80,5
12º	VICTOR CESAR BUENO SEVERGNINI	416.XXX.XXX-20	80
13º	ROMARIO CARDOSO DOMINGOS	001.XXX.XXX-57	79,5
14º	CLAUDIO LEANDRO DA SILVA	656.XXX.XXX-53	79
15º	ODIRLEI ETTER	979.XXX.XXX-20	78
16º	ANDERSON DA SILVA OLIVEIRA	965.XXX.XXX-49	77,5
17º	VANDERLEI DE MOURA	835.XXX.XXX-72	77,5
18º	DAVID JOSEF MACHADO	893.XXX.XXX-34	76,5
19º	STEFANO OLIVEIRA FOGASSI	001.XXX.XXX-13	76,5
20º	NATALICIO OSVALD	333.XXX.XXX-04	74
21º	WALMOSSIR MACHADO	404.XXX.XXX-68	71
22º	VANDERLEI DA SILVA HOFFMANN	992.XXX.XXX-87	69,5
23º	VILSON PADILHA DA ROSA	359.XXX.XXX-20	67,5
24º	ALINE DE OLIVEIRA DUARTE	037.XXX.XXX-80	67,5
25º	DANIELE DOS SANTOS ESTIGARRIBA	028.XXX.XXX-62	60,5
26º	ORIDES DOS SANTOS FEIJO	414.XXX.XXX-53	58
27º	ANTONIO REGINALDO RODRIGUES	847.XXX.XXX-87	57,5
28º	ADILSON JUSTIN TORRES	762.XXX.XXX-53	50
29º	JAIR VALLI DOS REIS	006.XXX.XXX-03	50

TÉCNICO EM ENFERMAGEM

COLOCAÇÃO	NOME	CPF	NOTA
1º	THAIS SANTOS DE JESUS	031.XXX.XXX-73	80
2º	LUIS GUSTAVO BOBSIN VIEIRA	055.XXX.XXX-52	80
3º	CINARA DE MELO JUSTIN	006.XXX.XXX-33	75
4º	FLÁVIA FREITAS NOVO HAHN	818.XXX.XXX-72	75
5º	VANESSA KÖNIG RITTER	016.XXX.XXX-29	75
6º	JUCILENE NEUBERT KELLERMANN	016.XXX.XXX-27	75
7º	ÉRICA DA SILVA BIANCHI	027.XXX.XXX-29	75
8º	EVELIN ESNARREAGA DE OLIVEIRA	046.XXX.XXX-05	75
9º	ROBSON DE LIMA PEREIRA	021.XXX.XXX-54	70
10º	ELIANE DE MORAES	898.XXX.XXX-34	65
11º	ALEXANDRA EBERHARDT DE ESPINDULA	977.XXX.XXX-91	65
12º	NICOLE APARECIDA LIGABUE CARVALHO	057.XXX.XXX-00	65
13º	BRENDA MOREIRA LOPEZ DA SILVA	035.XXX.XXX-63	65
14º	TAINARA JACOBY EBERHARDT	048.XXX.XXX-08	65
15º	THALITA SCHWARTZHAUPT	033.XXX.XXX-57	65



PREFEITURA MUNICIPAL DE TERRA DE AREIA
ESTADO DO RIO GRANDE DO SUL

EDITAL Nº 395, DE 17 DE DEZEMBRO DE 2025.

16º	ROSA MARIA DE ANDRADE HOFFMANN	922.XXX.XXX-04	60
17º	EVANE AGUIAR CARDOSO	694.XXX.XXX-25	60
18º	VANDERLI DE OLIVEIRA GERMANN	005.XXX.XXX-61	60
19º	ROSANE BOSCACCI MACHADO RIBEIRO	983.XXX.XXX-00	60
20º	LIRIANI NEUBERT PEREIRA	002.XXX.XXX-90	60
21º	ADRIANA VIDAL DA SILVA	007.XXX.XXX-75	60
22º	FABIANA ANTONIO ANDRADE DE ANDRADE	003.XXX.XXX-95	60
23º	EVERTON COSTA DE LIMA	022.XXX.XXX.81	60
24º	SORAIA SILVEIRA BRASIL	030.XXX.XXX-00	60
25º	TAILA DE AGUIAR JUSTIN	038.XXX.XXX-10	60
26º	ANA MARIA VALLI TEIXEIRA BOFF	698.XXX.XXX-53	55
27º	SILVANA DA SILVA OSOSCKI	760.XXX.XXX-53	55
28º	FERNANDA DOS SANTOS DIAS	041.XXX.XXX-69	55
29º	CATIANA DE FARIAS GUIMARÃES	005.XXX.XXX-54	55
30º	ELISANGELA DE OLIVEIRA CLEMENTINO VARGAS	123.XXX.XXX-76	55
31º	HELEN KAUAINE DA SILVA MARCELINO	039.XXX.XXX-97	55
32º	BERNARDETE ROLDÃO	975.XXX.XXX-53	50
33º	SUZIANE DA SILVA ROCHA	992.XXX.XXX-00	50
34º	GIÉDRI GUERRA DE GUERRA	010.XXX.XXX-65	50
35º	VITÓRIA DUTRA RUY	034.XXX.XXX.50	50

ENFERMEIRO

COLOCAÇÃO	NOME	CPF	NOTA
1º	FERNANDA DA ROSA FAGUNDES	015.XXX.XXX-32	100
2º	DELONEI SOARES DOS SANTOS	024.XXX.XXX-02	100
3º	CLARICE MATOS TEIXEIRA TITONI	006.XXX.XXX-70	95
4º	PAOLA RECH DALLCORTIVO	039.XXX.XXX-11	95
5º	GUILHERME BOBSIN VIEIRA	039.XXX.XXX-03	90
6º	VANESSA MACHADO RIBEIRO	043.XXX.XXX-89	90
7º	LISIANE DE OLIVEIRA CARDOSO	972.XXX.XXX-15	85
8º	TATIANA SOUZA ROCHA	026.XXX.XXX-97	85
9º	JÚLIA DIMER MARTINS	035.XXX.XXX-76	85
10º	JANAINA CAVALHEIRO OLIVEIRA	628.XXX.XXX-63	80
11º	RAFAELA DOS SANTOS GERHARDT	033.XXX.XXX-59	80
12º	FERNANDA LETÍCIA IACYSZEN	034.XXX.XXX-92	80
13º	LAISA PIONER DOS SANTOS	029.XXX.XXX-80	75



**PREFEITURA MUNICIPAL DE TERRA DE AREIA
ESTADO DO RIO GRANDE DO SUL**

EDITAL Nº 395, DE 17 DE DEZEMBRO DE 2025.

14º	VALDEREZ FANTINI DUTRA	603.XXX.XXX-68	70
15º	THIANE BITTENCOURT DOS SANTOS	000.XXX.XXX-45	70
16º	RAQUEL DE SOUZA VARGAS	034.XXX.XXX-01	70
17º	JULIA RAUPP ROLIM DOS SANTOS	011.XXX.XXX-11	65
18º	CLEONICE MACIEL MOREIRA	018.XXX.XXX-46	60
19º	FERNADA AMARAL DA SILVA	041.XXX.XXX-24	60
20º	NEWTON ROGERIO DE SOUZA BERNARDES	433.XXX.XXX-20	55
21º	FRANCIELI NETTO CARDOSO	025.XXX.XXX-08	55
22º	LYN KETLYN MARTINS DA ROSA	045.XXX.XXX-06	55
23º	BRUNA TOMAZ CITADIN	037.XXX.XXX-29	50

OPERADOR DE MÁQUINAS

COLOCAÇÃO	NOME	CPF	NOTA
1º	DIONATAN BARROS DE SOUZA DA SILVA	058.XXX.XXX-32	91,5
2º	EFERSON MOISES MAGNUS LESSA	020.XXX.XXX-97	86,5
3º	FERNANDO JOEL GRACIA	029.XXX.XXX-00	72,5
4º	ISRAEL THOMASSIN STURMER	964.XXX.XXX-15	54,5

CONDUTOR SOCORRISTA

COLOCAÇÃO	NOME	CPF	NOTA
1º	ROSSANO SCHWANCK BORGES	002.XXX.XXX-08	75
2º	KELSEN DE BEM RIBEIRO	848.XXX.XXX-04	75
3º	GISLAINE TRISCH DE SOUZA	014.XXX.XXX-66	72,5
4º	EROÍTO CLÁUDIO DA SILVEIRA	615.XXX.XXX-87	70
5º	FLAVIANO DA SILVEIRA PEREIRA	935.XXX.XXX-87	67,5
6º	GIOVANI DAL MAGRO	580.XXX.XXX-72	65
7º	IRIO PEREIRA MACHADO	934.XXX.XXX-44	65
8º	RICARDO SILVA ENGEL	033.XXX.XXX-22	40
9º	VILMARINO ALVES DA SILVA	241.XXX.XXX-72	30

VISITADOR DO PIM

COLOCAÇÃO	NOME	CPF	NOTA
1º	FERNANDA SIQUEIRA DE SOUZA	001.XXX.XXX-70	80
2º	EDUARDA GUIMARÃES VARGAS	045.XXX.XXX-03	80



PREFEITURA MUNICIPAL DE TERRA DE AREIA
ESTADO DO RIO GRANDE DO SUL

EDITAL Nº 395, DE 17 DE DEZEMBRO DE 2025.

3º	JENNIFER LIMA DARABAS	042.XXX.XXX-08	80
4º	SANDRA MARA FERREIRA LEMES	613.XXX.XXX-91	75
5º	ROSELAINÉ PRUSCH DOS REIS	966.XXX.XXX-91	75
6º	SILMARA ILHA GONÇALVES	820.XXX.XXX-34	75
7º	JAQUELINE DOS SANTOS VARGAS	048.XXX.XXX-36	70
8º	DANIELE THAÍS DE MELLO ALMEIDA	038.XXX.XXX-74	60
9º	RITA DE CASSIA ALVES VALIM	034.XXX.XXX-07	55

MÉDICO VETERINÁRIO

COLOCAÇÃO	NOME	CPF	NOTA
1º	JULIA PIRES ESPÍNDOLA	030.XXX.XXX-09	80
2º	HELENA HOFFMAN MENDER	039.XXX.XXX-32	75
3º	LETÍCIA VIEIRA LIPERT PAZZIM	011.XXX.XXX-03	75
4º	RICARDO SCHRAMMEL DE SOUZA	010.XXX.XXX-47	70
5º	PAULA SOUZA DOS SANTOS	042.XXX.XXX-96	70
6º	VANESSA TORRES MARTINS	820.XXX.XXX-49	60

ELETRICISTA

COLOCAÇÃO	NOME	CPF	NOTA
1º	GIAN MARTINI BELOTO	008.XXX.XXX-27	90

AGENTE DE COMBATE A ENDEMIAS

COLOCAÇÃO	NOME	CPF	NOTA
1º	LEARA BARCELOS PEREIRA	033.XXX.XXX-76	80
2º	GABRIELA MOURA LIPPERT	038.XXX.XXX-02	80
3º	SILVIO LUIZ DO PRADO	413.XXX.XXX-20	75
4º	FLAVIO ANTONIO CHAVES DE AGUIAR	063.XXX.XXX-60	70
5º	LUIS CLAUDIO DA SILVA	534.XXX.XXX-87	65
6º	ROSIMERI LONGONI	029.XXX.XXX-08	65
7º	DIONEIA BONDAN	514.XXX.XXX-04	60
8º	ANA TATIANI BOFF	002.XXX.XXX-10	60
9º	JOÃO MARIA CAETANO DA SILVA	005.XXX.XXX-04	55
10º	ROSELLINE CRISTINE AUGUSTA DA COSTA	312.XXX.XXX-44	50



**PREFEITURA MUNICIPAL DE TERRA DE AREIA
ESTADO DO RIO GRANDE DO SUL**

EDITAL Nº 395, DE 17 DE DEZEMBRO DE 2025.

11º	DAIANA KONIG DOS SANTOS	014.XXX.XXX-45	50
12º	MATHEUS DE DEUS EVALTE	041.XXX.XXX-00	50

1.2 REPROVADOS:

OPERÁRIO ESPECIALIZADO

INSCRIÇÃO	NOME	CPF	NOTA
01	FLAVIO LUIS VARGAS CARVALHOSA	396.XXX.XXX-00	40
05	RAFAEL DE SOUZA PASCUAL	034.XXX.XXX-80	20

RECEPCIONISTA

INSCRIÇÃO	NOME	CPF	NOTA
14	RUTHIELEN JARDIM FERNANDES	037.XXX.XXX-01	35
06	JULIANA DO AMARAL FEIJÓ	063.XXX.XXX-28	30
07	LETÍCIA CARDOSO	838.XXX.XXX-49	25
04	EMILIA GLACI DA PAZ KLIPPEL WITT	639.XXX.XXX-87	20
15	VITÓRIA COLISSI LESSA	045.XXX.XXX-70	15

AGENTE ADMINISTRATIVO AUXILIAR

INSCRIÇÃO	NOME	CPF	NOTA
06	DÉBORA DOS SANTOS DICKSEN	033.XXX.XXX-58	45
20	MURILO AGLIARDI DA SILVEIRA	011.XXX.XXX-80	45
16	LARISSA OSIO SANTANA	034.XXX.XXX-24	45
27	THIENCO RAFAEL ARAUJO DO NASCIMENTO	062.XXX.XXX-05	45
26	THIAGO FERNANDES BERNARDO	829.XXX.XXX-34	40
13	JONATAS ENGEL BEHLING	035.XXX.XXX-12	35
01	ALINE DE SOUZA CARLOS	015.XXX.XXX-45	35
28	VANDEIR GEOVANI PRUCH FERREIRA	000.XXX.XXX-59	35
12	JOÃO VITOR DOS SANTOS RODRIGUES	050.XXX.XXX-06	30

MOTORISTA

INSCRIÇÃO	NOME	CPF	NOTA
19	MARCIANE SPARREMBERGER ENGEL	008.XXX.XXX-12	49,5



**PREFEITURA MUNICIPAL DE TERRA DE AREIA
ESTADO DO RIO GRANDE DO SUL**

EDITAL Nº 395, DE 17 DE DEZEMBRO DE 2025.

30	ROSANI MARIA TIBOLA	707.XXX.XXX-91	47,5
----	---------------------	----------------	------

AGENTE DE COMBATE A ENDEMIAS

INSCRIÇÃO	NOME	CPF	NOTA
02	ANDRÉ LUIZ SILVEIRA DOS SANTOS	015.XXX.XXX-40	45
03	ANDRIGO JUNIOR FERNANDES BENEDET	046.XXX.XXX-48	45
17	ISRAEL DE ASSIS MACHADO	028.XXX.XXX-70	45
30	RAÍSSA MARIELE GONÇALVES MENDES	602.XXX.XXX-01	40
24	KAUANY CHAVES FEIJO	047.XXX.XXX-24	35
34	SHEILA SCHMIDT DA SILVA	005.XXX.XXX-28	35
36	SIRIANE KLIPPEL DA CUNHA	027.XXX.XXX-83	35
12	FABIANI CARVALHO DA SILVA	006.XXX.XXX-63	30
09	DANIELI DA COSTA FERNANDES	004.XXX.XXX-11	20

VISITADOR DO PIM

INSCRIÇÃO	NOME	CPF	NOTA
02	DAIANA COELHO RODRIGUES	016.XXX.XXX-76	40

MÉDICO VETERINÁRIO

INSCRIÇÃO	NOME	CPF	NOTA
13	VIVIAN MACHADO GONÇALVES	007.XXX.XXX-99	40
09	RAFAEL LEONARDELLI ROSALEN	022.XXX.XXX-37	40
11	STEFANIA RODRIGUES KARAM	943.XXX.XXX-15	40
01	CAROLAINÉ DOS SANTOS ROLDÃO	048.XXX.XXX-35	35

TÉCNICO EM ENFERMAGEM

INSCRIÇÃO	NOME	CPF	NOTA
04	ANDRISA MELOS TEIXEIRA	004.XXX.XXX-06	45
23	JOSIANE NEUBERT KELLERMANN	006.XXX.XXX-75	45
10	DÉBORA PIU	510.XXX.XXX-34	45
24	JOSILEIA DOS SANTOS PEREIRA	833.XXX.XXX-72	40
34	REJANE DA SILVA BILICO	010.XXX.XXX-84	40
28	MARIA CRISTINA CONCEIÇÃO DE DEUS	669.XXX.XXX-04	35



**PREFEITURA MUNICIPAL DE TERRA DE AREIA
ESTADO DO RIO GRANDE DO SUL**

EDITAL Nº 395, DE 17 DE DEZEMBRO DE 2025.

	SILVEIRA		
22	JANETE EBERHARDT DA SILVA	989.XXX.XXX-34	30
30	MARLOVA FATIMA DE MORAIS BARCELOS	890.XXX.XXX-53	30

ENFERMEIRO

INSCRIÇÃO	NOME	CPF	NOTA
05	ELENILDA SIQUEIRA DE SOUSA	109.XXX.XXX-90	35
12	JONATAN DOS SANTOS CARLOS DA SILVA	020.XXX.XXX-75	35

AUXILIAR DE SALA

INSCRIÇÃO	NOME	CPF	NOTA
67	SANDRA RAMONA DE JESUS SCHUARSTZ	003.XXX.XXX-25	45
64	ROSELI ALVES DOS SANTOS PEREIRA	487.XXX.XXX-63	40

AUXILIAR DE SERVIÇOS GERAIS

INSCRIÇÃO	NOME	CPF	NOTA
39	NOEMI KUTZKE DA SILVA	018.XXX.XXX-55	35

MONITOR

INSCRIÇÃO	NOME	CPF	NOTA
44	VANDRIELE DE ALMEIDA DA SILVA	017.XXX.XXX-66	45
24	KAMILLY DA SILVA FEIJÓ	062.XXX.XXX-89	40
30	NAIARA DE FARIAS DA SILVA	035.XXX.XXX-20	35
42	SELOI CAETANO DA SILVA SANTOS	006.XXX.XXX-02	25

MONITOR (AMANDIO FRANCISCO FAGUNDES)

INSCRIÇÃO	NOME	CPF	NOTA
02	GABRIELA ACUNHA FAGUNDES	064.XXX.XXX-60	45

AUXILIAR DE SALA (AMANDIO FRANCISCO FAGUNDES)

INSCRIÇÃO	NOME	CPF	NOTA
4º	RAQUEL JARDIM	003.XXX.XXX-31	40



**PREFEITURA MUNICIPAL DE TERRA DE AREIA
ESTADO DO RIO GRANDE DO SUL**

EDITAL Nº 395, DE 17 DE DEZEMBRO DE 2025.

1.3 DESCLASSIFICADOS

ZELADOR DE ESCOLA

INSCRIÇÃO	NOME	CPF
01	ALEX SANDRO SILVA DA SILVA	950.XXX.XXX-20

GABINETE DO PREFEITO MUNICIPAL DE TERRA DE AREIA

Registre-se e Publique-se.

OSVALDO DE MATTOS SOBRINHO

Prefeito Municipal



**PREFEITURA MUNICIPAL DE TERRA DE AREIA
ESTADO DO RIO GRANDE DO SUL**

EDITAL Nº 395, DE 17 DE DEZEMBRO DE 2025.

ANEXO I

GABARITO

AGENTE ADMINISTRATIVO AUXILIAR

1 – E	6 – A	11 – E	16 – C
2 – C	7 – D	12 – B	17 – B
3 – C	8 – D	13 – C	18 – C
4 – B	9 – D	14 – B	19 – E
5 – A	10 – A	15 – D	20 – A

ATENDENTE DE EDUCAÇÃO e ATENDENTE DE EDUCAÇÃO (ESCOLA AMANDIO FRANCISCO FAGUNDES)

1 – B	6 – B	11 – A	16 – B
2 – C	7 – C	12 – A	17 – D
3 – A	8 – B	13 – C	18 – A
4 – C	9 – E	14 – C	19 – B
5 – C	10 – C	15 – D	20 – C

AUXILIAR DE SALA e AUXILIAR DE SALA (ESCOLA AMANDIO FRANCISCO FAGUNDES)

1 – A	6 – B	11 – E	16 – B
2 – C	7 – A	12 – B	17 – C
3 – B	8 – C	13 – B	18 – B
4 – B	9 – B	14 – E	19 – C
5 – D	10 – A	15 – C	20 – E

AUXILIAR DE SERVIÇOS GERAIS e AUXILIAR DE SERVIÇOS GERAIS (ESCOLA AMANDIO FRANCISCO FAGUNDES)

1 – A	6 – B	11 – D	16 – C
2 – C	7 – A	12 – A	17 – C
3 – B	8 – D	13 – C	18 – C
4 – C	9 – C	14 – C	19 – B
5 – A	10 – B	15 – B	20 – A



**PREFEITURA MUNICIPAL DE TERRA DE AREIA
ESTADO DO RIO GRANDE DO SUL**

EDITAL Nº 395, DE 17 DE DEZEMBRO DE 2025.

MONITOR e MONITOR (ESCOLA AMANDIO FRANCISCO FAGUNDES)

1 – C	6 – D	11 – A	16 – C
2 – B	7 – E	12 – C	17 – B
3 – D	8 – B	13 – C	18 – A
4 – B	9 – D	14 – A	19 – C
5 – C	10 – B	15 – D	20 – E

OPERÁRIO ESPECIALIZADO

1 – B	6 – A	11 – A	16 – B
2 – E	7 – D	12 – C	17 – A
3 – A	8 – C	13 – B	18 – C
4 – C	9 – C	14 – C	19 – E
5 – D	10 – A	15 – C	20 – A

OPERÁRIO

1 – D	6 – E	11 – B	16 – B
2 – B	7 – B	12 – D	17 – C
3 – C	8 – A	13 – A	18 – C
4 – A	9 – D	14 – C	19 – B
5 – C	10 – C	15 – C	20 – A

RECEPCIONISTA

1 – B	6 – A	11 – E	16 – E
2 – C	7 – C	12 – E	17 – C
3 – E	8 – C	13 – E	18 – A
4 – A	9 – A	14 – D	19 – C
5 – A	10 – A	15 – B	20 – E

MOTORISTA

1 – B	6 – A	11 – D	16 – B
2 – E	7 – D	12 – A	17 – D
3 – B	8 – B	13 – C	18 – C
4 – E	9 – C	14 – E	19 – C
5 – C	10 – A	15 – C	20 – A



**PREFEITURA MUNICIPAL DE TERRA DE AREIA
ESTADO DO RIO GRANDE DO SUL**

EDITAL Nº 395, DE 17 DE DEZEMBRO DE 2025.

TÉCNICO EM ENFERMAGEM

1 – C	6 – A	11 – C	16 – D
2 – C	7 – C	12 – B	17 – D
3 – D	8 – B	13 – C	18 – C
4 – A	9 – B	14 – C	19 – E
5 – A	10 – B	15 – D	20 – B

ENFERMEIRO

1 – E	6 – A	11 – A	16 – B
2 – B	7 – B	12 – E	17 – C
3 – D	8 – C	13 – B	18 – C
4 – B	9 – D	14 – E	19 – E
5 – D	10 – D	15 – ANULADA	20 – B

OPERADOR DE MÁQUINA

1 – C	6 – E	11 – D	16 – D
2 – D	7 – B	12 – B	17 – C
3 – A	8 – C	13 – D	18 – C
4 – B	9 – A	14 – C	19 – C
5 – C	10 – B	15 – A	20 – B

CONDUTOR SOCORRISTA

1 – E	6 – E	11 – B	16 – D
2 – A	7 – A	12 – E	17 – B
3 – C	8 – C	13 – E	18 – B
4 – D	9 – A	14 – C	19 – B
5 – A	10 – D	15 – B	20 – D

VISITADOR DO PIM

1 – B	6 – C	11 – C	16 – C
2 – A	7 – E	12 – C	17 – A
3 – B	8 – A	13 – C	18 – D
4 – B	9 – E	14 – B	19 – B
5 – A	10 – D	15 – E	20 – D



**PREFEITURA MUNICIPAL DE TERRA DE AREIA
ESTADO DO RIO GRANDE DO SUL**

EDITAL Nº 395, DE 17 DE DEZEMBRO DE 2025.

MÉDICO VETERINÁRIO

1 – B	6 – C	11 – A	16 – B
2 – E	7 – E	12 – C	17 – D
3 – D	8 – A	13 – D	18 – B
4 – D	9 – B	14 – B	19 – B
5 – B	10 – C	15 – D	20 – E

ELETRICISTA

1 – D	6 – D	11 – C	16 – E
2 – B	7 – C	12 – B	17 – D
3 – B	8 – B	13 – D	18 – B
4 – C	9 – A	14 – D	19 – B
5 – A	10 – D	15 – E	20 – D

ZELADOR DE ESCOLA

1 – C	6 – D	11 – A	16 – B
2 – A	7 – C	12 – C	17 – C
3 – B	8 – D	13 – E	18 – B
4 – A	9 – D	14 – D	19 – D
5 – D	10 – A	15 – B	20 – B

AGENTE DE COMBATE A ENDEMIAS

1 – C	6 – B	11 – C	16 – A
2 – B	7 – B	12 – D	17 – E
3 – C	8 – B	13 – D	18 – B
4 – A	9 – B	14 – D	19 – D
5 – A	10 – E	15 – C	20 – D



**PREFEITURA MUNICIPAL DE TERRA DE AREIA
ESTADO DO RIO GRANDE DO SUL**

EDITAL Nº 395, DE 17 DE DEZEMBRO DE 2025.

PROVAS

AGENTE ADMINISTRATIVO AUXILIAR

Leia o texto:

A vida dá voltas

Sou um tipo meio fatalista. Acho que a vida dá voltas. Um amigo meu, Luís, casou-se com Cláudia, uma mulher egoísta. Ele era filho único, de mãe separada e sem pensão. Durante algum tempo, a mãe de Luís foi sustentada pelo próprio tio, um solteirão. Quando este faleceu, começaram as brigas domésticas: Cláudia não admitia que Luís desse dinheiro à mãe. Ele era um rapaz de classe média. Por algum tempo, arrumou trabalhos extras para ajudar a idosa.

Convencido pela esposa, ele mudou-se para longe. Visitava a mãe uma vez por ano. Para se livrar da questão financeira, Luís convenceu a mãe a vender o apartamento. Durante alguns anos, ela viveu desse dinheiro. Muitas vezes, lamentava a falta do filho, mas o que fazer? Luís, sempre tão ocupado, viajando pelo mundo todo, não tinha tempo disponível. Na casa da mãe, faltou até o essencial. E ela faleceu sozinha.

O tempo passou. Hoje, Luís, antes um profissional disputado, está desempregado. Foi obrigado a se instalar com a família na casa dos sogros, onde é atormentado diariamente. A filha de Luís e Cláudia cresceu e saiu de casa. Quer seguir seu próprio rumo!

Luís não tem renda, nem bens. Está quase se divorciando. Ficou fora do mercado de trabalho. O que vai acontecer? A filha cuidará dele? Tenho dúvidas, porque ele não a ensinou com seu próprio exemplo.

A vida é um eterno ciclo afetivo. Em uma época todos nós somos filhos. Em outra, tornamo-nos pais: é a nossa vez de cuidar de quem cuidou de nós.

(Walcyr Carrasco. <http://vejasp.abril.com.br>. Acesso em 07.11.2025. Adaptado)

QUESTÃO 01

A interpretação de textos envolve a capacidade de chegar a determinadas conclusões após fazer a leitura de um texto (visual, auditivo, escrito, oral). Considerando o último parágrafo do texto, pode-se afirmar que a relação entre pais e filhos deve ser baseada:

- (A) no medo.
- (B) na persistência.
- (C) na expectativa.
- (D) na esperança.
- (E) na troca.

QUESTÃO 02

O texto “A vida dá voltas” apresenta uma narrativa reflexiva sobre as mudanças que o tempo e as escolhas provocam na vida das pessoas. Por meio da história de Luís, o autor mostra como as atitudes tomadas no presente podem retornar no futuro, revelando o valor dos vínculos familiares e da empatia nas relações humanas.

Luís, influenciado pela esposa, afastou-se da mãe idosa, que terminou seus dias sozinha e em dificuldades. Mais tarde, o próprio Luís passou a viver situação semelhante: desempregado, sem apoio e prestes a se separar, experimentando o mesmo abandono que antes causou à mãe.



**PREFEITURA MUNICIPAL DE TERRA DE AREIA
ESTADO DO RIO GRANDE DO SUL**

EDITAL Nº 395, DE 17 DE DEZEMBRO DE 2025.

A frase final do texto: *“A vida é um eterno ciclo afetivo. Em uma época todos nós somos filhos. Em outra, tornamo-nos pais: é a nossa vez de cuidar de quem cuidou de nós.”*, sintetiza o sentido do título e reforça o aprendizado moral da narrativa.

Com base na leitura e na mensagem transmitida pelo texto, assinale a alternativa que melhor expressa a relação entre o título e o conteúdo da história.

- (A) mostra que o tempo muda tudo e que a juventude é passageira.
- (B) indica que o personagem principal, Luís, se tornou uma pessoa melhor ao longo da vida.
- (C) sugere que os papéis na vida se invertem: quem antes recebia cuidado passa a cuidar.
- (D) destaca a importância de acumular bens materiais para evitar o sofrimento.
- (E) expressa apenas a ideia de tristeza e arrependimento do narrador.

QUESTÃO 03

Durante a leitura do texto *“A vida dá voltas”*, observamos o emprego de diferentes regras de acentuação gráfica da língua portuguesa, que têm como objetivo indicar a tonicidade das palavras e facilitar a correta pronúncia. Essas regras são fundamentais para a escrita formal, especialmente em textos narrativos e descritivos, como o apresentado, em que a clareza e a correção linguística reforçam a credibilidade e o entendimento da mensagem.

No trecho em que o autor afirma “Ele era um rapaz de classe média”, nota-se que a palavra “média” contém um acento agudo sobre a vogal “e”. Esse sinal não é usado por acaso: ele obedece a uma regra específica da acentuação das palavras da língua portuguesa, relacionada à posição da sílaba tônica.

Embasado nesse trecho e nas regras gerais de acentuação gráfica, assinale a alternativa que explica corretamente o motivo do acento na palavra “média”:

- (A) ser uma paroxítona terminada em ditongo crescente.
- (B) ser uma oxítona terminada em “a”.
- (C) ser uma proparoxítona, cuja sílaba tônica é a antepenúltima.
- (D) ser uma paroxítona terminada em vogal.
- (E) apresentar hiato entre as vogais “e” e “i”.

QUESTÃO 04

- I. Paraquedas é um substantivo composto formado pelo verbo parar + queda.
- II. O plural da palavra pé-de-moleque é: pés-de-moleque.
- III. Planalto é um substantivo simples, pois possui apenas um radical.

Após analisar atentamente as sentenças apresentadas anteriormente, observe que cada uma delas traz informações que podem ser classificadas como corretas ou incorretas, de acordo com o conteúdo proposto.



**PREFEITURA MUNICIPAL DE TERRA DE AREIA
ESTADO DO RIO GRANDE DO SUL**

EDITAL Nº 395, DE 17 DE DEZEMBRO DE 2025.

Sua tarefa consiste em identificar quais afirmativas estão de acordo com as normas, conceitos ou orientações mencionadas no enunciado original. Das sentenças acima, estão corretas:

- (A) I
- (B) I e II
- (C) I e III
- (D) II e III
- (E) I, II e III

QUESTÃO 05

A crase é o encontro (ou fusão) de duas vogais idênticas “a”, que se fundem num único “à” e são indicadas pelo acento grave (à). Leia as frases abaixo e assinale a alternativa que preenche corretamente as lacunas das seguintes orações:

- I. Precisa falar ____ cerca de três mil operários.
- II. Daqui ____ alguns anos tudo estará mudado.
- III. ____ dias está desaparecido.
- IV. Vindos de locais distantes, todos chegaram ____ tempo ____ reunião.

- (A) a - a - há - a - à
- (B) à - a - a - há - a
- (C) a - à - a - a - há
- (D) há - a - à - a - a
- (E) a - há - a - à - a.

QUESTÃO 06

Carlos decidiu dedicar parte do seu final de semana aos estudos e resolveu uma quantidade de exercícios de matemática superior à de seu colega Nilton. Sabe-se que Carlos fez exatamente 36 exercícios a mais que Nilton e que, juntos, os dois resolveram um total de 90 exercícios.

Com base nessas informações, determine quantos exercícios Carlos resolveu ao todo, considerando a diferença entre as quantidades e a soma final apresentada.

- (A) 63
- (B) 54
- (C) 36
- (D) 27
- (E) 18

QUESTÃO 07

De acordo com pesquisas recentes sobre hábitos digitais, estudantes brasileiros de aproximadamente 15 anos passam, em média, 190 minutos conectados à internet diariamente.

Considerando esse comportamento e tomando como base um mês comum, deseja-se estimar quanto tempo total, convertido em dias, um estudante permanece na internet ao longo desse período. Utilize a média diária informada para realizar o cálculo aproximado do total de dias de uso acumulado.



**PREFEITURA MUNICIPAL DE TERRA DE AREIA
ESTADO DO RIO GRANDE DO SUL**

EDITAL Nº 395, DE 17 DE DEZEMBRO DE 2025.

- (A) Aproximadamente 1 dia.
- (B) Aproximadamente 2 dias.
- (C) Aproximadamente 3 dias.
- (D) Aproximadamente 4 dias.
- (E) Aproximadamente 6 dias.

QUESTÃO 08

Carlos decidiu aplicar uma quantia de R\$ 5.000,00 em um investimento financeiro que rende juros compostos, uma modalidade na qual os juros de cada mês são incorporados ao valor acumulado, passando também a render juros nos meses seguintes. A taxa praticada pela instituição é de 3% ao mês. Após manter o valor aplicado por um período de 6 meses, Carlos deseja saber qual será o montante final acumulado ao término desse prazo, considerando o crescimento progressivo proporcionado pelos juros compostos. Qual será o montante ao final desse período?

- (A) R\$ 5.927,40
- (B) R\$ 6.000,00
- (C) R\$ 5.927,50
- (D) R\$ 5.970,25
- (E) R\$ 6.135,00

QUESTÃO 09

João possui um pote cheio de balas coloridas e, curioso para saber a quantidade exata de cada tipo, decidiu fazer uma contagem detalhada. Ele esvaziou o recipiente sobre a mesa, separou as balas por cor e registrou quantas havia em cada grupo. Após essa organização cuidadosa, João chegou aos seguintes números:

- 6 balas vermelhas
- 3 balas verdes
- 5 balas brancas
- 7 balas amarelas

Colocando todas as balas de volta ao pote e escolhendo dois doces para comer, qual a probabilidade de João pegar aleatoriamente uma bala vermelha e uma amarela em sequência, sem repor a primeira retirada?

- (A) 4/19
- (B) 3/27
- (C) 1/23
- (D) 1/10
- (E) 2/27

QUESTÃO 10

Um veículo viaja entre dois distritos de Terra de Areia, percorrendo a primeira terça parte do trajeto à velocidade média de 60 km/h, a terça parte seguinte a 40 km/h e o restante do percurso a 20 km/h. O valor que melhor aproxima a velocidade média do veículo nessa viagem, em km/h, é



**PREFEITURA MUNICIPAL DE TERRA DE AREIA
ESTADO DO RIO GRANDE DO SUL**

EDITAL Nº 395, DE 17 DE DEZEMBRO DE 2025.

- (A) 32,5
- (B) 35
- (C) 37,5
- (D) 40
- (E) 42,5

QUESTÃO 11

Alguns historiadores consideram que a cidade de Florianópolis foi oficialmente fundada em 23 de março de 1726, uma data que, segundo os registros, caiu em um sábado. A partir desse marco, é possível acompanhar outros eventos relevantes do calendário. Exatamente 90 dias após a fundação, ou seja, no dia 21 de junho, ocorre o início do inverno no Hemisfério Sul, período marcado pela noite mais longa do ano. Considerando o intervalo de 90 dias transcorrido desde o sábado da fundação, determine em qual dia da semana caiu o dia 21 de junho de 1726. Esse dia caiu em uma:

- (A) segunda-feira
- (B) terça-feira
- (C) quarta-feira
- (D) quinta-feira
- (E) sexta-feira

QUESTÃO 12

"Ofício é um gênero textual pertencente à redação técnica que possui valor jurídico. Ele é utilizado a fim de comunicar, requerer ou solicitar algo para determinado órgão público ou privado ou mesmo entre autoridades. Por ser um documento importante nas repartições, exige-se que sua linguagem seja clara e direta. Em outros termos, a mensagem deve apresentar apenas o essencial, para evitar confusões e duplicidade de sentido."

Os documentos do Padrão Ofício da redação oficial devem obedecer à seguinte forma de apresentação:

- (A) O início de cada parágrafo do texto deve ter 3,5 cm de distância da margem esquerda.
- (B) Não deve haver abuso no uso de negrito, itálico, sublinhado, letras maiúsculas, sombreado, sombra, relevo, bordas ou qualquer outra forma de formatação que afete a elegância e a sobriedade do documento.
- (C) Deve ser utilizado espaçamento duplo entre as linhas e de 6 pontos após cada parágrafo, ou, se o editor de texto utilizado não comportar tal recurso, de uma linha em branco.
- (D) Deve ser utilizada fonte do tipo Times New Roman de corpo 12 no texto em geral, 10 nas citações, e 9 nas notas de rodapé.
- (E) Deve ser utilizado espaçamento duplo entre as linhas e de 9 pontos após cada parágrafo, ou, se o editor de texto utilizado não comportar tal recurso, de uma linha em branco.

QUESTÃO 13

O Manual de Redação da Presidência da República estabelece um conjunto de princípios fundamentais que orientam a elaboração de documentos oficiais no âmbito da administração pública. Esses atributos buscam garantir clareza, uniformidade, eficiência comunicativa e plena compreensão das informações transmitidas. Entre tais características, destacam-se aquelas que devem estar sempre presentes na redação



**PREFEITURA MUNICIPAL DE TERRA DE AREIA
ESTADO DO RIO GRANDE DO SUL**

EDITAL Nº 395, DE 17 DE DEZEMBRO DE 2025.

oficial, assegurando que o texto atenda às finalidades institucionais. Considerando esses princípios orientadores, analise as alternativas a seguir e identifique aquela que não corresponde a um atributo essencial da redação oficial.

- (A) Clareza e precisão.
- (B) Objetividade.
- (C) Subjetividade.
- (D) Impessoalidade.
- (E) Formalidade e padronização.

QUESTÃO 14

O Manual de Redação da Presidência da República estabelece normas específicas para padronizar a comunicação oficial no âmbito da Administração Pública. Entre essas orientações, encontram-se as regras referentes ao uso do fecho (a expressão que encerra documentos, ofícios e demais correspondências). O fecho varia de acordo com a relação hierárquica entre o remetente e o destinatário, devendo respeitar critérios de formalidade e uniformidade. Considerando essas diretrizes oficiais, identifique qual é o fecho adequado para comunicações dirigidas a autoridades que possuem a mesma hierarquia.

- (A) Cordialmente.
- (B) Atenciosamente.
- (C) Respeitosamente.
- (D) Sinceramente.
- (E) Distintamente.

QUESTÃO 15

De acordo com o Manual de Redação da Presidência da República (3ª edição, 2018), os pronomes de tratamento são expressões utilizadas para dirigir-se a autoridades, personalidades ou destinatários de comunicações oficiais, respeitando a formalidade e o grau hierárquico de cada cargo. Segundo o Manual, qual é o pronome de tratamento correto a ser utilizado para se dirigir ao Presidente da Câmara de Vereadores?

- (A) Vossa Senhoria.
- (B) Vossa Reverendíssima.
- (C) Vossa Magnificência.
- (D) Vossa Excelência.
- (E) Vossa Ilustríssima.

QUESTÃO 16

Segundo o Manual de Gestão de Documentos do Arquivo Nacional, a atividade de protocolo desempenha um papel fundamental na administração pública, pois envolve o controle, o registro e o acompanhamento do trâmite de documentos dentro de uma instituição. É por meio do protocolo que se garante a rastreabilidade, a segurança das informações e a correta destinação dos documentos produzidos ou recebidos pelos órgãos governamentais.



**PREFEITURA MUNICIPAL DE TERRA DE AREIA
ESTADO DO RIO GRANDE DO SUL**

EDITAL Nº 395, DE 17 DE DEZEMBRO DE 2025.

Considerando as diretrizes desse manual, indique a definição correta do que se entende por “protocolo”.

- (A) O conjunto de documentos permanentes de um órgão público.
- (B) O setor responsável apenas pela produção e arquivamento de documentos sigilosos.
- (C) O serviço encarregado do recebimento, classificação, registro, distribuição, controle da tramitação e expedição de documentos.
- (D) O conjunto de normas que orienta o uso de documentos digitais na administração pública.
- (E) O instrumento de avaliação utilizado para definir prazos de guarda e eliminação de documentos.

QUESTÃO 17

De acordo com o Manual de Gestão de Documentos do Arquivo Nacional, o correio eletrônico (e-mail) pode constituir um documento arquivístico digital sempre que seu conteúdo estiver relacionado às atividades institucionais, servindo como registro das ações, decisões e procedimentos de um órgão público. Nesses casos, o e-mail deve receber tratamento arquivístico adequado, incluindo classificação, registro, temporalidade e preservação, de modo a garantir autenticidade, integridade, confiabilidade e acesso futuro.

Considerando essas orientações, analise as alternativas e identifique aquela que melhor descreve o tratamento do correio eletrônico como documento arquivístico digital.

- (A) O e-mail não é considerado documento arquivístico, pois possui caráter apenas comunicativo e temporário.
- (B) O e-mail é um documento digital que pode ter valor administrativo, jurídico ou informativo, devendo ser gerenciado e preservado conforme seu conteúdo.
- (C) O e-mail é utilizado apenas para fins pessoais e, portanto, não necessita de registro ou arquivamento institucional.
- (D) O e-mail é armazenado automaticamente em servidores, dispensando qualquer controle de gestão documental.
- (E) O e-mail é um meio informal de comunicação que não gera prova documental.

QUESTÃO 18

No contexto brasileiro, o exercício da cidadania envolve, entre outros aspectos, o conjunto de direitos e deveres dos cidadãos. Com base nos conceitos de cidadania, qual das alternativas abaixo melhor descreve essa condição de forma adequada?

- (A) Ter cidadania significa residir num país, independente de participar da vida comunitária ou política.
- (B) Exercício da cidadania implica somente em votar e eleger representantes periodicamente.
- (C) Cidadania refere-se à condição legal de pertencimento ao Estado e inclui direitos civis, políticos e sociais, bem como deveres para com a coletividade.
- (D) A cidadania está restrita aos direitos sociais, como saúde e educação, não contemplando direitos políticos ou civis.
- (E) Cidadania é apenas um conceito abstrato sem impacto real no cotidiano ou nas relações entre o indivíduo e o Estado.

QUESTÃO 19



**PREFEITURA MUNICIPAL DE TERRA DE AREIA
ESTADO DO RIO GRANDE DO SUL**

EDITAL Nº 395, DE 17 DE DEZEMBRO DE 2025.

A penalidade disciplinar tem por finalidade prevenir o cometimento de ilícitos administrativos pelos demais servidores, adquirindo, assim, uma função intimidativa geral, que indica o interesse da Administração em demonstrar que continua zelando pela normalidade do serviço público.

De acordo com a lei nº 855, Art. 141 são penalidades disciplinares:

- (A) advertência.
- (B) multa
- (C) suspensão.
- (D) demissão.
- (E) todas as alternativas.

QUESTÃO 20

A lei municipal nº 855, afirma que o servidor tem direito a repouso remunerado, num dia de cada semana, preferencialmente aos domingos, bem como nos dias feriados civis e religiosos, de acordo com o disposto na Lei Municipal nº 807/99. Sobre o repouso semanal, assinale a alternativa correta:

- (A) Nos serviços públicos ininterruptos poderá ser exigido o trabalho nos dias feriados civis e religiosos, hipótese em que as horas trabalhadas serão pagas com acréscimo de 50% (cinquenta por cento), salvo a concessão de outro dia de folga compensatória.
- (B) Nos serviços públicos ininterruptos poderá ser exigido o trabalho nos dias feriados civis e religiosos, hipótese em que as horas trabalhadas serão pagas com acréscimo de 25% (vinte e cinco por cento), salvo a concessão de outro dia de folga compensatória.
- (C) A remuneração do dia de repouso corresponderá a um dia normal de trabalho.
- (D) Nos serviços públicos ininterruptos poderá ser exigido o trabalho nos dias feriados civis e religiosos, hipótese em que as horas trabalhadas serão pagas com acréscimo de 100% (cem por cento), salvo a concessão de outro dia de folga compensatória.
- (E) A remuneração do dia de repouso corresponderá a um dia de trabalho em horário extraordinário.

ATENDENTE DE EDUCAÇÃO e ATENDENTE DE EDUCAÇÃO (ESCOLA AMANDIO FRANCISCO FAGUNDES)

LÍNGUA PORTUGUESA

TEXTO PARA AS QUESTÕES 1 E 2

Atitudes que fortalecem o dia a dia Escolar

Na escola, a convivência diária entre alunos, professores e demais funcionários é essencial para que o ambiente seja acolhedor e produtivo. Respeito, paciência e diálogo são atitudes que ajudam a resolver conflitos e a tornar o dia a dia mais leve. Quando cada pessoa se dispõe a colaborar, seja ouvindo o colega, ajudando em uma tarefa ou apenas sendo gentil, todos se beneficiam. Pequenas ações, muitas



**PREFEITURA MUNICIPAL DE TERRA DE AREIA
ESTADO DO RIO GRANDE DO SUL**

EDITAL Nº 395, DE 17 DE DEZEMBRO DE 2025.

vezes simples, podem transformar a rotina escolar. Assim, a escola se torna um espaço de aprendizado, convivência e construção de relações mais humanas e solidárias.

1. De acordo com o texto, o que contribui para que a escola seja um ambiente acolhedor e produtivo?

- a) A competição entre alunos.
- b) Atitudes de respeito, paciência e diálogo.
- b) A rapidez na resolução de atividades.
- d) A realização de muitas tarefas ao mesmo tempo.
- e) A obrigação de todos pensarem da mesma forma.

2. Segundo o texto, pequenas ações podem:

- a) dificultar o trabalho dos funcionários.
- b) tornar a convivência mais rígida e cansativa.
- c) transformar positivamente a rotina escolar.
- d) impedir que os alunos participem das atividades.
- e) diminuir a colaboração entre as pessoas.

3. A frase que melhor representa o gênero textual “bilhete” é:

- a) “Favor entregar o formulário assinado até amanhã. Obrigado!”
- b) “A água cobre grande parte da superfície terrestre.”
- c) “Os animais adaptam-se ao ambiente onde vivem.”
- d) “Ontem a temperatura caiu bastante na cidade.”
- e) “O cachorro é considerado o melhor amigo do homem.”

4. Em “O aluno estava tranquilo na sala”, a palavra **tranquilo** pode ser substituída por:

- a) nervoso
- b) agitado
- c) calmo



**PREFEITURA MUNICIPAL DE TERRA DE AREIA
ESTADO DO RIO GRANDE DO SUL**

EDITAL Nº 395, DE 17 DE DEZEMBRO DE 2025.

d) cansado

e) ocupado

5. Assinale a alternativa em que todas as palavras estão grafadas corretamente:

a) exageiro – chapéu – criança

b) geito – queijo – viagem

c) necessário – excepcional – felizmente

d) enxame – exessão – beringela

e) encherger – mexer – enxoval

6. A palavra “*caderno*” possui quantas sílabas e qual é sua sílaba tônica?

a) 2 sílabas; tônica “ca”

b) 3 sílabas; tônica “der”

c) 3 sílabas; tônica “ca”

d) 2 sílabas; tônica “no”

e) 3 sílabas; tônica “no”

7. A frase com uso correto de vírgula em enumeração é:

a) A mochila tem livros cadernos lápis e borrachas.

b) A mochila tem, livros, cadernos lápis e borrachas.

c) A mochila tem livros, cadernos, lápis e borrachas.

d) A mochila tem livros cadernos, lápis, e borrachas.

e) A mochila tem livros, cadernos lápis e, borrachas.

8. Assinale a alternativa que apresenta corretamente o plural de “pão”:

a) pãos

b) pães

c) pãozes



**PREFEITURA MUNICIPAL DE TERRA DE AREIA
ESTADO DO RIO GRANDE DO SUL**

EDITAL Nº 395, DE 17 DE DEZEMBRO DE 2025.

d) pães

e) pães

9. Qual das alternativas apresenta o antônimo mais adequado para a palavra "sutil" no contexto da frase abaixo?

*“A professora fez uma observação **sutil** sobre o comportamento da turma.”*

a) simples

b) discreta

c) leve

d) calma

e) intensa

10. Na expressão “*Ele ficou de boca aberta ao ouvir a notícia*”, a expressão significa que ele ficou:

a) com fome

b) bravo

c) muito surpreso

d) cansado

e) desatento

MATEMÁTICA

11. O número **48** é divisível por:

a) 3, 4 e 6

b) 5, 6 e 7

c) 2, 5 e 9

d) 4, 7 e 8

e) 3, 5 e 11

12. O MDC (mínimo divisor comum) entre 18 e 24 é:

a) 2



**PREFEITURA MUNICIPAL DE TERRA DE AREIA
ESTADO DO RIO GRANDE DO SUL**

EDITAL Nº 395, DE 17 DE DEZEMBRO DE 2025.

- b) 3
- c) 6
- d) 8
- e) 12

13. Qual é a solução da equação $2x - 6 = 10$?

- a) 4
- b) 6
- c) 8
- d) 12
- e) 3

14. Em uma turma com 40 alunos, **25%** faltaram. Quantos alunos faltaram?

- a) 5
- b) 8
- c) 10
- d) 12
- e) 15

15. Um valor de R\$ 200,00 rende juros simples de **5% ao mês**. Quanto é o juro obtido em **2 meses**?

- a) R\$ 5,00
- b) R\$ 10,00
- c) R\$ 15,00
- d) R\$ 20,00
- e) R\$ 25,00

LEGISLAÇÃO MUNICIPAL

16. A Lei Municipal nº 855/2000 estabelece principalmente:



**PREFEITURA MUNICIPAL DE TERRA DE AREIA
ESTADO DO RIO GRANDE DO SUL**

EDITAL Nº 395, DE 17 DE DEZEMBRO DE 2025.

- a) as regras de funcionamento das escolas particulares do município
- b) o regime jurídico dos servidores municipais de Terra de Areia
- c) o calendário escolar e os feriados municipais
- d) o orçamento anual para manutenção das escolas
- e) normas para construção de prédios públicos

17. Segundo a Lei nº 855/2000, o servidor público municipal é a pessoa que:

- a) presta serviços apenas como voluntário
- b) é contratada sem vínculo administrativo
- c) exerce função pública em empresa privada
- d) ocupa cargo público criado por lei
- e) trabalha para o município sem remuneração

18. De acordo com o regime jurídico, o servidor tem direito a:

- a) remuneração, férias e licenças previstas em lei
- b) férias apenas se trabalhar mais de 5 anos
- c) licenças somente sem remuneração
- d) salário variável conforme o clima escolar
- e) folgas ilimitadas sem justificativa

19. O estágio probatório é o período em que o servidor:

- a) escolhe se quer continuar no cargo
- b) é avaliado quanto à capacidade e conduta no serviço
- c) trabalha sem receber salário
- d) define suas próprias funções
- e) pode faltar sem justificativa

20. A licença para tratamento de saúde, conforme a lei, é concedida quando:



**PREFEITURA MUNICIPAL DE TERRA DE AREIA
ESTADO DO RIO GRANDE DO SUL**

EDITAL Nº 395, DE 17 DE DEZEMBRO DE 2025.

- a) o servidor traz um pedido verbal
- b) o servidor deseja descansar alguns dias
- c) há atestado médico que comprove a necessidade
- d) o servidor falta repetidamente
- e) o diretor autoriza informalmente

**AUXILIAR DE SALA e AUXILIAR DE SALA (ESCOLA AMANDIO FRANCISCO FAGUNDES)
LÍNGUA PORTUGUESA**

Texto para as questões 1 a 5.

Leia atentamente o texto a seguir:

Informação em Tempos de Internet

A expansão do acesso à informação nas últimas décadas tem provocado transformações profundas na forma como os indivíduos constroem conhecimento. A quantidade massiva de dados disponíveis, somada à velocidade com que circulam, cria um ambiente em que a simples obtenção de informações deixa de ser diferencial. O desafio contemporâneo não é acessar informações, mas interpretá-las criticamente, estabelecendo relações, identificando vieses e reconhecendo a complexidade dos fenômenos sociais.

Paradoxalmente, embora vivamos na chamada ‘era do conhecimento’, cresce o risco da superficialidade. O consumo fragmentado de conteúdos – especialmente em mídias digitais – tende a produzir percepções rápidas, porém pouco aprofundadas, favorecendo conclusões apressadas e discursos simplificadores. Nesse cenário, a leitura analítica e a argumentação fundamentada tornam-se competências essenciais para quem deseja participar de forma responsável do debate público.

QUESTÕES

1. Segundo o texto, o verdadeiro desafio diante do grande volume de informações disponíveis é:
- a) Interpretar informações de forma crítica e contextualizada.



**PREFEITURA MUNICIPAL DE TERRA DE AREIA
ESTADO DO RIO GRANDE DO SUL**

EDITAL Nº 395, DE 17 DE DEZEMBRO DE 2025.

- b) Reduzir a circulação de dados na internet.
- c) Aprender métodos de memorização mais eficientes.
- d) Aumentar a velocidade de acesso às informações.
- e) Concentrar-se apenas em textos acadêmicos e científicos.

2. O texto sugere que a superficialidade está ligada:

- a) À falta de interesse das pessoas pela leitura analítica.
- b) Ao excesso de conteúdos impressos de difícil compreensão.
- c) À maneira fragmentada e veloz com que se consome informação.
- d) À ausência de cursos específicos sobre uso da tecnologia.
- e) Ao acesso privilegiado de poucos aos meios de comunicação.

3. No trecho “*cresce o risco da superficialidade*”, o termo **superficialidade** significa:

- a) Observação feita apenas parcialmente por falta de tempo.
- b) Falta de profundidade na análise ou compreensão.
- c) Foco exclusivo em conteúdos de baixa qualidade.
- d) Leitura feita apenas na superfície do texto físico.
- e) Preferência por informações extensas e detalhadas.

4. A palavra “**Paradoxalmente**”, usada no segundo parágrafo, indica:

- a) Uma justificativa para o que foi dito anteriormente.
- b) Uma oposição inesperada ao que seria lógico supor.
- c) Uma repetição do argumento do primeiro parágrafo.
- d) Uma conclusão obrigatória das ideias inicialmente apresentadas.
- e) Uma exemplificação que reforça o argumento anterior.

5. O texto tem como finalidade principal:



**PREFEITURA MUNICIPAL DE TERRA DE AREIA
ESTADO DO RIO GRANDE DO SUL**

EDITAL Nº 395, DE 17 DE DEZEMBRO DE 2025.

- a) Advertir sobre o perigo das tecnologias digitais modernas.
- b) Convencer o leitor a abandonar o uso das redes sociais.
- c) Explicar como a internet dificulta o processo de leitura.
- d) Argumentar sobre a importância da leitura crítica e da análise profunda.
- e) Demonstrar que a sociedade atual produz mais conhecimento que no passado.

6. Na frase “*Aqueles três alunos dedicados terminaram a tarefa rapidamente*”, as palavras ***aqueles***, ***três***, ***alunos*** e ***dedicados*** são, respectivamente:

- a) Pronome – Substantivo – Numeral – Adjetivo
- b) Pronome – Numeral – Substantivo – Adjetivo
- c) Adjetivo – Pronome – Substantivo – Numeral
- d) Substantivo – Numeral – Adjetivo – Pronome
- e) Numeral – Pronome – Adjetivo – Substantivo

7. Assinale a frase em que o uso da crase está **correto**:

- a) Entreguei o trabalho à professora de português.
- b) Chegaremos à aproximadamente cinco minutos.
- c) Fui à ao banco hoje.
- d) Não obedeceu à os avisos da coordenação.
- e) Hoje vamos à qualquer lugar.

8. Assinale a alternativa em que **todas** as palavras estão grafadas **corretamente**:

- a) Enxergar – Quexa – Proença
- b) Chaminé – Conxeço – Discriminar
- c) Ansioso – Crescer – Expressão
- d) Enchergar – Exceção – Esforço
- e) Chatear – Prechição – Exceção



**PREFEITURA MUNICIPAL DE TERRA DE AREIA
ESTADO DO RIO GRANDE DO SUL**

EDITAL Nº 395, DE 17 DE DEZEMBRO DE 2025.

9. “A *aluna* apresentou um *exímio* desempenho na prova final”. Assinale a alternativa que apresenta um **sinônimo** de “*exímio*”:

- a) Horrível
- b) Excelente
- c) Variado
- d) Hostil
- e) Lindo

10. Assinale a alternativa que completa **corretamente** o diálogo:

- _____ *you* faltou a aula ontem?

- *Eu* faltei _____ estava doente.

- a) por que / porque
- b) por que / por que
- c) porquê / porque
- d) porque / por quê
- e) por quê / por que

MATEMÁTICA

11. Uma receita leva **3/4 de xícara** de açúcar. Ana quer fazer **duas receitas** iguais. Quanto de açúcar ela deve usar ao todo?

- a) 2 xícaras
- b) 1/2 xícara
- c) 3 xícaras
- d) 2 xícaras e 1/2
- e) 1 xícara e 1/2

12. Resolva a equação: **$5x - 12 = 3x + 8$**

- a) $x = 8$
- b) $x = 10$
- c) $x = -10$
- d) $x = -8$
- e) $x = 12$



**PREFEITURA MUNICIPAL DE TERRA DE AREIA
ESTADO DO RIO GRANDE DO SUL**

EDITAL Nº 395, DE 17 DE DEZEMBRO DE 2025.

13. Uma torneira enche um tanque em 6 horas. Quantas horas levará para encher o mesmo tanque se outra torneira igual for aberta junto com a primeira?

- a) 2 horas
- b) 3 horas
- c) 4 horas
- d) 6 horas
- e) 12 horas

14. Um produto custa R\$ 250,00 e recebeu um desconto de 12%. O valor pago após o desconto será:

- a) R\$ 200,00
- b) R\$ 230,00
- c) R\$ 210,00
- d) R\$ 240,00
- e) R\$ 220,00

15. O comprimento de um terreno retangular é **30 m** e sua largura é **18 m**. Qual é a **área** desse terreno?

- a) 360 m²
- b) 480 m²
- c) 540 m²
- d) 600 m²
- e) 720 m²

LEGISLAÇÃO

16. De acordo com a LDB nº 9.394/96, a educação nacional deve ser inspirada em princípios como:

- a) Igualdade de condições para acesso e permanência na escola e liberdade de aprender e ensinar.
- b) Competitividade, meritocracia extrema e ensino conteudista.
- c) Centralização das decisões pedagógicas no governo federal.
- d) Exclusão de práticas avaliativas no processo educativo.
- e) Foco exclusivo na preparação para o mercado de trabalho.

17. As Diretrizes Curriculares Nacionais para o Ensino Fundamental estabelecem que esse nível de ensino deve:

- a) Priorizar apenas conteúdos teóricos, sem articulação com práticas sociais.
- b) Organizar-se exclusivamente por disciplinas independentes.
- c) Garantir formação básica comum e desenvolvimento de habilidades para a vida cidadã.
- d) Eliminar a interdisciplinaridade em seu processo de ensino.
- e) Focar apenas na preparação para exames externos.



**PREFEITURA MUNICIPAL DE TERRA DE AREIA
ESTADO DO RIO GRANDE DO SUL**

EDITAL Nº 395, DE 17 DE DEZEMBRO DE 2025.

18. A gestão democrática na escola, prevista na LDB, pressupõe:

- a) Elaboração do Projeto Político-Pedagógico exclusivamente pelo diretor.
- b) Participação coletiva da comunidade escolar na construção do Projeto Político-Pedagógico.
- c) Substituição de conselhos escolares por decisões individuais da equipe diretiva.
- d) Centralização das decisões na secretaria de educação.
- e) Ausência de avaliação institucional no processo escolar.

19. Segundo a LDB e as Diretrizes específicas, a Educação de Jovens e Adultos deve:

- a) Repetir exatamente o currículo da educação regular, sem adaptações.
- b) Ser oferecida somente para maiores de 21 anos.
- c) Considerar as características, experiências e necessidades dos estudantes, garantindo flexibilidade curricular.
- d) Restringir matrícula apenas a trabalhadores empregados.
- e) Ser obrigatoriamente presencial, sem possibilidade de utilização de metodologias diferenciadas.

20. Marque a alternativa **INCORRETA** de acordo com o Art. 98 da LEI Nº 855 DE 10 DE MAIO DE 2000 que diz: *Após cada período de doze meses de vigência da relação entre o Município e o servidor, terá este direito a férias, na seguinte proporção:*

- a) trinta dias corridos, quando não houver faltado ao serviço mais de cinco vezes.
- b) vinte e quatro dias corridos, quando houver tido de seis a quatorze faltas.
- c) dezoito dias corridos, quando houver tido de quinze a vinte e três faltas.
- d) doze dias corridos, quando houver tido de vinte e quatro a trinta e duas faltas.
- e) dois dias corridos, quando houver tido de trinta e três faltas a cinquenta faltas.

AUXILIAR DE SERVIÇOS GERAIS e AUXILIAR DE SERVIÇOS GERAIS (ESCOLA AMANDIO FRANCISCO FAGUNDES)

Analise o texto abaixo:

Quando eu era menino,
os mais velhos perguntavam:
o que você quer ser quando crescer?



**PREFEITURA MUNICIPAL DE TERRA DE AREIA
ESTADO DO RIO GRANDE DO SUL**

EDITAL Nº 395, DE 17 DE DEZEMBRO DE 2025.

Hoje não perguntam mais.
Se perguntassem,
eu diria que quero ser menino.

Fernando Sabino

Disponível em: <http://www.pensador.com/frase/ODI3MzM2/>.

QUESTÃO 01:

Os sinais de pontuação são recursos gráficos da língua portuguesa utilizados para organizar o texto, indicar pausas, entonações e relações de sentido entre as partes da frase. Sua principal função é tornar a leitura mais clara e compreensível, refletindo as intenções do autor e a estrutura sintática das orações.

No poema acima a primeira frase termina com o sinal que indica uma pergunta (?), este sinal é:

- (A) um ponto de interrogação.
- (B) um ponto de exclamação.
- (C) um ponto final.
- (D) uma vírgula.
- (E) reticências.

QUESTÃO 02:

Sobre o poema, assinale a alternativa correta:

- (A) A primeira parte do poema fala sobre o passado do autor e a segunda parte também.
- (B) A primeira parte do poema fala sobre o passado e a segunda parte fala sobre o futuro.
- (C) A primeira parte do poema fala sobre o passado do autor e a segunda parte sobre o presente.
- (D) A primeira parte do poema fala sobre o presente e a segunda parte sobre o passado.
- (E) A primeira parte do poema fala sobre o futuro e a segunda parte sobre o passado.

QUESTÃO 03:

Conforme as normas da gramática oficial, assinale a alternativa em que todas as palavras estão corretamente acentuadas.

- (A) facil – util – lapis
- (B) fácil – útil – lápis
- (C) fácil – util – lapis



**PREFEITURA MUNICIPAL DE TERRA DE AREIA
ESTADO DO RIO GRANDE DO SUL**

EDITAL Nº 395, DE 17 DE DEZEMBRO DE 2025.

(D) lapis – fácil – útil

(E) lápis – útil – pais

QUESTÃO 04:

Leia a frase e escolha a palavra que pode substituir o termo destacado sem mudar o sentido da frase: “O menino estava cansado depois do treino.”

(A) Animado

(B) Alegre

(C) Exausto

(D) Curioso

(E) Brincalhão

QUESTÃO 05:

Assinale a alternativa em que todas as palavras permanecem iguais no plural (não mudam de forma):

(A) Lápis – ônibus – tórax

(B) Flor – paz – mão

(C) Livro – lápis – mesa

(D) Pão – mão – avião

(E) Cão – mão – luz

QUESTÃO 06:

O Sr. Jorge gasta 1 hora para chegar ao trabalho ele faz o percurso 5 vezes por semana. Assinale a alternativa que apresenta quantas horas ele gasta por semana para chegar no trabalho.

(A) 3 horas

(B) 5 horas

(C) 2 horas

(D) 1 hora

(E) 7 horas



**PREFEITURA MUNICIPAL DE TERRA DE AREIA
ESTADO DO RIO GRANDE DO SUL**

EDITAL Nº 395, DE 17 DE DEZEMBRO DE 2025.

QUESTÃO 07:

Manuela está guardando dinheiro para comprar uma bolsa nova. Ela precisa economizar três notas de R\$ 20,00, quatro de R\$ 5,00 e oito moedas de R\$ 0,50 para comprar o produto. O preço do sapato é:

- (A) R\$ 84,00
- (B) R\$ 48,00
- (C) R\$ 60,00
- (D) R\$ 80,00
- (E) R\$ 94,00

QUESTÃO 08:

Em um açougue do bairro Olaria, o kilo do coxão mole custa R\$ 36,20. Em outro açougue, o coxão mole custa R\$ 40,10. Assinale a alternativa que mostra quanto é possível economizar comprando no açougue mais barato.

- (A) R\$ 4,90
- (B) R\$ 5,00
- (C) R\$ 2,50
- (D) R\$ 3,90
- (E) R\$ 2,80

QUESTÃO 09:

Um ônibus escolar realiza 4 viagens por dia, transportando 65 estudantes por viagem. O total de passageiros transportado no final do dia é:

- (A) 380 passageiros
- (B) 220 passageiros
- (C) 260 passageiros
- (D) 150 passageiros
- (E) 180 passageiros

QUESTÃO 10:



**PREFEITURA MUNICIPAL DE TERRA DE AREIA
ESTADO DO RIO GRANDE DO SUL**

EDITAL Nº 395, DE 17 DE DEZEMBRO DE 2025.

Márcia decidiu ofertar um lanche às pessoas em situação de rua na sua cidade. Para isso, ela decidiu confeccionar sanduíches e foi até à padaria perto da sua casa, onde o kg de pão francês custa R\$ 12,00. Sabendo que Márcia possuía R\$ 42,00 para comprar pães, quantos quilos ela conseguiu comprar?

- (A) 4,5 kg
- (B) 3,5 kg
- (C) 4 kg
- (D) 3 kg
- (E) 5 kg

QUESTÃO 11:

O litro (L) é a unidade de medida utilizada para indicar capacidade, ou seja, o volume que um recipiente pode conter de líquidos como água ou produtos de limpeza. Assinale a alternativa correta sobre essa unidade de medida:

- (A) O litro mede comprimento, assim como o metro.
- (B) A capacidade de 1 litro é equivalente a 10 mililitros.
- (C) O litro é usado apenas para medir peso de sólidos.
- (D) 1 litro (L) corresponde a 1.000 mililitros (mL).
- (E) O mililitro é maior que o litro.

QUESTÃO 12:

Em um ambiente de trabalho, é essencial seguir as normas de segurança para prevenir acidentes. Uma das medidas corretas é:

- (A) Usar os EPI's de acordo com a tarefa e mantê-los sempre em bom estado de conservação.
- (B) Guardar produtos de limpeza em recipientes sem rótulo, para economizar espaço.
- (C) Utilizar equipamentos de proteção individual (EPI) somente quando houver inspeção.
- (D) Trabalhar com pisos molhados sem sinalização, desde que tenha cuidado redobrado.
- (E) Deixar ferramentas espalhadas no local de trabalho para agilizar a próxima tarefa.

QUESTÃO 13:



**PREFEITURA MUNICIPAL DE TERRA DE AREIA
ESTADO DO RIO GRANDE DO SUL**

EDITAL Nº 395, DE 17 DE DEZEMBRO DE 2025.

De acordo com o *Manual de Referência Técnica para Higiene das Mãos* da ANVISA (2021), a higienização das mãos é uma das principais medidas para evitar a disseminação de microrganismos em ambientes de trabalho. Assinale a alternativa correta sobre esse cuidado de higiene pessoal:

- (A) A higienização das mãos é necessária apenas quando há sujeira visível.
- (B) O uso de luvas elimina a necessidade de lavar as mãos antes e depois das atividades.
- (C) As mãos devem ser higienizadas antes e após qualquer atividade que envolva contato com superfícies, pessoas ou materiais potencialmente contaminados.
- (D) O uso de álcool 70% substitui totalmente a lavagem das mãos com água e sabão em qualquer situação.
- (E) A lavagem das mãos deve ser feita apenas no início e no final do expediente de trabalho.

QUESTÃO 14:

A limpeza adequada do ambiente de trabalho deve seguir algumas orientações básicas. Assinale a alternativa que representa uma prática correta:

- (A) Realizar a limpeza sempre no final do expediente, sem necessidade de ventilação.
- (B) Misturar produtos de limpeza diferentes para aumentar o poder de desinfecção.
- (C) Utilizar panos limpos e produtos adequados para cada tipo de superfície.
- (D) Evitar o uso de luvas, pois atrapalham o manuseio de materiais.
- (E) Deixar lixeiras sem tampa para facilitar o descarte.

QUESTÃO 15:

A coleta seletiva é uma prática essencial para a preservação ambiental e o manejo adequado dos resíduos em ambientes públicos e de trabalho. Segundo orientações da ANVISA, os resíduos devem ser separados por tipo de material para facilitar o tratamento e a reciclagem. Assinale a alternativa que apresenta a separação correta dos resíduos conforme o padrão de cores recomendado:

- (A) Papel – verde; Plástico – azul; Vidro – vermelho; Metal – amarelo.
- (B) Papel – azul; Plástico – vermelho; Vidro – verde; Metal – amarelo.
- (C) Papel – amarelo; Plástico – azul; Vidro – vermelho; Metal – verde.
- (D) Papel – azul; Plástico – verde; Vidro – vermelho; Metal – preto.
- (E) Papel – vermelho; Plástico – azul; Vidro – verde; Metal – amarelo.



**PREFEITURA MUNICIPAL DE TERRA DE AREIA
ESTADO DO RIO GRANDE DO SUL**

EDITAL Nº 395, DE 17 DE DEZEMBRO DE 2025.

QUESTÃO 16:

A água é muito importante para a vida e para tudo o que fazemos no dia a dia. Mesmo sendo tão importante, ela não existe em quantidade infinita e pode acabar se for usada sem cuidado. Por isso, nas escolas e nos locais de trabalho, todos precisam ajudar a evitar desperdícios e usar a água de forma responsável. Ter atitudes que economizam água ajuda a proteger o meio ambiente e garante que ela não falte no futuro. Pensando nisso, assinale a alternativa que representa uma atitude correta:

- (A) Deixar a torneira aberta enquanto ensaboia as mãos, para economizar tempo.
- (B) Utilizar mangueira para varrer calçadas, pois é mais prático.
- (C) Reaproveitar a água da limpeza quando possível e fechar as torneiras ao ensaboar as mãos.
- (D) Lavar áreas externas várias vezes ao dia para manter a limpeza.
- (E) Lavar o uniforme diariamente com grande quantidade de água, mesmo sem necessidade.

QUESTÃO 17:

A separação e o descarte correto dos resíduos sólidos são práticas de consciência ecológica. Segundo a ANVISA e o IBAMA, os resíduos devem ser separados conforme o tipo de material e destino adequado. Assinale a alternativa que mostra uma ação ambientalmente correta:

- (A) Misturar papel, plástico e vidro no mesmo recipiente.
- (B) Jogar restos de alimentos junto com lixo reciclável.
- (C) Separar os resíduos conforme as cores da coleta seletiva e reutilizar materiais sempre que possível.
- (D) Queimar o lixo para reduzir o volume.
- (E) Lavar as lixeiras apenas uma vez por mês, para economizar água.

QUESTÃO 18:

Conforme o Regime Jurídico dos Servidores Públicos do Município de Terra de Areia (Lei Municipal nº 2.150/2013), o provimento originário dos cargos públicos ocorre por meio de:

- (A) Readaptação
- (B) Aproveitamento
- (C) Nomeação
- (D) Reversão
- (E) Reintegração



**PREFEITURA MUNICIPAL DE TERRA DE AREIA
ESTADO DO RIO GRANDE DO SUL**

EDITAL Nº 395, DE 17 DE DEZEMBRO DE 2025.

QUESTÃO 19:

A lei municipal que define o regime jurídico dos servidores de Terra de Areia estabelece que os servidores públicos municipais são pessoas legalmente investidas em cargos públicos. O que isso significa?

- (A) Qualquer pessoa pode se tornar servidor sem exigir concurso ou nomeação.
- (B) O servidor precisa estar investido legalmente no cargo, ou seja, nomeado e empossado conforme a lei.
- (C) O servidor pode ocupar o cargo apenas de improviso, por “tempo livre”.
- (D) O cargo público municipal não exige cumprir requisitos legais para investidura.
- (E) O servidor pode trabalhar em cargo municipal e estadual ao mesmo tempo, sem restrição.

QUESTÃO 20:

De acordo com o Regime Jurídico dos Servidores Municipais de Terra de Areia (Lei nº 855/2000), todo servidor público tem direito a:

- (A) Período anual de férias com remuneração.
- (B) Receber salário apenas quando o município tiver sobra de caixa.
- (C) Trabalhar sem horário definido e sem controle de ponto.
- (D) Férias somente se o chefe direto autorizar por escrito.
- (E) Trabalhar sem descanso semanal, desde que deseje.

**MONITOR e MONITOR (ESCOLA AMANDIO FRANCISCO FAGUNDES)
PORTUGUÊS**

Texto: O impacto das redes sociais no cotidiano

As redes sociais se tornaram parte fundamental da vida moderna. Elas surgiram com a promessa de aproximar as pessoas, facilitar a comunicação e permitir o compartilhamento rápido de informações. No entanto, o uso excessivo dessas plataformas tem causado mudanças significativas no comportamento e na rotina dos usuários.

É comum ver pessoas atualizando seus perfis constantemente, preocupadas em mostrar uma vida perfeita ou em acompanhar cada novo conteúdo que aparece no feed. Essa necessidade de estar sempre conectado pode gerar ansiedade, reduzir a produtividade e afastar as pessoas de momentos reais de convivência.

Além disso, muitos passam tanto tempo navegando nas redes sociais que deixam de aproveitar oportunidades simples do dia a dia, como conversar com a família, encontrar amigos ou realizar atividades



**PREFEITURA MUNICIPAL DE TERRA DE AREIA
ESTADO DO RIO GRANDE DO SUL**

EDITAL Nº 395, DE 17 DE DEZEMBRO DE 2025.

sem interrupções. As redes sociais não são necessariamente negativas, mas exigem uso equilibrado e consciente para que não substituam experiências verdadeiras.

1) Segundo o texto, qual é um dos principais problemas do uso excessivo das redes sociais?

- A) A melhoria da comunicação entre familiares.
- B) A facilidade de acesso às informações.
- C) A ansiedade e a perda de momentos reais.
- D) A criação de novos empregos digitais.
- E) O aumento das relações presenciais.

2) O autor afirma que muitas pessoas utilizam as redes sociais para:

- A) Praticar esportes e atividades ao ar livre.
- B) Mostrar uma imagem de vida perfeita.
- C) Realizar tarefas com mais produtividade.
- D) Reduzir o contato com notícias.
- E) Evitar conversas virtuais.

3) O texto explica que o uso equilibrado das redes sociais é importante para:

- A) eliminar totalmente a tecnologia.
- B) substituir conversas presenciais.
- C) impedir que pessoas atualizem seus perfis.
- D) evitar que experiências reais sejam deixadas de lado.
- E) aumentar o número de seguidores.

4) No trecho “Essa necessidade de estar sempre conectado **pode gerar ansiedade...**”, a expressão destaca a ideia de:

- A) algo positivo e incentivador.
- B) uma consequência negativa do uso excessivo.
- C) uma solução para problemas emocionais.



**PREFEITURA MUNICIPAL DE TERRA DE AREIA
ESTADO DO RIO GRANDE DO SUL**

EDITAL Nº 395, DE 17 DE DEZEMBRO DE 2025.

D) um hábito saudável para a mente.

E) uma vantagem da tecnologia.

5) Em “deixam de aproveitar oportunidades simples do **dia a dia**”, a expressão indica circunstância de:

A) modo.

B) lugar.

C) tempo.

D) intensidade.

E) causa.

6) Complete corretamente a frase: “As pessoas _____ o equilíbrio entre o mundo virtual e o real.”

A) busca

B) buscaria

C) buscastes

D) buscam

E) buscou

7) Assinale a alternativa em que a palavra destacada **NÃO** é um substantivo simples:

A) As **redes** sociais fazem parte da rotina moderna.

B) O **conteúdo** publicado influencia muitos jovens.

C) O **vício** digital preocupa especialistas.

D) A **produtividade** diminui com o excesso de uso.

E) A **autoprodução** exagerada afeta a autoestima.

8) A palavra “aproximar”, no trecho “promessa de aproximar as pessoas”, pode ser substituída por:

A) afastar

B) unir

C) esconder



**PREFEITURA MUNICIPAL DE TERRA DE AREIA
ESTADO DO RIO GRANDE DO SUL**

EDITAL Nº 395, DE 17 DE DEZEMBRO DE 2025.

D) criticar

E) limitar

9) Marque a alternativa cuja divisão silábica está INCORRETA:

A) per-fi-l

B) com-por-ta-men-to

C) pro-du-ti-vi-da-de

D) ins-ta-gran

E) rea-li-da-de

10) A expressão presente no texto “momentos reais de convivência” refere-se a:

A) tempo dedicado a atualizar perfis virtuais.

B) encontros e interações verdadeiras entre pessoas.

C) atividades feitas com o uso de redes sociais.

D) curtidas e comentários recebidos online.

E) conversas realizadas apenas por mensagens.

LEGISLAÇÃO

11) Sobre o Artigo 11 — “O prazo de validade do concurso será de até 02 (dois) anos...” — assinale a alternativa CORRETA:

A) prorrogável uma vez, por até igual prazo.

B) prorrogável duas vezes, por até igual prazo.

C) prorrogável uma vez, por até 06 meses.

D) não prorrogável.

E) prorrogável, desde que aprovado por nova lei municipal.

12) Assinale o número da lei municipal que "Dispõe sobre o Regime Jurídico dos Servidores Municipais e dá outras providências":

A) Lei nº 755 de 10 de maio de 2000.



**PREFEITURA MUNICIPAL DE TERRA DE AREIA
ESTADO DO RIO GRANDE DO SUL**

EDITAL Nº 395, DE 17 DE DEZEMBRO DE 2025.

B) Lei nº 255 de 10 de maio de 2000.

C) Lei nº 855 de 10 de maio de 2000.

D) Lei nº 255 de 10 de maio de 2000.

E) Lei nº 355 de 10 de maio de 2000.

13) São requisitos básicos para ingresso no serviço público municipal, EXCETO:

A) ser brasileiro;

B) ter idade mínima de 18 (dezoito) anos, no momento da nomeação;

C) não estar quite com as obrigações militares e eleitorais;

D) gozar de boa saúde física e mental, comprovada mediante exame médico;

E) ter atendido as condições prescritas em lei para o cargo;

14) Segundo a legislação, por quanto tempo deve ocorrer a avaliação do servidor durante o estágio probatório?

A) 36 meses.

B) 40 meses.

C) 24 meses

D) 12 meses.

E) 26 meses

15) Responda corretamente: conforme o artigo 30 “Extinto o cargo ou declarada a sua desnecessidade, o servidor estável”:

A) será exonerado, nos termos do art. 41 da Constituição.

B) ficará fora do quadro funcional, nos termos do art .41, da Constituição federal.

C) ficará em disponibilidade não remunerada, nos termos do art .41, da Constituição federal.

D) ficará em disponibilidade remunerada, nos termos do art .41, da Constituição federal.

E) ficará de férias permanente até ser realocado, nos termos do art .41, da Constituição federal

MATEMÁTICA



**PREFEITURA MUNICIPAL DE TERRA DE AREIA
ESTADO DO RIO GRANDE DO SUL**

EDITAL Nº 395, DE 17 DE DEZEMBRO DE 2025.

16) Marta emprestou R\$ 8.000,00 para sua amiga, que concordou em devolver R\$ 9.200,00. Qual foi a porcentagem de juros cobrada?

- a) 10%
- b) 12%
- c) 15%
- d) 18%
- e) 20%

17) Qual é o resultado da divisão de 4824 por 4?

- A) 1204
- B) 1206
- C) 1208
- D) 1210
- E) 1212

18) Se um carro percorre 150 km com 10 litros de gasolina, quantos litros são necessários para percorrer 375 km?

- A) 25
- B) 22
- C) 35
- D) 30
- E) 32

19) A soma de dois números é 48 e a diferença entre eles é 12. Quanto vale o maior número?

- A) 24
- B) 28
- C) 30
- D) 36
- E) 42



**PREFEITURA MUNICIPAL DE TERRA DE AREIA
ESTADO DO RIO GRANDE DO SUL**

EDITAL Nº 395, DE 17 DE DEZEMBRO DE 2025.

20) Um ônibus saiu da rodoviária às 14h35min e fez uma viagem que durou 2 horas e 47 minutos. A que horas o ônibus chegou ao destino?

- A) 16h52min
- B) 17h12min
- C) 17h47min
- D) 17h30min
- E) 17h22min

OPERÁRIO ESPECIALIZADO

Uma revolução educacionista para completar a Abolição

"O novo livro de Cristovam Buarque, A última trincheira da escravidão, inscreve-se na melhor tradição de pensadores que souberam projetar o Brasil para além do imediato. Diante da nossa imoral desigualdade social, todos ficam tentados a discutir políticas sociais de efeito imediato. Trata-se de aliviar o sofrimento de milhões de brasileiros. O quanto antes. Mas isso não nos deveria eximir de pensar o médio e o longo prazos. E imaginar mudanças para que o nosso desenvolvimento corrija o atraso, a pobreza e a exclusão. Só assim teremos um projeto de país.(...)"

Quem tem o privilégio de ler esse seu livro, logo se convence da importância da cruzada de Cristovam por uma revolução educacionista. Imaginar um Brasil desenvolvido e socialmente justo depende de uma condição essencial: uma educação básica de qualidade com acesso equitativo para ricos e pobres. Nesse livro, Cristovam mostra que o acesso equitativo à escola de qualidade é o principal vetor do desenvolvimento. Mais do que um mero investimento ou política social. E apresenta uma proposta consistente de um Sistema Único Nacional Público para a educação de base.

O mapa para alguém ser livre é a escola quem dá. Sem a educação de qualidade, ninguém pode saber o caminho para viver livremente na contemporaneidade. Somente no século 21, o Brasil começou a matricular todos na escola. Mas em escolas desiguais. Aí surge a última trincheira da escravidão: a dualidade da escola-senzala e da escola-casa-grande.(...)"

Os descendentes sociais dos escravizados estão nas escolas de baixa qualidade. Sem acesso ao aparato básico para exercer uma cidadania plena no novo mundo digital. Eles são a vasta maioria do povo brasileiro. Já para os descendentes sociais dos escravocratas, este triste país garante escolas de nível



**PREFEITURA MUNICIPAL DE TERRA DE AREIA
ESTADO DO RIO GRANDE DO SUL**

EDITAL Nº 395, DE 17 DE DEZEMBRO DE 2025.

internacional e lhes proporciona uma formação com todas as ferramentas do conhecimento necessárias para trabalhar e empreender no novo ambiente tecnológico."

(Trecho de artigo de opinião escrito por Maurício Rands, Advogado formado pela FDR da UFPE, Ph.D. pela Universidade Oxford.)

QUESTÃO 01

A Abolição da escravidão no Brasil, embora tenha sido um marco histórico importante, é frequentemente discutida em textos que destacam que esse processo não se encerrou apenas com a assinatura da Lei Áurea. Muitas análises apontam que a verdadeira Abolição só se completa quando há garantia de direitos, inclusão social, igualdade de oportunidades e reparação histórica. Considerando o conteúdo apresentado no texto mencionado, reflita sobre os argumentos expostos pelo autor e identifique qual é a condição essencial apontada como necessária para que a Abolição seja plenamente efetivada no Brasil.

- (A) A criação de novas políticas de assistência social voltadas exclusivamente às populações mais pobres.
- (B) A oferta de educação básica de qualidade, garantindo acesso igualitário para ricos e pobres.
- (C) A ampliação imediata de programas de transferência de renda para reduzir o sofrimento social.
- (D) A substituição das escolas públicas por instituições privadas de alto desempenho.
- (E) Expansão das políticas sociais de efeito imediato para reduzir o sofrimento do povo.

QUESTÃO 02

O livro *A Última Trincheira da Escravidão*, busca provocar o leitor a analisar não apenas o passado escravista, mas também as marcas deixadas por esse período e os desafios ainda existentes para a efetiva superação dessas desigualdades. O objetivo do autor do livro *A Última Trincheira da Escravidão* é:

- (A) Revelar que não houve Abolição no Brasil.
- (B) Contar a história da Abolição no Brasil.
- (C) Refletir sobre as ações dos revolucionários.
- (D) Denunciar que a desigualdade educacional mantém viva uma forma moderna de escravidão social.
- (E) Defender a educação pública de qualidade e equitativa como caminho para concluir a verdadeira Abolição.



**PREFEITURA MUNICIPAL DE TERRA DE AREIA
ESTADO DO RIO GRANDE DO SUL**

EDITAL Nº 395, DE 17 DE DEZEMBRO DE 2025.

QUESTÃO 03

Leia o trecho adaptado do texto de Cristovam Buarque:

“O mapa para alguém ser livre é a escola quem dá. Sem a educação de qualidade, ninguém pode saber o caminho para viver livremente na contemporaneidade.”

Com base nesse trecho, observe as palavras destacadas abaixo e assinale a alternativa em que a classificação quanto ao número de sílabas está correta.

- (A) escola – trissílaba
- (B) livremente – dissílaba
- (C) educação – trissílaba
- (D) qualidade – dissílaba
- (E) caminho- dissílaba

QUESTÃO 04

Leia o trecho adaptado do livro *A Última Trincheira da Escravidão*, de Cristovam Buarque:

“Sem a educação de qualidade, ninguém pode saber o caminho para viver livremente na contemporaneidade.”

Nesse trecho, observa-se o emprego de uma vírgula logo após a expressão inicial. A pontuação utilizada não é aleatória: ela cumpre uma função sintática específica dentro da estrutura da oração, separando elementos para

organizar e esclarecer o sentido da frase. Considerando as regras de uso da vírgula na língua portuguesa, a vírgula usada nesse trecho tem a função de:

- (A) Separar orações coordenadas sindéticas.
- (B) Indicar uma pausa obrigatória antes do sujeito da oração principal.
- (C) Separar o adjunto adverbial antecipado da oração principal.
- (D) Indicar a omissão de um verbo implícito na frase.
- (E) Marcar uma intercalação explicativa.

QUESTÃO 05



**PREFEITURA MUNICIPAL DE TERRA DE AREIA
ESTADO DO RIO GRANDE DO SUL**

EDITAL Nº 395, DE 17 DE DEZEMBRO DE 2025.

Considerando as regras de acentuação gráfica da Língua Portuguesa, assinale a alternativa cuja palavra está corretamente acentuada e cuja justificativa está adequada à norma culta.

- (A) póvo – é acentuada por ser oxítona terminada em “o”.
- (B) educação – é acentuada por ser oxítona terminada em “ão”.
- (C) qualídade – é acentuada por ser paroxítona terminada em “e”.
- (D) história – é acentuada por ser proparoxítona.
- (E) escóla – é acentuada por ser oxítona.

QUESTÃO 06

Para escrever bem, é importante conhecer as regras básicas da língua portuguesa. Em algumas frases, podem aparecer erros de concordância, de uso das palavras ou de organização das ideias. Entre as frases apresentadas em uma atividade, apenas uma delas estará escrita de forma correta, seguindo as regras mais simples e importantes da gramática. Assinale a frase gramaticalmente correta:

- (A) Não sei por que discutimos.
- (B) Ele não veio por que estava doente.
- (C) Mas porque não veio ontem?
- (D) Não respondi porquê não sabia.
- (E) Eis o porque da minha viagem.

QUESTÃO 07

Carlos decidiu guardar dinheiro aplicando R\$ 5.000,00 em um investimento que aumenta um pouco todo mês. Esse tipo de investimento é chamado de “juros compostos”, porque o dinheiro vai crescendo mês a mês, e cada mês o valor aumentado se soma ao total, fazendo o dinheiro render mais. A taxa de aumento é de 3% ao mês.

Depois de 6 meses com o dinheiro guardado, Carlos quer saber quanto terá juntado no final desse tempo. Usando as informações do problema, calcule qual será o valor total do investimento de Carlos após os 6 meses.

- (A) R\$ 5.927,40
- (B) R\$ 6.000,00



**PREFEITURA MUNICIPAL DE TERRA DE AREIA
ESTADO DO RIO GRANDE DO SUL**

EDITAL Nº 395, DE 17 DE DEZEMBRO DE 2025.


(C) R\$ 5.927,50

(D) R\$ 5.970,25

(E) R\$ 6.250,00

QUESTÃO 08

Observe a figura abaixo e responda: a fração do desenho que não está pintada corresponde a que porcentagem?



(A) 20%

(B) 30%

(C) 25%

(D) 35%

(E) 15%

QUESTÃO 09

Observe atentamente a lista de números apresentada abaixo. Cada um deles possui uma forma diferente de representação: alguns são decimais periódicos, outros são aproximações, outros vêm de operações e há ainda números que pertencem a conjuntos numéricos diferentes.

I. 2,212121...

II. 3,212223...

III. $\pi/5$

IV. 3,1416

V. $\sqrt{-4}$

Considerando essas características, analise os números a seguir e identifique quais deles são irracionais:



**PREFEITURA MUNICIPAL DE TERRA DE AREIA
ESTADO DO RIO GRANDE DO SUL**

EDITAL Nº 395, DE 17 DE DEZEMBRO DE 2025.

- (A) I e II.
- (B) I e IV.
- (C) II e III.
- (D) II e V.
- (E) III e V.

QUESTÃO 10

Um veículo precisa percorrer um trajeto que liga dois distritos do município de Terra de Areia. Durante a viagem, o motorista não mantém a mesma velocidade o tempo todo. Na primeira parte do percurso, que corresponde a um terço do trajeto total, o veículo desloca-se com velocidade média de 60 km/h. Na segunda parte, também equivalente a um terço do trajeto, a velocidade média diminui para 40 km/h. No trecho final, correspondente ao terço restante do caminho, o motorista reduz ainda mais a velocidade, dirigindo a 20 km/h.

Considerando as três etapas da viagem e sabendo que a velocidade média geral depende do tempo total gasto para percorrer todo o trajeto, determine o valor que mais se aproxima da velocidade média do veículo em toda a viagem, expresso em km/h.

- (A) 32,5
- (B) 35
- (C) 37,5
- (D) 40
- (E) 42,5

QUESTÃO 11

Duas tartarugas estavam juntas e começaram a caminhar em linha reta em direção a um lago distante. A primeira tartaruga percorreu 30 metros por dia e demorou 16 dias para chegar ao lago. A segunda tartaruga só conseguiu percorrer 20 metros por dia e, portanto, chegou ao lago alguns dias depois da primeira. Quando a primeira tartaruga chegou ao lago, o número de dias que ela teve que esperar para a segunda tartaruga chegar foi:

- (A) 8
- (B) 9



**PREFEITURA MUNICIPAL DE TERRA DE AREIA
ESTADO DO RIO GRANDE DO SUL**

EDITAL Nº 395, DE 17 DE DEZEMBRO DE 2025.

(C) 10

(D) 12

(E) 15

QUESTÃO 12

Escolhendo aleatoriamente um dia da semana, qual a probabilidade de escolher uma segunda ou uma sexta-feira?

(A) $\frac{4}{7}$

(B) $\frac{1}{7}$

(C) $\frac{2}{7}$

(D) $\frac{3}{7}$

(E) $\frac{6}{7}$

QUESTÃO 13

Segundo a ANVISA e o IBAMA, os resíduos devem ser separados conforme o tipo de material e destino adequado. Assinale a alternativa que mostra uma ação ambientalmente correta:

(A) Misturar papel, plástico e vidro no mesmo recipiente.

(B) Separar os resíduos conforme as cores da coleta seletiva e reutilizar materiais sempre que possível.

(C) Jogar restos de alimentos junto com lixo reciclável.

(D) Queimar o lixo para reduzir o volume.

(E) Lavar as lixeiras apenas uma vez por mês, para economizar água.

QUESTÃO 14

A separação e o descarte adequado dos resíduos sólidos são ações essenciais para proteger o meio ambiente e manter a cidade mais limpa e saudável. Tanto a ANVISA quanto o IBAMA orientam que os resíduos devem ser organizados de acordo com o tipo de material, garantindo que cada um receba o destino correto, como reciclagem, compostagem, tratamento especial ou descarte final. Essa prática evita a poluição do solo, da água e do ar, reduz a quantidade de lixo gerado e contribui para o uso responsável dos recursos naturais.

Pensando nisso, e considerando as recomendações dos órgãos ambientais, analise as alternativas a seguir e identifique qual delas representa uma atitude ambientalmente correta no descarte de resíduos.



**PREFEITURA MUNICIPAL DE TERRA DE AREIA
ESTADO DO RIO GRANDE DO SUL**

EDITAL Nº 395, DE 17 DE DEZEMBRO DE 2025.

- (A) Misturar papel, plástico e vidro no mesmo recipiente.
- (B) Jogar restos de alimentos junto com lixo reciclável.
- (C) Separar os resíduos conforme as cores da coleta seletiva e reutilizar materiais sempre que possível.
- (D) Queimar o lixo para reduzir o volume.
- (E) Lavar as lixeiras apenas uma vez por mês, para economizar água.

QUESTÃO 15

A água é um recurso essencial e limitado. A consciência ecológica no ambiente de trabalho inclui o uso racional desse recurso. Assinale a alternativa que representa uma atitude correta:

- (A) Deixar a torneira aberta enquanto ensaboa as mãos, para economizar tempo.
- (B) Utilizar mangueira para varrer calçadas, pois é mais prático.
- (C) Reaproveitar a água da limpeza quando possível e fechar as torneiras ao ensaboar as mãos.
- (D) Lavar áreas externas várias vezes ao dia para manter a limpeza.
- (E) Lavar o uniforme diariamente com grande quantidade de água, mesmo sem necessidade.

QUESTÃO 16

A coleta seletiva é uma prática essencial para a preservação ambiental e o manejo adequado dos resíduos em ambientes públicos e de trabalho. Segundo orientações da ANVISA, os resíduos devem ser separados por tipo de material para facilitar o tratamento e a reciclagem. Assinale a alternativa que apresenta a separação correta dos resíduos conforme o padrão de cores recomendado:

- (A) Papel – verde; Plástico – azul; Vidro – vermelho; Metal – amarelo.
- (B) Papel – azul; Plástico – vermelho; Vidro – verde; Metal – amarelo.
- (C) Papel – amarelo; Plástico – azul; Vidro – vermelho; Metal – verde.
- (D) Papel – azul; Plástico – verde; Vidro – vermelho; Metal – preto.
- (E) Papel – vermelho; Plástico – azul; Vidro – verde; Metal – amarelo.

QUESTÃO 17

No ambiente de trabalho, a segurança é fundamental para evitar acidentes e proteger a saúde de todos os funcionários. Para isso, existem normas e orientações que devem ser seguidas diariamente, como o uso correto de equipamentos, atenção às sinalizações e cuidados com máquinas, produtos e ferramentas. Essas



**PREFEITURA MUNICIPAL DE TERRA DE AREIA
ESTADO DO RIO GRANDE DO SUL**

EDITAL Nº 395, DE 17 DE DEZEMBRO DE 2025.

atitudes simples ajudam a manter o local de trabalho mais seguro, organizado e livre de riscos. Pensando na importância da prevenção e das boas práticas de segurança, observe as opções apresentadas e identifique qual delas corresponde a uma medida correta que deve ser adotada por qualquer trabalhador.

Uma das medidas corretas é:

- (A) Usar os EPI's de acordo com a tarefa e mantê-los sempre em bom estado de conservação.
- (B) Guardar produtos de limpeza em recipientes sem rótulo, para economizar espaço.
- (C) Utilizar equipamentos de proteção individual (EPI) somente quando houver inspeção.
- (D) Trabalhar com pisos molhados sem sinalização, desde que tenha cuidado redobrado.
- (E) Deixar ferramentas espalhadas no local de trabalho para agilizar a próxima tarefa.

QUESTÃO 18

No contexto brasileiro, o exercício da cidadania envolve, entre outros aspectos, o conjunto de direitos e deveres dos cidadãos. Com base nos conceitos de cidadania, qual das alternativas abaixo melhor descreve essa condição de forma adequada?

- (A) Ter cidadania significa residir num país, independente de participar da vida comunitária ou política.
- (B) Exercício da cidadania implica somente em votar e eleger representantes periodicamente.
- (C) Cidadania refere-se à condição legal de pertencimento ao Estado e inclui direitos civis, políticos e sociais, bem como deveres para com a coletividade.
- (D) A cidadania está restrita aos direitos sociais, como saúde e educação, não contemplando direitos políticos ou civis.
- (E) Cidadania é apenas um conceito abstrato sem impacto real no cotidiano ou nas relações entre o indivíduo e o Estado.

QUESTÃO 19

A penalidade disciplinar tem por finalidade prevenir o cometimento de ilícitos administrativos pelos demais servidores, adquirindo, assim, uma função intimidativa geral, que indica o interesse da Administração em demonstrar que continua zelando pela normalidade do serviço público. De acordo com a lei nº 855, Art. 141 são penalidades disciplinares:

- (A) advertência.



**PREFEITURA MUNICIPAL DE TERRA DE AREIA
ESTADO DO RIO GRANDE DO SUL**

EDITAL Nº 395, DE 17 DE DEZEMBRO DE 2025.

- (B) multa
- (C) suspensão.
- (D) demissão.
- (E) todas as alternativas.

QUESTÃO 20

A lei municipal nº 855, afirma que o servidor tem direito a repouso remunerado, num dia de cada semana, preferencialmente aos domingos, bem como nos dias feriados civis e religiosos, de acordo com o disposto na Lei Municipal nº 807/99. Sobre o repouso semanal, assinale a alternativa correta:

- (A) Nos serviços públicos ininterruptos poderá ser exigido o trabalho nos dias feriados civis e religiosos, hipótese em que as horas trabalhadas serão pagas com acréscimo de 50% (cinquenta por cento), salvo a concessão de outro dia de folga compensatória.
- (B) Nos serviços públicos ininterruptos poderá ser exigido o trabalho nos dias feriados civis e religiosos, hipótese em que as horas trabalhadas serão pagas com acréscimo de 25% (vinte e cinco por cento), salvo a concessão de outro dia de folga compensatória.
- (C) A remuneração do dia de repouso corresponderá a um dia normal de trabalho.
- (D) Nos serviços públicos ininterruptos poderá ser exigido o trabalho nos dias feriados civis e religiosos, hipótese em que as horas trabalhadas serão pagas com acréscimo de 100% (cem por cento), salvo a concessão de outro dia de folga compensatória.
- (E) A remuneração do dia de repouso corresponderá a um dia de trabalho em horário extraordinário.

OPERÁRIO

Leia o texto:

A cadeira do dentista

Carlos Eduardo Novaes

Fazia dois anos que não me sentava numa cadeira de dentista. Não que meus dentes estivessem por todo esse tempo sem reclamar um tratamento. Cheguei a marcar várias consultas, mas começava a suar frio folheando velhas revistas na antessala e me escafedia antes de ser atendido. Na única ocasião em que botei o pé no gabinete do odontólogo – tem uns seis meses – quando ele me informou o preço do serviço, a dor transferiu-se do dente para o bolso.

– Não quero uma dentadura em ouro com incrustações em



**PREFEITURA MUNICIPAL DE TERRA DE AREIA
ESTADO DO RIO GRANDE DO SUL**

EDITAL Nº 395, DE 17 DE DEZEMBRO DE 2025.

e esmeraldas - esclareci -, só preciso tratar o canal.

– É esse o preço de um tratamento de canal!

– Tem certeza? O senhor não estará confundindo o meu canal com o do Panamá?

Adiei o tratamento. Tenho pavor de dentista. O mundo avançou nos últimos 30 anos, mas a Odontologia permanece uma atividade medieval. Para mim não faz diferença um "pau-de-arara" ou uma cadeira de dentista: é tudo instrumento de tortura.

Desta vez, porém, não tive como escapar. Os dentes do lado esquerdo já tinham se transformado em meros figurantes dentro da boca. Ao estourar o pré- molar do lado direito, fiquei restrito à linha de frente para mastigar maminhas e picanhas. Experiência que poderia ter dado certo, caso tivesse algum jeito para esquilo.

https://www.rio.rj.gov.br/dlstatic/10112/4244912/4104925/NJM7_3BIM_ALUNO_2013.pdf

QUESTÃO 01:

Qual o assunto principal desse texto?

- (A) Adiamiento de tratamento.
- (B) O atraso da odontologia.
- (C) Instrumento de tortura.
- (D) Tratamento de dentes.
- (E) Falta de higiene.

QUESTÃO 02:

Com base na maneira como o texto se divide e se compõe, assinale a alternativa que identifica corretamente o tipo de organização utilizado.

- (A) Colunas.
- (B) Parágrafos.
- (C) Itens.
- (D) Versos.
- (E) Nenhuma resposta correta.



**PREFEITURA MUNICIPAL DE TERRA DE AREIA
ESTADO DO RIO GRANDE DO SUL**

EDITAL Nº 395, DE 17 DE DEZEMBRO DE 2025.

QUESTÃO 03:

Leia atentamente as alternativas abaixo e identifique qual delas apresenta uma expressão de tempo.

- (A) “Experiência que poderia ter dado certo, caso tivesse algum jeito para esquilo.”
- (B) “Tenho pavor de dentista.”
- (C) “O mundo avançou nos últimos 30 anos, mas a Odontologia permanece uma atividade medieval.”
- (D) “É esse o preço de um tratamento de canal!”
- (E) “O senhor não estará confundindo o meu canal com o do Panamá?”

QUESTÃO 04:

Leia atentamente o trecho abaixo.

“Cheguei a marcar várias consultas, mas começava a suar frio folheando velhas revistas na antessala me escafedia antes de ser atendido.”

Qual palavra poderia substituir a expressão destacada mantendo o sentido da frase?

- (A) fugia.
- (B) ficava.
- (C) permanecia.
- (D) fixava.
- (E) desmaiava.

QUESTÃO 05:

Considere o trecho retirado do texto: “Tenho pavor de dentista”. Observe as alternativas abaixo e escolha aquela que apresenta um *antônimo adequado* para o termo “pavor”.

- (A) susto
- (B) receio
- (C) coragem
- (D) medo
- (E) inquietação



**PREFEITURA MUNICIPAL DE TERRA DE AREIA
ESTADO DO RIO GRANDE DO SUL**

EDITAL Nº 395, DE 17 DE DEZEMBRO DE 2025.

QUESTÃO 06:

Assinale como a palavra “antessala” deve ser corretamente separada:

- (A) antes-sa-la
- (B) an-tes-sala
- (C) an-tessa-la
- (D) an-te-ssa-la
- (E) an-tes-sa-la

QUESTÃO 07:

O Sr. Anderson leva, diariamente, 1 hora para percorrer o trajeto de sua casa até o local de trabalho. Considerando que ele realiza esse deslocamento apenas nos dias úteis, completando esse percurso 5 vezes ao longo de cada semana, assinale a alternativa que apresenta quantas horas ele gasta por semana para chegar ao trabalho.

- (A) 3 horas
- (B) 5 horas
- (C) 2 horas
- (D) 1 hora
- (E) 7 horas

QUESTÃO 08:

Luiza decidiu juntar dinheiro aos poucos para adquirir uma bolsa nova que ela viu em uma loja. Para alcançar o valor necessário, ela planejou economizar determinadas quantias em diferentes tipos de notas e moedas. Ao final do período de economia, Luiza terá reservado três notas de R\$ 20,00, quatro notas de R\$ 5,00 e oito moedas de R\$ 0,50. Considerando esses valores, determine qual é o preço total da bolsa que ela deseja comprar.

- (A) R\$ 84,00
- (B) R\$ 48,00
- (C) R\$ 60,00
- (D) R\$ 80,00



**PREFEITURA MUNICIPAL DE TERRA DE AREIA
ESTADO DO RIO GRANDE DO SUL**

EDITAL Nº 395, DE 17 DE DEZEMBRO DE 2025.

(E) R\$ 94,00

QUESTÃO 09:

Em um mercado localizado no centro de Terra de Areia, o preço do quilo do coxão mole é de R\$ 36,20. Já em outro estabelecimento da cidade, o mesmo corte de carne é vendido por R\$ 40,10 o quilo. Considerando esses valores e supondo que o consumidor pretende comprar 1 kg do produto, assinale a alternativa que mostra quanto é possível economizar comprando no açougue mais barato.

(A) R\$ 4,90

(B) R\$ 5,00

(C) R\$ 2,50

(D) R\$ 3,90

(E) R\$ 2,80

QUESTÃO 10:

Um ônibus escolar presta serviço diariamente para levar e trazer estudantes da zona rural até a escola. Ao longo do dia, esse ônibus realiza 4 viagens completas, e em cada uma delas transporta exatamente 65 estudantes. Considerando todas as viagens realizadas no mesmo dia, calcule o número total de passageiros transportados pelo ônibus ao final do expediente.

(A) 380 passageiros

(B) 220 passageiros

(C) 260 passageiros

(D) 150 passageiros

(E) 180 passageiros

QUESTÃO 11:

Roberta, sensibilizada com a realidade das pessoas em situação de rua de sua cidade, decidiu preparar sanduíches para distribuir como forma de apoio e solidariedade. Para isso, ela foi até a padaria próxima à sua casa, onde o quilograma do pão francês está sendo vendido por R\$ 12,00. Considerando que Roberta tinha disponível o valor total de R\$ 42,00 exclusivamente para a compra dos pães, determine quantos quilos ela conseguiu adquirir com essa quantia.



**PREFEITURA MUNICIPAL DE TERRA DE AREIA
ESTADO DO RIO GRANDE DO SUL**

EDITAL Nº 395, DE 17 DE DEZEMBRO DE 2025.

- (A) 4,5 kg
- (B) 3,5 kg
- (C) 4 kg
- (D) 3 kg
- (E) 5 kg

QUESTÃO 12

O litro (L) é uma unidade de medida amplamente utilizada no cotidiano para expressar capacidade, isto é, o volume máximo que um recipiente é capaz de armazenar. Essa unidade costuma aparecer em embalagens de água, refrigerante, leite, produtos de limpeza, entre outros itens líquidos que fazem parte da rotina das pessoas. Considerando esse conceito e o uso prático dessa medida no dia a dia, analise as afirmações a seguir e assinale a alternativa correta sobre essa unidade de medida.

- (A) O litro mede comprimento, assim como o metro.
- (B) A capacidade de 1 litro é equivalente a 10 mililitros.
- (C) O litro é usado apenas para medir peso de sólidos.
- (D) 1 litro (L) corresponde a 1.000 mililitros (mL).
- (E) O mililitro é maior que o litro.

QUESTÃO 13:

Em qualquer ambiente de trabalho, a adoção de práticas seguras é fundamental para garantir a integridade física dos colaboradores e evitar acidentes que possam comprometer a saúde e a produtividade. As normas de segurança orientam comportamentos, procedimentos e cuidados indispensáveis no dia a dia profissional. Considerando essas orientações e a importância da prevenção, analise as opções a seguir e identifique qual delas representa uma medida correta de segurança no trabalho.

- (A) Usar os EPI's de acordo com a tarefa e mantê-los sempre em bom estado de conservação.
- (B) Guardar produtos de limpeza em recipientes sem rótulo, para economizar espaço.
- (C) Utilizar equipamentos de proteção individual (EPI) somente quando houver inspeção.
- (D) Trabalhar com pisos molhados sem sinalização, desde que tenha cuidado redobrado.
- (E) Deixar ferramentas espalhadas no local de trabalho para agilizar a próxima tarefa.



**PREFEITURA MUNICIPAL DE TERRA DE AREIA
ESTADO DO RIO GRANDE DO SUL**

EDITAL Nº 395, DE 17 DE DEZEMBRO DE 2025.

QUESTÃO 14:

De acordo com o *Manual de Referência Técnica para Higiene das Mãos* da ANVISA (2021), a higienização das mãos é uma das principais medidas para evitar a disseminação de microrganismos em ambientes de trabalho. Assinale a alternativa correta sobre esse cuidado de higiene pessoal:

- (A) A higienização das mãos é necessária apenas quando há sujeira visível.
- (B) O uso de luvas elimina a necessidade de lavar as mãos antes e depois das atividades.
- (C) As mãos devem ser higienizadas antes e após qualquer atividade que envolva contato com superfícies, pessoas ou materiais potencialmente contaminados.
- (D) O uso de álcool 70% substitui totalmente a lavagem das mãos com água e sabão em qualquer situação.
- (E) A lavagem das mãos deve ser feita apenas no início e no final do expediente de trabalho.

QUESTÃO 15:

A limpeza adequada do ambiente de trabalho é essencial para garantir saúde, bem-estar e organização, além de contribuir para a prevenção de acidentes e para a conservação dos materiais e equipamentos. Para que esse processo seja eficiente, algumas orientações básicas devem ser seguidas diariamente pelos colaboradores responsáveis. Considerando essas práticas recomendadas de higiene e manutenção, analise as alternativas e assinale aquela que representa uma prática correta de limpeza no ambiente de trabalho.

- (A) Realizar a limpeza sempre no final do expediente, sem necessidade de ventilação.
- (B) Misturar produtos de limpeza diferentes para aumentar o poder de desinfecção.
- (C) Utilizar panos limpos e produtos adequados para cada tipo de superfície.
- (D) Evitar o uso de luvas, pois atrapalham o manuseio de materiais.
- (E) Deixar lixeiras sem tampa para facilitar o descarte.

QUESTÃO 16:

A coleta seletiva é uma prática essencial para a preservação ambiental e o manejo adequado dos resíduos em ambientes públicos e de trabalho. Segundo orientações da ANVISA, os resíduos devem ser separados por tipo de material para facilitar o tratamento e a reciclagem. Assinale a alternativa que apresenta a separação correta dos resíduos conforme o padrão de cores recomendado:



**PREFEITURA MUNICIPAL DE TERRA DE AREIA
ESTADO DO RIO GRANDE DO SUL**

EDITAL Nº 395, DE 17 DE DEZEMBRO DE 2025.

- (A) Papel – verde; Plástico – azul; Vidro – vermelho; Metal – amarelo.
- (B) Papel – azul; Plástico – vermelho; Vidro – verde; Metal – amarelo.
- (C) Papel – amarelo; Plástico – azul; Vidro – vermelho; Metal – verde.
- (D) Papel – azul; Plástico – verde; Vidro – vermelho; Metal – preto.
- (E) Papel – vermelho; Plástico – azul; Vidro – verde; Metal – amarelo.

QUESTÃO 17:

A água é um recurso natural indispensável à vida e ao funcionamento de diversos processos produtivos. Apesar de sua importância, trata-se de um recurso limitado, que exige cuidado, responsabilidade e uso consciente por parte de todos. No ambiente de trabalho, a adoção de práticas sustentáveis contribui não apenas para a preservação ambiental, mas também para a redução de desperdícios e para a construção de uma cultura de responsabilidade ecológica. Considerando esses princípios de sustentabilidade, analise as alternativas abaixo e assinale aquela que representa uma atitude correta de uso racional da água no local de trabalho.

- (A) Deixar a torneira aberta enquanto ensaboa as mãos, para economizar tempo.
- (B) Utilizar mangueira para varrer calçadas, pois é mais prático.
- (C) Reaproveitar a água da limpeza quando possível e fechar as torneiras ao ensaboar as mãos.
- (D) Lavar áreas externas várias vezes ao dia para manter a limpeza.
- (E) Lavar o uniforme diariamente com grande quantidade de água, mesmo sem necessidade.

QUESTÃO 18:

A separação e o descarte adequado dos resíduos sólidos são práticas fundamentais para a preservação ambiental e para a manutenção de ambientes limpos e seguros. De acordo com as orientações da ANVISA e do IBAMA, os resíduos devem ser organizados conforme sua natureza — recicláveis, orgânicos, perigosos ou rejeitos — garantindo que cada tipo receba o destino ambientalmente correto. Essas ações contribuem para a redução do impacto ambiental, para a reciclagem e para o uso mais responsável dos recursos naturais. Considerando essas recomendações, analise as alternativas a seguir e assinale aquela que representa uma ação ambientalmente correta.

- (A) Misturar papel, plástico e vidro no mesmo recipiente.
- (B) Jogar restos de alimentos junto com lixo reciclável.



**PREFEITURA MUNICIPAL DE TERRA DE AREIA
ESTADO DO RIO GRANDE DO SUL**

EDITAL Nº 395, DE 17 DE DEZEMBRO DE 2025.

- (C) Separar os resíduos conforme as cores da coleta seletiva e reutilizar materiais sempre que possível.
- (D) Queimar o lixo para reduzir o volume.
- (E) Lavar as lixeiras apenas uma vez por mês, para economizar água.

QUESTÃO 19:

A lei municipal que define o regime jurídico dos servidores de Terra de Areia estabelece que os servidores públicos municipais são pessoas legalmente investidas em cargos públicos. O que isso significa?

- (A) Qualquer pessoa pode se tornar servidor sem exigir concurso ou nomeação.
- (B) O servidor precisa estar investido legalmente no cargo, ou seja, nomeado e empossado conforme a lei.
- (C) O servidor pode ocupar o cargo apenas de improviso, por “tempo livre”.
- (D) O cargo público municipal não exige cumprir requisitos legais para investidura.
- (E) O servidor pode trabalhar em cargo municipal e estadual ao mesmo tempo, sem restrição.

QUESTÃO 20:

De acordo com o Regime Jurídico dos Servidores Municipais de Terra de Areia (Lei nº 855/2000), todo servidor público tem direito a:

- (A) Período anual de férias com remuneração.
- (B) Receber salário apenas quando o município tiver sobra de caixa.
- (C) Trabalhar sem horário definido e sem controle de ponto.
- (D) Férias somente se o chefe direto autorizar por escrito.
- (E) Trabalhar sem descanso semanal, desde que deseje.

RECEPCIONISTA

Leia o texto:

O labirinto dos manuais

Há alguns meses troquei meu celular. Um modelo lindo, pequeno, prático. Segundo a vendedora, era capaz de tudo e mais um pouco. Fotografava, fazia vídeos, recebia e-mails e até servia para telefonar. Abri o manual, entusiasmado. “Agora eu aprendo”, decidi, folheando as 49 páginas. Já na primeira, tentei executar as funções. Duas horas depois, eu estava prestes a roer o aparelho. O manual tentava prever todas as possibilidades. Virou um labirinto de instruções!



**PREFEITURA MUNICIPAL DE TERRA DE AREIA
ESTADO DO RIO GRANDE DO SUL**

EDITAL Nº 395, DE 17 DE DEZEMBRO DE 2025.

Na semana seguinte, tentei baixar o som da campainha. Só aumentava. Buscava o vibracall, não achava. Era só alguém me chamar e todo mundo em torno saía correndo, pensando que era o alarme de incêndio! Quem me salvou foi um motorista de táxi.

— Manual só confunde – disse didaticamente. – Dá uma de curioso.

Insisti e finalmente descobri que estava no vibracall há meses! O único problema é que agora não consigo botar a campainha de volta!

Atualmente, estou de computador novo. Fiz o que toda pessoa minuciosa faria. Comprei um livro. Na capa, a promessa: “Rápido e fácil” – um guia prático, simples e colorido! Resolvi: “Vou seguir cada instrução, página por página. Do que adianta ter um supercomputador se não sei usá-lo?”. Quando cheguei à página 20, minha cabeça latejava. O livro tem 342! Cada vez que olho, dá vontade de chorar! Não seria melhor gastar o tempo relendo Guerra e Paz*?

Tudo foi criado para simplificar. Mas até o microndas ficou difícil. A não ser que eu queira fazer pipoca, que possui sua tecla própria. Mas não posso me alimentar só de pipoca! Ainda se emagrecesse... E o fax com secretária eletrônica? O anterior era simples. Eu apertava um botão e apagava as mensagens. O atual exige que eu toque em um, depois em outro para confirmar, e de novo no primeiro! Outro dia, a luzinha estava piscando. Tentei ouvir a mensagem. A secretária disparou todas as mensagens, desde o início do ano!

Eu sei que para a garotada que está aí tudo parece muito simples. Mas o mundo é para todos, não é? Talvez alguém dê aulas para entender manuais! Ou o jeito seria aprender só aquilo de que tenho realmente necessidade, e não usar todas as funções. É o que a maioria das pessoas acaba fazendo!

(Walcyr Carrasco, Veja SP, 19.09.2007. Adaptado)

QUESTÃO 01

Em um breve relato em primeira pessoa, o narrador descreve sua experiência frustrante ao comprar um novo celular apresentado pela vendedora como moderno, intuitivo e capaz de realizar diversas funções com facilidade. Após a compra, ele tenta seguir as instruções do manual que acompanhava o aparelho, mas percebe que as explicações são excessivamente técnicas, confusas e pouco úteis para quem não domina a linguagem da informática.

O narrador comenta que, apesar das promessas impressas na capa do manual (como “aprenda rápido” e “entenda tudo sobre seu novo dispositivo”), o conteúdo interior não corresponde às expectativas, gerando



**PREFEITURA MUNICIPAL DE TERRA DE AREIA
ESTADO DO RIO GRANDE DO SUL**

EDITAL Nº 395, DE 17 DE DEZEMBRO DE 2025.

mais dúvidas do que esclarecimentos. O texto revela, com humor e leve ironia, a distância entre o mundo real do consumidor comum e o discurso otimista dos materiais promocionais e técnicos.

Pelos comentários feitos pelo narrador, pode-se concluir corretamente que:

- (A) A leitura de obras-primas da literatura é atividade mais produtiva do que utilizar celulares e computadores.
- (B) Os manuais cujas diversas instruções os usuários não conseguem compreender e pôr em prática são improdutivos.
- (C) A vendedora foi convincente, pois o narrador comprou o celular, embora duvidasse das qualidades prometidas pelo aparelho.
- (D) O manual sobre computadores, ao contrário de outros do gênero, cumpria a promessa assumida nos dizeres impressos na capa.
- (E) Os jovens deveriam ensinar computação aos mais velhos, pois, dessa forma, estes últimos entenderiam as funções básicas do equipamento.

QUESTÃO 02

Analise as afirmações sobre trechos do texto e assinale a correta.

- (A) Em – Há alguns meses, troquei meu celular. –, o verbo haver indica tempo decorrido e pode ser substituído, corretamente, por Fazem.
- (B) Em – Fotografava, fazia vídeos, recebia e-mails e até servia para telefonar. –, o termo em destaque expressa a ideia de exclusão.
- (C) Em – Virou um labirinto de instruções! –, o termo em destaque foi empregado em sentido figurado, indicando confusão, incompreensibilidade.
- (D) Em – Fiz o que toda pessoa minuciosa faria. –, o termo em destaque pode ser substituído, corretamente e sem alteração do sentido do texto, por limitada.
- (E) Em – Mas não posso me alimentar só de pipoca! –, a conjunção em destaque expressa a ideia de comparação.

QUESTÃO 03



**PREFEITURA MUNICIPAL DE TERRA DE AREIA
ESTADO DO RIO GRANDE DO SUL**

EDITAL Nº 395, DE 17 DE DEZEMBRO DE 2025.

A essência da teoria democrática é a supressão de qualquer imposição de classe, fundada no postulado ou na crença de que os conflitos e problemas humanos – econômicos, políticos, ou sociais – são solucionáveis pela educação, isto é, pela cooperação voluntária, mobilizada pela opinião pública esclarecida. Está claro que essa opinião pública terá de ser formada à luz dos melhores conhecimentos existentes e, assim, a pesquisa científica nos campos das ciências naturais e das chamadas ciências sociais deverá se fazer a mais ampla, a mais vigorosa, a mais livre, e a difusão desses conhecimentos, a mais completa, a mais imparcial e em termos que os tornem acessíveis a todos.

(Anísio Teixeira, Educação é um direito. Adaptado.)

No trecho “chamadas ciências sociais”, o emprego do termo “chamadas” indica que o autor

- (A) vê, nas “ciências sociais”, uma panaceia, não uma análise crítica da sociedade.
- (B) considera utópicos os objetivos dessas ciências.
- (C) prefere a denominação “teoria social” à denominação “ciências sociais”.
- (D) discorda dos pressupostos teóricos dessas ciências.
- (E) utiliza com reserva a denominação “ciências sociais”.

QUESTÃO 04

No estudo das normas de regência e emprego correto dos termos “a”, “à” e “há”, é comum que candidatos a concursos públicos se deparem com situações em que precisam distinguir entre indicações de tempo decorrido, distância, direção, finalidade ou simples preposição. A compreensão dessas diferenças é essencial para garantir o uso adequado da língua escrita formal.

Considerando esse contexto, observe as orações a seguir, nas quais aparecem lacunas que devem ser preenchidas com as formas corretas, levando em conta aspectos como valor temporal, distância no tempo, preposição exigida pelo verbo e a ocorrência ou não de crase. Leia atentamente:

- I. Precisa falar ____ cerca de três mil operários.*
- II. Daqui ____ alguns anos tudo estará mudado.*
- III. ____ dias está desaparecido.*
- IV. Vindos de locais distantes, todos chegaram ____ tempo ____ reunião.*

- (A) a - a - há - a - à
- (B) à - a - a - há - a



**PREFEITURA MUNICIPAL DE TERRA DE AREIA
ESTADO DO RIO GRANDE DO SUL**

EDITAL Nº 395, DE 17 DE DEZEMBRO DE 2025.

- (C) a - à - a - a - há
- (D) há - a - à - a - a
- (E) a - há - a - à - a.

QUESTÃO 05

Assinale a alternativa em que todas as informações apresentadas para a palavra em destaque estejam corretas.

- (A) sangue: 6 letras, 4 fonemas, um dígrafo
- (B) cliente: 7 letras, 6 fonemas, dois encontros consonantais
- (C) herói: 5 letras, 4 fonemas, ditongo crescente
- (D) geleia: 6 letras, 6 fonemas, tritongo
- (E) herói: 5 letras, 6 fonemas, ditongo

QUESTÃO 06

Considere o seguinte trecho retirado de um diálogo cotidiano, no qual se observa o uso de diferentes classes gramaticais desempenhando funções específicas na estrutura da frase:

“Disse que queria um salgado quando a vimos bem cedo.”

As palavras destacadas no período (cada uma pertencente a uma classe gramatical distinta e exercendo papel próprio na construção do sentido) devem ser analisadas de acordo com sua função morfossintática e sua classificação na gramática normativa da língua portuguesa.

Com base nessa análise, assinale a alternativa que apresenta, na ordem correta, a classificação das palavras destacadas.

- (A) substantivo, conjunção, pronome
- (B) adjetivo, advérbio, substantivo
- (C) adjetivo, advérbio, artigo
- (D) substantivo, preposição, pronome
- (E) advérbio, pronome, preposição



**PREFEITURA MUNICIPAL DE TERRA DE AREIA
ESTADO DO RIO GRANDE DO SUL**

EDITAL Nº 395, DE 17 DE DEZEMBRO DE 2025.

QUESTÃO 07

Observe os seguintes números:

I. 2,212121...

II. 3,212223...

III. $\pi/5$

IV. 3,1416

V. $\sqrt{-4}$

Assinale a alternativa que identifica os números irracionais:

(A) I e II.

(B) I e IV.

(C) II e III.

(D) II e V.

(E) III e V.

QUESTÃO 08

Em uma obra de construção civil, é comum que diferentes unidades de medida de volume sejam utilizadas conforme o tipo de material ou equipamento envolvido no processo. Certos insumos, como areia, brita ou concreto, podem ser medidos em metros cúbicos (m^3) quando transportados em caminhões, mas precisam ter seus valores convertidos para decímetros cúbicos (dm^3) ou litros ao serem registrados em planilhas técnicas, orçamentos, notas fiscais ou cálculos de consumo. Suponha que, durante o acompanhamento de uma etapa da obra, o responsável técnico precisa converter o volume de um reservatório de areia para outra unidade de medida, a fim de padronizar as informações do relatório. Sabe-se que esse reservatório contém 3,5 metros cúbicos (m^3) de areia.

Considerando a relação entre as unidades de volume do Sistema Internacional, qual é o volume equivalente em decímetros cúbicos (dm^3)?

(A) 35.000 dm^3

(B) 35 dm^3

(C) 3.500 dm^3

(D) 350 dm^3



**PREFEITURA MUNICIPAL DE TERRA DE AREIA
ESTADO DO RIO GRANDE DO SUL**

EDITAL Nº 395, DE 17 DE DEZEMBRO DE 2025.

(E) $3,5 \text{ dm}^3$

QUESTÃO 09

Se uma turma é formada por 8 alunos do sexo feminino e 7 do sexo masculino e a professora escolher aleatoriamente um estudante para ir ao quadro resolver um exercício, qual a probabilidade de ser selecionada uma aluna?

(A) $8/15$

(B) $7/15$

(C) $11/15$

(D) $13/15$

(E) $6/15$

QUESTÃO 10

Um veículo viaja entre dois distritos de Terra de Areia, percorrendo a primeira terça parte do trajeto à velocidade média de 60 km/h , a terça parte seguinte a 40 km/h e o restante do percurso a 20 km/h . O valor que melhor aproxima a velocidade média do veículo nessa viagem, em km/h , é

(A) $32,5$

(B) 35

(C) $37,5$

(D) 40

(E) $42,5$

QUESTÃO 11

A contagem precisa do tempo e o acompanhamento de datas históricas são fundamentais tanto para estudos de cronologia quanto para a compreensão de eventos marcantes associados ao calendário. A cidade de Florianópolis, atual capital do estado de Santa Catarina, possui registros que indicam sua fundação em 23 de março de 1726, data que, segundo fontes históricas, ocorreu em um sábado.

Avançando no calendário daquele mesmo ano, considera-se que 90 dias após a fundação, chega-se ao dia 21 de junho, marco tradicional do início do inverno no hemisfério sul. Essa data é caracterizada como o



**PREFEITURA MUNICIPAL DE TERRA DE AREIA
ESTADO DO RIO GRANDE DO SUL**

EDITAL Nº 395, DE 17 DE DEZEMBRO DE 2025.

solstício de inverno, fenômeno astronômico que determina a noite mais longa do ano, influenciando diversos aspectos culturais, climáticos e históricos do período.

Levando em conta essas informações e a sequência dos dias da semana ao longo do calendário, pergunta-se:

Esse dia, 21 de junho de 1726, caiu em uma:

- (A) segunda-feira
- (B) terça-feira
- (C) quarta-feira
- (D) quinta-feira
- (E) sexta-feira

QUESTÃO 12

No Microsoft Excel, a barra de ferramentas Padrão apresenta um conjunto de ícones que permitem ao usuário executar rapidamente diversas ações essenciais, como criação, edição, salvamento e formatação de planilhas. Cada ícone possui uma função específica e padronizada, facilitando a interação com o software e garantindo maior agilidade no uso das principais ferramentas.

A opção que descreve corretamente as funções dos ícones da barra de ferramentas Padrão do Microsoft

Excel (versão 2003 – configuração padrão),



é:

- (A) Link internet, alfabética crescente, alfabética decrescente, assistente de gráfico.
- (B) Inserir hiperlink, máximo, classificação crescente, classificação decrescente, assistente de gráfico.
- (C) Inserir hiperlink, autoSoma, alfabética crescente, alfabética decrescente, assistente de dados.
- (D) Link internet, média, classificação alfabética crescente, classificação alfabética decrescente, assistente de gráfico.
- (E) Inserir hiperlink, autoSoma, classificação crescente, classificação decrescente, assistente de gráfico.

QUESTÃO 13

O Windows é um sistema operacional desenvolvido pela Microsoft que alcançou grande popularidade e dominou o mercado para computadores pessoais ao longo de sua história. Desde 1985, várias versões do Windows foram lançadas e incluem famílias e subfamílias de sistemas que atendem não apenas



**PREFEITURA MUNICIPAL DE TERRA DE AREIA
ESTADO DO RIO GRANDE DO SUL**

EDITAL Nº 395, DE 17 DE DEZEMBRO DE 2025.

consumidores, mas também diversos setores da indústria de computação. O Sistema Operacional Windows contém atalhos que podem aumentar a produtividade de seus usuários.

Analise as seguintes informações sobre os atalhos do Word:

- | |
|---|
| I. Ctrl+V: Colar o conteúdo da Área de transferência.
II Ctrl+C: Copiar o conteúdo selecionado para a área de transferência.
III. Esc: bloqueia o computador. |
|---|

Assinale a alternativa correta:

- (A) I, apenas.
- (B) II, apenas.
- (C) III, apenas.
- (D) II, III, apenas.
- (E) I, II, apenas.

QUESTÃO 14

De acordo com o Manual de Redação da Presidência da República (3ª edição, 2018), os pronomes de tratamento são expressões utilizadas para dirigir-se a autoridades, personalidades ou destinatários de comunicações oficiais, respeitando a formalidade e o grau hierárquico de cada cargo. Segundo o Manual, qual é o pronome de tratamento correto a ser utilizado para se dirigir ao Presidente da Câmara de Vereadores?

- (A) Vossa Senhoria.
- (B) Vossa Reverendíssima.
- (C) Vossa Magnificência.
- (D) Vossa Excelência.
- (E) Vossa Ilustríssima.

QUESTÃO 15



**PREFEITURA MUNICIPAL DE TERRA DE AREIA
ESTADO DO RIO GRANDE DO SUL**

EDITAL Nº 395, DE 17 DE DEZEMBRO DE 2025.

No ambiente de edição de textos, o domínio de teclas de atalho é uma habilidade que aumenta significativamente a produtividade do usuário, permitindo executar comandos de forma rápida e eficiente. No Microsoft Word, um dos editores de texto mais utilizados em ambientes acadêmicos, corporativos e administrativos, essas combinações de teclas facilitam ações como salvar, copiar, colar, desfazer alterações e, especialmente, imprimir documentos. A impressão é uma etapa comum no trabalho cotidiano com textos — desde relatórios e memorandos até ofícios, cartas e atividades escolares. Conhecer o atalho correto evita que o usuário tenha de navegar por menus e submenus, acelerando o processo e reduzindo erros operacionais.

Considerando esse contexto e o uso de atalhos no Microsoft Word, destaque a alternativa que apresenta a tecla de atalho responsável por abrir diretamente a janela de impressão do documento.

- (A) CTRL + C
- (B) CTRL + P
- (C) CTRL + L
- (D) CTRL + Y
- (E) CTRL + Z

QUESTÃO 16

Os navegadores de internet são programas fundamentais para acessar páginas web, realizar pesquisas, utilizar serviços online, assistir vídeos e interagir com plataformas digitais. Entre os navegadores mais conhecidos estão aqueles desenvolvidos por empresas como Google, Mozilla, Microsoft e Opera Software. Apesar de existir uma grande variedade de softwares instalados em um computador, nem todos são destinados à navegação na internet, pois alguns possuem funções totalmente diferentes, como gerenciamento de arquivos, configuração do sistema ou edição de documentos.

Considerando essa informação, assinale a alternativa que não corresponde a um navegador de internet:

- (A) Google Chrome
- (B) Mozilla Firefox



**PREFEITURA MUNICIPAL DE TERRA DE AREIA
ESTADO DO RIO GRANDE DO SUL**

EDITAL Nº 395, DE 17 DE DEZEMBRO DE 2025.

- (C) Microsoft Edge
- (D) Opera
- (E) Windows Explorer

QUESTÃO 17

A comunicação definida pela troca de informações entre o emissor e o receptor tem a finalidade de transmitir uma mensagem (conteúdo). Nesse sentido, a linguagem representa o uso da língua em diversas situações comunicativas. Em nosso cotidiano é comum que as linguagens verbal e não verbal estejam envolvidas.

Qual das alternativas abaixo representa a linguagem verbal usada nas partidas de futebol?

- (A) Bandeiras de impedimento
- (B) Cartões vermelho e amarelo
- (C) Locutor do Futebol
- (D) O apito do juiz
- (E) Todas as opções estão corretas

QUESTÃO 18

A recepção não é somente o lugar por onde passam pessoas, mas sim o primeiro contato do cliente, o que ratifica a importância de um recepcionista bem preparado para prestar um atendimento de qualidade. O telefone ainda é um instrumento essencial, por isso é necessário levar em consideração alguns fatores quando se precisar falar com um cliente ou mesmo para conquistar sua atenção.

Com relação às regras, postura e comunicação por telefone assinale a alternativa incorreta:

- (A) Digitar e falar ao telefone ao mesmo tempo faz com que o tempo para a realização do trabalho seja otimizado.
- (B) Evite as expressões “quem fala?”, “quem é?” ou “quem gostaria?”. Seja cortês ao telefone e pergunte de uma outra forma como “por gentileza, quem deseja falar ou quem quer falar?”
- (C) Se o cliente precisar aguardar na linha, não o deixe esperando por muito tempo, pois correrá o risco de ele desligar o telefone ou atender outra linha interna dele.



**PREFEITURA MUNICIPAL DE TERRA DE AREIA
ESTADO DO RIO GRANDE DO SUL**

EDITAL Nº 395, DE 17 DE DEZEMBRO DE 2025.

(D) Use um tom de voz firme, claro e gentil ao telefone. Evite gírias, diminutivos, gritos, intimidades (amor, bem, querida).

(E) Nunca fale o habitual “alô”.

QUESTÃO 19

De acordo Conforme a Lei nº 855 de 10 de maio de 2000 que “dispõe sobre o regime jurídico dos servidores municipais e dá outras providências”, em seu artigo 22, afirma que é condição para a aquisição da estabilidade a avaliação do desempenho no estágio probatório por Comissão Especial, nos termos deste artigo.

Assinale a opção que apresenta uma condicionalidade correta:

(A) A avaliação será realizada semestralmente e a cada uma corresponderá um competente boletim.

(B) Quando os afastamentos, no período considerado, forem superiores a 45 (quarenta e cinco) dias, a avaliação do estágio ficará suspensa até o retorno do servidor às suas atribuições, retornando a contagem do tempo anterior para efeito do trimestre.

(C) Nos casos de cometimento de falta disciplinar, inclusive durante o primeiro e o último trimestre, o estagiário terá sua responsabilidade apurada através de sindicância, ou processo administrativo disciplinar, observadas as normas estatutárias independente da continuidade da apuração do estágio probatório pela comissão especial.

(D) A avaliação será realizada mensalmente e a cada uma corresponderá um competente boletim.

(E) Sempre que se concluir pela exoneração do estagiário, ser-lhe-á assegurada vista do processo, pelo prazo de 10 (dez) dias úteis, para apresentar defesa e indicar as provas que pretenda produzir.

QUESTÃO 20

De acordo com o Artigo 72 da Lei Municipal nº 855/2000 (Terra de Areia), além do vencimento básico, poderão ser pagas ao servidor municipal as seguintes vantagens, exceto:

(A) gratificações e adicionais.

(B) indenizações.

(C) auxílio para diferença de caixa.



**PREFEITURA MUNICIPAL DE TERRA DE AREIA
ESTADO DO RIO GRANDE DO SUL**

EDITAL Nº 395, DE 17 DE DEZEMBRO DE 2025.

(D) prêmio assiduidade.

(E) auxílio uniforme.

MOTORISTA

1- O Triângulo é um equipamento de uso obrigatório nos veículos, tem por finalidade:

- a) Proporcionar maior estabilidade ao veículo
- b) Indicar que existe um veículo parado na via
- c) Permitir a troca ou calibragem dos pneus
- d) Acionar dispositivos eletrônicos nos veículos
- e) Nenhuma das alternativas está correta

2- Realizar transporte escolar sem autorização, de acordo com o artigo 230 do CTB, é uma infração de natureza:

- a) Gravíssima
- b) Média
- c) Leve
- d) Grave
- e) Gravíssima acrescido o valor da multa de 5 x

3- É considerado um crime de trânsito:

- a) Passar o sinal vermelho (semáforo)
- b) Deixar o condutor, envolvido em acidente, de prestar socorro as vítimas quando possível.
- c) Estacionar em local proibido
- d) Fazer falsa declaração de domicílio
- e) Todas as alternativas

4- Considere as infrações:

I- Não utilizar o cinto de segurança

II- Dirigir sob efeito de álcool

III- Trafegar na contra mão em vias de sentido duplo

São infrações de natureza grave as indicadas em:

- a) I e II apenas
- b) I apenas
- c) II apenas
- d) II e III apenas
- e) I e III apenas

5- O condutor de veículos automotores deve conhecer as leis de trânsito e cumpri-las. Esta afirmação é:

- a) Verdadeira em parte, pois é impossível saber todas as normas de trânsito
- b) Falsa, pois não é sempre que o condutor deve cumprir as leis de trânsito



**PREFEITURA MUNICIPAL DE TERRA DE AREIA
ESTADO DO RIO GRANDE DO SUL**

EDITAL Nº 395, DE 17 DE DEZEMBRO DE 2025.

- c) Verdadeira
- d) Falsa, pois só instrutores de CFCs devem conhecer todas as normas de trânsito
- e) Falsa

6- Coloque verdadeiro ou falso nas sentenças abaixo e marque a alternativa que representa a sequência correta. Dirigir sob o efeito de álcool:

- () Pode ser multado em R\$2.934,70
- () Coloca em risco a própria vida e a dos demais usuários do trânsito
- () Está livre de qualquer punição
- () Está sujeito a suspensão do direito de dirigir por 12 meses
- () Terá o recolhimento da CNH

- a) VVFVV
- b) VVVFV
- c) VFVVF
- d) VFFFV
- e) VVFVF

7- Sinais que servem para alertar os usuários com antecedência sobre a situação de perigo na via, para que possam agir de forma adequada. Esse é o conceito de sinalização de:

- a) Sinalização de regulamentação
- b) Sinalização de indicação
- c) Sinalização especial
- d) Sinalização de advertência
- e) Sinalização de obras

8- Conjunto de técnicas que o condutor deve adotar a sua maneira de dirigir para torná-la mais segura para si mesmo e para os outros participantes do trânsito é o conceito de:

- a) Direção compartilhada
- b) Direção defensiva
- c) Direção solidária

- d) Direção passiva
- e) Direção objetiva

9- Possuem prioridade de passagem os veículos:

- a) De duas rodas
- b) Carroças
- c) De emergência em serviço, com sirenes e luzes vermelhas ligadas (giroflex)
- d) Veículos que transportam cargas perigosas
- e) Todas as alternativas

10- As técnicas de direção e pilotagem defensiva estão agrupadas em cinco elementos básicos que são:



**PREFEITURA MUNICIPAL DE TERRA DE AREIA
ESTADO DO RIO GRANDE DO SUL**

EDITAL Nº 395, DE 17 DE DEZEMBRO DE 2025.

- a) Conhecimento, Atenção, Previsão, Habilidade, Ação
- b) Conhecimento, Atenção, Negligência, Habilidade, Ação
- c) Conhecimento, Alteração, Previsão, Honestidade, Ação
- d) Conhecimento, Empatia, Simpatia, Habilidade, Reação
- e) Nenhuma das alternativas

11- A placa de advertência A-4a, conforme ilustra a figura, alerta o condutor que a frente existe:

- a) Curva à direita
- b) Pista escorregadia
- c) Curva sinuosa à esquerda
- d) Curva acentuada em “S” à esquerda
- e) Curva acentuada em “S” à direita



12- Ações importantes que devem ser tomadas quando nos deparmos com um acidente de trânsito são:

- a) Sinalizar o local, chamar o socorro e verificar a situação das vítimas
- b) Chamar o socorro apenas
- c) Aguardar que alguém chame o socorro
- d) Somente remover a vítima do local
- e) Nenhuma das alternativas

13- De acordo com o CTB (Código de trânsito Brasileiro) é equipamento obrigatório para automóveis:

- a) Certificado de licenciamento do veículo
- b) Ar Condicionado
- c) Para-choques dianteiro e traseiro
- d) Carteira Nacional de Habilitação
- e) Tapetes

14- Dos elementos presentes nos automóveis, o que NÃO contribui para a poluição é:

- a) Óleo diesel
- b) Borracha
- c) Ferro
- d) Álcool
- e) Vapor de água

15- Considere as atribuições conferidas aos departamentos estaduais de trânsito (DETRANS) assinalando V para verdadeiro e F para falso:

- () Vistoriar e emplacar veículos.
- () Regulamentar o processo de primeira habilitação.
- () Alterar a legislação de trânsito.
- () Expedir a carteira nacional de habilitação.



**PREFEITURA MUNICIPAL DE TERRA DE AREIA
ESTADO DO RIO GRANDE DO SUL**

EDITAL Nº 395, DE 17 DE DEZEMBRO DE 2025.

() Construir rodovias federais.

A sequência que representa corretamente se encontra na alternativa:

- a) V, V, V, F, F
- b) V, F, F, V, V
- c) V, V, F, V, F
- d) F, V, V, V, F
- e) V, V, V, V, V

16-Ao entrar em exercício no município de Terra de Areia, o servidor nomeado para cargo de provimento efetivo ficará sujeito a estágio probatório por período de 36 (trinta e seis) meses, durante o qual a sua aptidão, capacidade e desempenho serão objeto de avaliação por comissão especialmente designada para este fim, com vista a aquisição da estabilidade, observados os seguintes quesitos, exceto:

- (a) assiduidade.
- (b) moralidade.

- (c) disciplina.
- (d) eficiência.
- (e) responsabilidade.

17-A Lei Municipal nº 855/2000, que dispõe sobre o regime jurídico dos servidores públicos de Terra de Areia, estabelece critérios relacionados à estabilidade no serviço público. Considerando o previsto na legislação municipal, o servidor público nomeado para cargo efetivo adquire estabilidade no serviço público municipal após:

- (a) 6 meses de estágio probatório, desde que bem avaliado.
- (b) 1 ano de efetivo exercício, com avaliação satisfatória.
- (c) 2 anos de efetivo exercício, sem necessidade de avaliação.
- (d) 3 anos de efetivo exercício e avaliação especial de desempenho.
- (e) 5 anos de serviço público contínuo.

18-Assinale o número da lei municipal que "Dispõe sobre o Regime Jurídico dos Servidores Municipais e dá outras providências":

- (a) lei nº 755 de 10 de maio de 2000.
- (b) lei nº 255 de 10 de maio de 2000.
- (c) lei nº 855 de 10 de maio de 2000.
- (d) lei nº 255 de 10 de maio de 2000.
- (e) lei nº 355 de 10 de maio de 2000.

19-São requisitos básicos para ingresso no serviço público municipal, EXCETO:

- (a) ser brasileiro;
- (b) ter idade mínima de 18 (dezoito) anos, no momento da nomeação;
- (c) não estar quite com as obrigações militares e eleitorais;
- (d) gozar de boa saúde física e mental, comprovada mediante exame médico;
- (e) ter atendido as condições prescritas em lei para o cargo;



**PREFEITURA MUNICIPAL DE TERRA DE AREIA
ESTADO DO RIO GRANDE DO SUL**

EDITAL Nº 395, DE 17 DE DEZEMBRO DE 2025.

20-Segundo a legislação, por quanto tempo deve ocorrer a avaliação do servidor durante o estágio probatório?

- (a) 36 meses.
- (b) 40 meses.
- (c) 24 meses
- (d) 12 meses.
- (e) 26 meses

TÉCNICO EM ENFERMAGEM

Reconhecimento facial: o que se pode esperar dele?

A tecnologia não é nova, mas está cada vez mais avançada. O conceito foi desenvolvido na década de 1960 por Woodrow "Woody" Bledsoe para a Panoramic Research e até hoje os preceitos são os mesmos: boa parte dos sistemas ainda aposta em imagens 2D, já que a maioria dos bancos de dados de referência tem apenas esse tipo de foto.

Ela é, portanto, uma forma de autenticação biométrica que permite confirmar uma identidade. O processo de identificação usa as medidas do formato e da estrutura facial, que são únicas para cada indivíduo. Aí começam os problemas: embora seja bastante interessante, ela pode ser controversa.

É essa a tecnologia usada no Facebook para sugerir marcações em fotos — e quem tem irmãos sabe que o sistema pode ser bastante falho na tarefa de diferenciar pessoas com características semelhantes. Isso porque informações-chave das imagens (como o tamanho e o formato de nariz, boca e olhos, bem como a distância entre diferentes pontos da face) são comparadas com um banco de dados. Há até quem tenha processado a rede social por ter sido identificado em imagens sem ser informado.

Disponível em: <<https://olhardigital.com.br/noticia/reconhecimento-facial-o-que-se-pode-esperar-dele/84009>>. (Adaptado.)

QUESTÃO 01

Com o avanço acelerado das tecnologias digitais, novos métodos de identificação e verificação de identidade têm ganhado destaque, especialmente aqueles baseados em características físicas únicas de cada indivíduo. Entre essas inovações está o reconhecimento facial, técnica de autenticação biométrica que, embora tenha sido desenvolvida ainda na década de 1960, vem sendo aperfeiçoada e incorporada a diferentes sistemas e plataformas contemporâneas.

O texto apresentado explica que essa tecnologia funciona por meio da análise de medidas e proporções específicas do rosto — como o formato de olhos, nariz, boca e a distância entre diferentes pontos faciais — comparando esses dados a um banco de imagens já registrado. Embora amplamente utilizada em redes sociais, serviços digitais e até em dispositivos pessoais, a ferramenta ainda enfrenta desafios e controvérsias, especialmente quando lida com rostos semelhantes, erros de identificação ou questões de privacidade.

Considerando as informações discutidas no texto sobre o funcionamento e as implicações do reconhecimento facial, entre as possibilidades promovidas pelo desenvolvimento de novas tecnologias de autenticação biométrica, o texto destaca:

- (A) a auditoria das ações públicas por meio da fiscalização remota.



**PREFEITURA MUNICIPAL DE TERRA DE AREIA
ESTADO DO RIO GRANDE DO SUL**

EDITAL Nº 395, DE 17 DE DEZEMBRO DE 2025.

- (B) a distinção de postagens vinculadas às redes sociais, como o Facebook.
- (C) a obtenção de informações por meio de traços faciais singulares.
- (D) a disponibilidade de recursos de publicidade com base em expressões faciais.
- (E) o armazenamento de dados entre órgãos governamentais e privados.

QUESTÃO 02

O texto aborda a crescente utilização da tecnologia de reconhecimento facial em diferentes contextos, destacando seu potencial para aprimorar a identificação de pessoas, reforçar a segurança e agilizar processos cotidianos. Apesar dos avanços e benefícios apontados, o texto também ressalta que essa tecnologia “pode ser controversa”, chamando atenção para possíveis impactos negativos associados ao seu uso.

Considerando o conteúdo apresentado, essa controvérsia está relacionada principalmente:

- (A) ao fato de que a tecnologia foi criada na década de 1960 e, por isso, é considerada ultrapassada e pouco eficiente.
- (B) ao uso de imagens de baixa resolução, o que impede o funcionamento adequado dos sistemas de reconhecimento facial.
- (C) ao risco de identificação incorreta de indivíduos e ao uso de dados faciais sem o conhecimento ou consentimento das pessoas envolvidas.
- (D) à impossibilidade de aplicar técnicas biométricas em redes sociais, já que essas plataformas não autorizam esse tipo de tecnologia.
- (E) à falta de bancos de dados suficientes para comparar as imagens, o que inviabiliza o desenvolvimento da tecnologia.

QUESTÃO 03



Diante da visão de um prédio com uma placa indicando SAPATARIA PAPALIA, um jovem deparou-se com a dúvida: como pronunciar a palavra PAPALIA? Levado o problema à sala de aula, a discussão girou em torno da utilidade de conhecer as regras de acentuação e, especialmente, do auxílio que elas podem dar à correta pronúncia de palavras. Após discutirem pronúncia, regras de acentuação e escrita, três alunos apresentaram as seguintes conclusões a respeito da palavra PAPALIA:

- I. Se a sílaba tônica for o segundo PA, a escrita deveria ser PAPÁLIA, pois a palavra seria paroxítona terminada em ditongo crescente.*
- II. Se a sílaba tônica for LI, a escrita deveria ser PAPALÍA, pois “i” e “a” estariam formando hiato.*
- III. Se a sílaba tônica for LI, a escrita deveria ser PAPALIA, pois não haveria razão para o uso de acento*



**PREFEITURA MUNICIPAL DE TERRA DE AREIA
ESTADO DO RIO GRANDE DO SUL**

EDITAL Nº 395, DE 17 DE DEZEMBRO DE 2025.

gráfico.

A conclusão está correta apenas em:

- (A) I.
- (B) II.
- (C) III.
- (D) I e II.
- (E) I e III.

QUESTÃO 04

No estudo da acentuação gráfica, as oxítonas — palavras cuja sílaba tônica é a última — seguem regras específicas definidas pelo Acordo Ortográfico da Língua Portuguesa. De acordo com essas normas, recebem acento gráfico as oxítonas terminadas em a(s), e(s), o(s), bem como aquelas que terminam em em / ens. Além disso, sua correta grafia depende da observância de regras relacionadas à tonicidade, formação de verbos, enclise com pronomes e aplicação adequada da reforma ortográfica vigente.

Considerando esse conjunto de regras e analisando as palavras apresentadas em cada alternativa, marque aquela em que todas as palavras classificáveis como oxítonas encontram-se escritas corretamente segundo a ortografia oficial do português brasileiro.

Marque a alternativa em que todas as oxítonas estão escritas corretamente:.

- (A) Pará, detê-los, troféu.
- (B) Jilos, ama-la, além.
- (C) Sustém, cartél, destroi.
- (D) Cadê, compô-la, constroi.
- (E) Caratê, cipó, povareu.

QUESTÃO 05

A alternativa em que ambas as palavras estão acentuadas devido a uma mesma regra de acentuação gráfica é:

- (A) assédio, militância.
- (B) abundância, juízes.
- (C) astúcia, árvores.
- (D) perspicácia, túnel.
- (E) penitências, próton.

QUESTÃO 06

Infecções Sexualmente Transmissíveis (IST) são causadas por diferentes micro-organismos. No Sistema Único de Saúde (SUS), há profissionais, métodos diagnósticos e tratamentos disponíveis, além de medidas de prevenção. Ao realizar um trabalho de educação em saúde sobre IST, o técnico de enfermagem deve incluir a seguinte orientação:

- (A) Se a mulher detectar presença de corrimento vaginal, deve observar a consistência, a cor, as alterações no odor, a presença de prurido e/ou irritação local para que possa fazer um relato objetivo e preciso na consulta de enfermagem e/ou médica para a avaliação de infecção vaginal.
- (B) Adolescentes com vida sexualmente ativa podem receber preservativos externos (camisinhas)



**PREFEITURA MUNICIPAL DE TERRA DE AREIA
ESTADO DO RIO GRANDE DO SUL**

EDITAL Nº 395, DE 17 DE DEZEMBRO DE 2025.

gratuitamente nas Unidades Básicas de Saúde, mediante apresentação do cartão do SUS e de um documento com foto.

- (C) No caso dos preservativos externos, a camisinha masculina é descartável e de uso único, mas a feminina pode ser reutilizada desde que seja adequadamente higienizada.
- (D) Gestação e lactação são condições que contraindicam a imunização contra a hepatite B.
- (E) A sífilis é uma doença grave e deve ser prevenida com medidas comportamentais eficazes, pois é de difícil tratamento em virtude da resistência do *T. pallidum* aos antibióticos existentes.

QUESTÃO 07

No que se refere às ações de rastreamento para detecção precoce do câncer de mama segundo o documento de consenso do Ministério da Saúde, assinale a alternativa CORRETA:

- (A) A mamografia anual deve ser oferecida a todas as mulheres a partir de 40 anos de idade.
- (B) O exame clínico das mamas é indicado apenas a partir dos 50 anos de idade.
- (C) O rastreamento por mamografia para mulheres entre 50 e 69 anos deve ter intervalo máximo de dois anos entre exames.
- (D) A ultra-sonografia de mama substitui a mamografia em mulheres com mais de 50 anos.
- (E) Mulheres com história familiar de câncer de mama não fazem parte dos grupos de risco definidos no documento.

QUESTÃO 08

As arboviroses, especialmente a Dengue, permanecem entre os principais agravos de notificação compulsória no Brasil. O Guia de Bolso de Doenças Infecciosas e Parasitárias do Ministério da Saúde apresenta critérios atualizados de suspeição, classificação de risco e conduta, que orientam o trabalho da equipe de enfermagem nos diferentes níveis de atenção.

Durante o acolhimento na Atenção Primária, chega um paciente adulto com quadro febril de início recente, acompanhado de mialgia intensa, cefaleia, dor retro-orbital e mal-estar geral. Na avaliação inicial, o técnico de enfermagem realiza a prova do laço, que resulta positiva. Considerando as recomendações do Ministério da Saúde descritas no Guia de Bolso e as atribuições da equipe de enfermagem no reconhecimento precoce de sinais de gravidade, assinale a alternativa CORRETA sobre a conduta adequada e a classificação desse paciente:

- (A) A prova do laço negativa exclui a possibilidade de dengue grave, sendo suficiente para manter apenas hidratação oral.
- (B) Em caso de prova do laço positiva ou sinais de alarme, a conduta pode incluir hidratação intravenosa e monitorização, podendo haver internação (correspondendo ao grupo B da classificação).
- (C) Quando o paciente apresenta febre por até sete dias, associado a cefaleia, dor retro-orbital e artralgias, sem presença de mosquito vetorial no local, não se considera caso suspeito de dengue.
- (D) A única medida preventiva recomendada é o uso de antitérmico, não sendo imprescindível o combate ao vetor no ambiente domiciliar.
- (E) A notificação da dengue é facultativa para casos leves, devendo ser realizada apenas quando houver óbito ou forma grave.



**PREFEITURA MUNICIPAL DE TERRA DE AREIA
ESTADO DO RIO GRANDE DO SUL**

EDITAL Nº 395, DE 17 DE DEZEMBRO DE 2025.

QUESTÃO 09

Um paciente de 52 anos, portador de diagnóstico recente de Diabetes Mellitus tipo 2, procura a unidade de atenção primária. Na clínica de enfermagem, observam-se os seguintes dados: IMC = 31 kg/m², circunferência abdominal aumentada, sedentarismo e pai com história de diabetes.

Considerando as diretrizes apresentadas no Caderno n.º 36 para a Atenção Básica, assinale a alternativa CORRETA em relação ao rastreamento e acompanhamento dessa pessoa:

- (A) O rastreamento do diabetes tipo 2 em adultos assintomáticos está contraindicado para quem tem idade ≥ 45 anos, sendo mantido apenas em casos sintomáticos.
- (B) A consulta de enfermagem deve incluir orientação para mudança de estilo de vida (alimentação saudável, atividade física, abandono do tabagismo) como base do tratamento, antes de iniciar medicação oral.
- (C) A avaliação de risco cardiovascular em pessoa com diabetes não é necessária, pois o diabetes tipo 2 já configura risco cardiovascular baixo, dispensando estratificação.
- (D) O exame de pé diabético só precisa ser realizado se o paciente apresentar úlcera ou dor nas extremidades inferiores, não sendo rotina o acompanhamento na atenção básica.
- (E) A medicação anti-hipertensiva só deverá ser iniciada após o controle estrito da glicemia, sendo prioridade exclusiva o glicêmico.

QUESTÃO 10

Um paciente chega ao atendimento de urgência apresentando pressão arterial de 190/125 mmHg, queixando-se de cefaleia intensa, confusão mental e dispneia. Considerando o protocolo clínico-assistencial para emergências hipertensivas descrito no MSD Manuals, assinale a alternativa CORRETA em relação à conduta imediata esperada e à definição desse quadro:

- (A) Trata-se de uma urgência hipertensiva, pois há pressão elevada acima de 180/120 mmHg, porém sem comprometimento de órgão-alvo. A conduta adequada é reduzir lentamente a pressão arterial por via oral em 24 a 48 horas.
- (B) Trata-se de uma emergência hipertensiva, pois há elevação da pressão e sinais de lesão de órgão-alvo (confusão, dispneia). A conduta adequada inclui uso imediato de anti-hipertensivo intravenoso e internação.
- (C) Trata-se de uma urgência hipertensiva, e a prioridade é envio direto para nefrólogia avaliação, pois o foco é disfunção renal, não a pressão em si.
- (D) Trata-se de uma emergência hipertensiva, mas como o paciente está estável, pode-se aguardar de 12 a 24 horas para iniciar tratamento oral de moderação da pressão.
- (E) Trata-se de uma urgência hipertensiva e, como não há comprometimento cardíaco visível, pode-se adotar apenas dieta com baixo teor de sal e observar evolução ambulatorial.

QUESTÃO 11

As doenças cardiovasculares representam uma das principais causas de atendimentos de urgência no Brasil, especialmente em adultos e idosos com fatores de risco como sedentarismo, obesidade, diabetes mellitus e história familiar positiva. No contexto da assistência pré-hospitalar e do pronto atendimento, é fundamental que o técnico em enfermagem reconheça rapidamente as diferenças entre urgência e emergência hipertensiva, garantindo encaminhamento adequado e intervenções seguras. Durante o



**PREFEITURA MUNICIPAL DE TERRA DE AREIA
ESTADO DO RIO GRANDE DO SUL**

EDITAL Nº 395, DE 17 DE DEZEMBRO DE 2025.

acolhimento, o técnico de enfermagem se depara com dois pacientes distintos: Um deles apresenta pressão arterial de 190/120 mmHg, porém encontra-se sem dor no peito, sem sinais neurológicos e sem sinais de comprometimento de órgãos-alvo. O outro paciente apresenta pressão arterial semelhante, mas com confusão mental, dor torácica intensa e dispneia súbita.

Com base nos critérios clínicos descritos no MSD Manuals – Emergências Hipertensivas, assinale a alternativa que apresenta corretamente a diferença entre urgência hipertensiva e emergência hipertensiva:

- (A) Urgência hipertensiva sempre apresenta lesão de órgão-alvo.
- (B) Emergência hipertensiva não apresenta sintomas.
- (C) Urgência hipertensiva tem pressão elevada sem lesão de órgão-alvo; emergência tem pressão elevada associada a lesão.
- (D) Em ambas é obrigatório o uso de droga intravenosa imediata.
- (E) Apenas a urgência hipertensiva necessita internação.

QUESTÃO 12

No atendimento de um paciente em estado de choque, é fundamental que a equipe de enfermagem identifique o tipo de choque para conduzir a intervenção inicial adequada. De acordo com o MSD Manuals (seção “Etiologia e classificação do choque”) qual das seguintes afirmações está CORRETA?

- (A) O choque hipovolêmico ocorre exclusivamente por sangramento interno, e a vasodilatação não está envolvida nesse tipo de choque.
- (B) O choque distributivo se caracteriza por vasodilatação ou acúmulo de sangue nos vasos capacitantes, resultando em perfusão inadequada dos tecidos, mesmo com volume intravascular normal.
- (C) O choque cardiogênico é resultado apenas de infarto agudo do miocárdio, não sendo causado por válvulas cardíacas ou arritmias.
- (D) O choque obstrutivo não afeta o débito cardíaco e, por isso, não é considerado um mecanismo primário de choque no MSD Manuals.
- (E) No choque hipovolêmico, a causa é sempre perda de líquido não sanguíneo (por exemplo, por queimaduras ou diarreia), e hemorragias estão excluídas desse mecanismo.

QUESTÃO 13

Durante o atendimento pré-hospitalar de uma vítima de trauma, o técnico em enfermagem auxilia na avaliação inicial seguindo os princípios do PHTLS. De acordo com as diretrizes apresentadas no capítulo de Pesquisa Primária, qual é a prioridade IMEDIATA após garantir a segurança da cena?

- (A) Realizar exame neurológico detalhado.
- (B) Checar sinais vitais completos.
- (C) Avaliar e controlar hemorragias externas significativas.
- (D) Avaliar a história médica pregressa do paciente.
- (E) Realizar pesquisa secundária completa.

QUESTÃO 14

No atendimento pré-hospitalar, diante de hemorragia externa grave, qual conduta está alinhada às recomendações do PHTLS 10ª edição?

- (A) Aplicar compressas secas e aguardar coagulação espontânea.
- (B) Lavar o ferimento com soro para melhor visualização antes de comprimir.



**PREFEITURA MUNICIPAL DE TERRA DE AREIA
ESTADO DO RIO GRANDE DO SUL**

EDITAL Nº 395, DE 17 DE DEZEMBRO DE 2025.

- (C) Aplicar compressão direta e, se ineficaz, utilizar torniquete comercial.
- (D) Manter o membro elevado como primeira escolha de intervenção.
- (E) Evitar torniquete em qualquer situação, devido ao risco de isquemia.

QUESTÃO 15

A meningite meningocócica é uma forma grave de meningite bacteriana, altamente transmissível, causada pelo meningococo. Trata-se de uma doença de evolução rápida, com elevada taxa de sequelas e mortalidade, e pode afetar pessoas de todas as faixas etárias.

A vacina meningocócica ACWY (Conjugada) está disponível no Calendário Nacional de Vacinação para:

- (A) Crianças de 2, 4 e 6 meses de vida
- (B) Crianças de 5 e 7 meses de vida
- (C) Dose única aos 9 anos
- (D) Adolescentes de 11 a 14 anos
- (E) Adolescentes de 11 a 12 anos

QUESTÃO 16

A 10ª Revisão da Classificação Internacional de Doenças (CID-10) define morte materna como a “morte de uma mulher durante a gestação ou até _____ dias após o término da gestação, independentemente da duração ou da localização da gravidez, devido a qualquer causa relacionada com ou agravada pela gravidez ou por medidas em relação a ela, porém não devida a causas acidentais ou incidentais”.

Assinale a alternativa que preenche corretamente a lacuna:

- (A) 52
- (B) 32
- (C) 30
- (D) 42
- (E) 45

QUESTÃO 17

Nadir, mulher de 39 anos, comparece à sala de medicação para iniciar o tratamento da sífilis latente tardia. Conforme a prescrição médica, deve receber 2.400.000 UI de benzilpenicilina benzatina, por via intramuscular. Diante dessa situação, o técnico de enfermagem deve administrar:

- (A) A dose total prescrita no músculo vasto lateral da coxa.
- (B) A dose total prescrita no quadrante superolateral da região glútea direita ou esquerda.
- (C) 1.200.000 UI no músculo deltoide do braço direito e 1.200.000 UI no músculo deltoide do braço esquerdo.
- (D) 1.200.000 UI na região glútea direita e 1.200.000 UI na região glútea esquerda.
- (E) 1.200.000 UI em dias alternados.

QUESTÃO 18

Segundo o Código de Ética dos Profissionais de Enfermagem aprovado pela Resolução COFEN nº 564/2017, o técnico de enfermagem tem o direito de:



**PREFEITURA MUNICIPAL DE TERRA DE AREIA
ESTADO DO RIO GRANDE DO SUL**

EDITAL Nº 395, DE 17 DE DEZEMBRO DE 2025.

- (A) Executar atividades de enfermagem que não sejam de sua competência, desde que supervisionadas por enfermeiro.
- (B) Recusar-se a registrar no prontuário profissional sua assinatura ou rubrica, caso julgue irrelevantes as informações.
- (C) Suspender suas atividades quando o local de trabalho oferecer riscos à sua integridade física, psíquica ou moral, notificando formalmente a instituição e o conselho regional.
- (D) Delegar a outro membro da equipe de enfermagem atividades privativas do enfermeiro, em situações de rotina.
- (E) Divulgar informações confidenciais do paciente a familiares, sem necessidade de consentimento, se julgar benéfico ao cuidado.

QUESTÃO 19

De acordo com o Artigo 72 da Lei Municipal nº 855/2000 (Terra de Areia), além do vencimento básico, poderão ser pagas ao servidor municipal as seguintes vantagens, exceto:

- (A) gratificações e adicionais.
- (B) indenizações.
- (C) auxílio para diferença de caixa.
- (D) prêmio assiduidade.
- (E) auxílio uniforme.

QUESTÃO 20

Ao entrar em exercício no município de Terra de Areia, o servidor nomeado para cargo de provimento efetivo ficará sujeito a estágio probatório por período de 36 (trinta e seis) meses, durante o qual a sua aptidão, capacidade e desempenho serão objeto de avaliação por comissão especialmente designada para este fim, com vista a aquisição da estabilidade, observados os seguintes quesitos, exceto:

- (A) assiduidade.
- (B) moralidade.
- (C) disciplina.
- (D) eficiência.
- (E) responsabilidade.

ENFERMEIRO

Leia o poema “Aproximação do terror”, de Murilo Mendes, escrito entre 1943 e 1945, mas publicado originalmente em 1947 no livro Poesia Liberdade.

1

Dos braços do poeta
Pende a ópera do mundo
(Tempo, cirurgião do mundo): —



**PREFEITURA MUNICIPAL DE TERRA DE AREIA
ESTADO DO RIO GRANDE DO SUL**

EDITAL Nº 395, DE 17 DE DEZEMBRO DE 2025.

O abismo bate palmas,
A noite aponta o revólver.
Ouço a multidão, o coro do universo,
O trote das estrelas
Já nos subúrbios da caneta:
As rosas perderam a fala.
Entrega-se a morte a domicílio.

Dos braços...
Pende a ópera do mundo.

2

Tenho que dar de comer ao poema.
Novas perturbações me alimentam:
Nem tudo o que penso agora
Posso dizer por papel e tinta.
O poeta já nasce conscrito,
Atento às fascinantes inclinações do erro,
Já nasce com as cicatrizes da liberdade.

O ouvido soprando sua trompa
Percebe a galope
A marcha do número 666.

Palpo¹ a Quimera².
O tremor
E os jasmims da palavra “jamais”.

3

Dos telhados abstratos
Vejo os limites da pele,
Assisto crescerem os cabelos dos minutos
No instante da eternidade.
Vejo ouvindo, ouço vendo.

Considero as tatuagens dos peixes,
O astro monossecular.
Os rochedos colocam-se máscaras contra
[pássaros asfixiantes.
A grande Babilônia ergue o corpo de dólares.
Ruído surdo, o tempo oco a tombar...
A espiral das gerações cresce.

(Murilo Mendes. Antologia poética, 2014.)

¹ palpar: apalpar.

² Quimera: monstro mitológico com cabeça de leão, corpo de cabra e cauda de serpente.



**PREFEITURA MUNICIPAL DE TERRA DE AREIA
ESTADO DO RIO GRANDE DO SUL**

EDITAL Nº 395, DE 17 DE DEZEMBRO DE 2025.

QUESTÃO 1:

O poema de Murilo Mendes foi escrito no contexto do Estado Novo (1937-1945), período marcado por forte centralização autoritária, perseguição a opositores, restrição às liberdades civis e intensa censura às manifestações artísticas, intelectuais e jornalísticas. Nesse cenário, muitos escritores empregavam linguagem metafórica, imagens simbólicas e ambiguidades poéticas como forma de expressar críticas veladas ao regime, evitando sanções do governo.

Ao longo do poema, percebe-se a presença de elementos que dialogam com a sensação de vigilância, repressão e impossibilidade de livre expressão — marcas típicas da censura institucionalizada. Trechos que mencionam “silenciamento”, “ameaça”, “restrição à fala” e “impedimento de dizer o que se pensa” podem ser interpretados como metáforas do controle estatal sobre a palavra escrita e sobre o pensamento crítico.

Considerando esse contexto histórico e os recursos figurativos utilizados pelo poeta para sugerir a presença da censura sem mencioná-la diretamente, assinale o trecho do poema que remete de modo mais explícito à ideia de impedimento de expressão, característica marcante do Estado Novo.

- (A) “Tenho que dar de comer ao poema.” (4ª estrofe)
- (B) “Assisto crescerem os cabelos dos minutos / No instante da eternidade.” (7ª estrofe)
- (C) “Os rochedos colocam-se máscaras contra pássaros asfixiantes.” (8ª estrofe)
- (D) “O abismo bate palmas, / A noite aponta o revólver.” (2ª estrofe)
- (E) “Nem tudo o que penso agora / Posso dizer por papel e tinta.” (4ª estrofe)

QUESTÃO 2:

No poema de Murilo Mendes, as ações são expressas por meio de construções que, na maioria das vezes, exploram recursos figurativos e imagens simbólicas. Do ponto de vista da gramática normativa, nem todas as orações podem ser convertidas para a voz passiva, pois isso depende da estrutura do verbo, da transitividade e da possibilidade de o complemento direto tornar-se sujeito paciente. Entre os trechos selecionados do poema, apenas alguns permitem, com adequação gramatical, a transformação da voz ativa para a voz passiva, mantendo o sentido essencial, mesmo que haja alteração da estrutura frasal.



**PREFEITURA MUNICIPAL DE TERRA DE AREIA
ESTADO DO RIO GRANDE DO SUL**

EDITAL Nº 395, DE 17 DE DEZEMBRO DE 2025.

Considerando essas características da voz passiva e analisando as construções verbais presentes nos trechos a seguir, identifique qual deles pode ser corretamente reescrito na voz passiva, preservando o sentido poético geral.

- (A) “O poeta já nasce conscrito,” (4ª estrofe)
- (B) “A noite aponta o revólver.” (2ª estrofe)
- (C) “Pende a ópera do mundo” (1ª estrofe)
- (D) “Já nasce com as cicatrizes da liberdade.” (4ª estrofe)
- (E) “A espiral das gerações cresce.” (8ª estrofe)

QUESTÃO 3:

A colocação pronominal é um dos temas mais complexos da sintaxe normativa. Observe atentamente as orações abaixo e classifique-as quanto ao tipo de colocação pronominal (próclise, mesóclise ou ênclise):

- I. Jamais me esquecerei daquele dia.*
- II. Orgulhar-me-ei das conquistas alcançadas.*
- III. Entregou-se completamente ao trabalho.*
- IV. Quando te disseram isso, acreditaste?*

Assinale a alternativa correta, que indica a correspondência entre os tipos de colocação pronominal e as orações apresentadas.

- (A) I – próclise; II – ênclise; III – mesóclise; IV – próclise.
- (B) I – mesóclise; II – ênclise; III – próclise; IV – ênclise.
- (C) I – ênclise; II – próclise; III – mesóclise; IV – próclise.
- (D) I – próclise; II – mesóclise; III – ênclise; IV – próclise
- (E) I- mesóclise; II – ênclise; III – próclise; IV – próclise

QUESTÃO 4:

Leia atentamente a frase a seguir e, considerando a análise sintática dos termos destacados entre aspas, responda à questão:

"O lucro", que é um dos incentivos do sistema, foi "excelente".



**PREFEITURA MUNICIPAL DE TERRA DE AREIA
ESTADO DO RIO GRANDE DO SUL**

EDITAL Nº 395, DE 17 DE DEZEMBRO DE 2025.

Na oração acima, determine a função sintática dos termos destacados. Assinale a alternativa correta:

- (A) objeto direto – adjunto adverbial.
- (B) sujeito – predicativo do sujeito.
- (C) sujeito – predicativo do objeto.
- (D) predicativo do sujeito – predicativo do objeto.
- (E) objeto direto -predicativo do objeto.

QUESTÃO 5:

A ortografia oficial da língua portuguesa, regulamentada pelo Acordo Ortográfico de 1990 e vigente no Brasil desde 2009, estabelece normas precisas para a grafia correta das palavras, incluindo regras relacionadas ao uso de letras, encontros consonantais, emprego de dígrafos, bem como regularidades e irregularidades etimológicas. Essas regras visam garantir uniformidade, precisão linguística e clareza na comunicação escrita.

Muitas palavras da língua portuguesa apresentam grafia definida por tradição etimológica, não obedecendo necessariamente à lógica fonética. Assim, o domínio da ortografia requer não apenas conhecimento das regras gerais, mas também familiaridade com vocábulos de ocorrência frequente e palavras que comumente geram dúvida, como aquelas envolvendo o uso de x/ch, g/j, s/z, ss/ç, entre outras. Considerando esse conjunto de normas ortográficas e analisando atentamente os vocábulos apresentados em cada alternativa, assinale aquela em que todas as palavras estão grafadas de acordo com a ortografia correta da língua portuguesa, sem desvios fonológicos, etimológicos ou morfológicos.

- (A) pajé, xadrês, flecha, mixto, aconchego
- (B) abolição, tribo, pretensão, obsecado, cansaço
- (C) gorjeta, sargeta, picina, florescer, consiliar
- (D) xadrez, ficha, mexerico, enxame, enxurrada
- (E) pagé, xadrês, flexa, mecherico, enxame

QUESTÃO 6:



**PREFEITURA MUNICIPAL DE TERRA DE AREIA
ESTADO DO RIO GRANDE DO SUL**

EDITAL Nº 395, DE 17 DE DEZEMBRO DE 2025.

A notificação compulsória é a comunicação obrigatória à autoridade de saúde, realizada pelos médicos, profissionais de saúde ou responsáveis pelos estabelecimentos de saúde, públicos ou privados, sobre a ocorrência de suspeita ou confirmação de doença, agravo ou evento de saúde pública, descritos no anexo, podendo ser imediata ou semanal.

Em agosto deste ano, o Ministério da Saúde publicou a Nota Técnica nº 2/2025 incluindo nova doença na lista de notificação obrigatória. A doença que hoje precisa ser notificada é:

- (A) anemia falciforme.
- (B) esquistossomose.
- (C) botulismo.
- (D) Influenza Humana (Gripe) por novo subtipo (pandêmico)
- (E) esporotricose humana

QUESTÃO 7:

Durante o atendimento inicial à pessoa exposta ao HIV, o Protocolo Clínico e Diretrizes Terapêuticas para Profilaxia Pós-Exposição (PEP) 2024 orienta que quatro perguntas devem ser respondidas para definição da indicação da profilaxia. Com base no documento, assinale a alternativa que corresponde corretamente a uma das quatro perguntas essenciais para indicar ou não a PEP ao HIV.

- (A) A pessoa exposta apresenta sinais clínicos sugestivos de infecção aguda?
- (B) O tipo de material biológico envolvido representa risco de transmissão do HIV?
- (C) A pessoa-fonte faz uso regular de terapia antirretroviral (Tarv)?
- (D) A pessoa exposta relatou múltiplos episódios de exposição?
- (E) A pessoa exposta pertence a uma população-chave?

QUESTÃO 8:

O Ministério da Saúde, por meio do documento *Controle dos Cânceres do Colo do Útero e da Mama* (2013), estabelece uma Linha de Cuidado estruturada para garantir o acesso integral, contínuo e qualificado das mulheres às ações de prevenção, detecção precoce, diagnóstico, tratamento e reabilitação relacionados ao câncer do colo do útero.



**PREFEITURA MUNICIPAL DE TERRA DE AREIA
ESTADO DO RIO GRANDE DO SUL**

EDITAL Nº 395, DE 17 DE DEZEMBRO DE 2025.

Essa linha de cuidado envolve desde a organização da rede de serviços até a definição das atribuições da atenção básica, dos serviços de referência e das unidades terciárias, assegurando que cada nível de atenção execute funções específicas e complementares.

Dentro desse contexto, as diretrizes detalham como deve ocorrer o fluxo entre os serviços, quais procedimentos são obrigatórios em cada ponto de atenção e quais estratégias devem ser priorizadas para assegurar diagnóstico oportuno e tratamento adequado das lesões precursoras.

Considerando essas diretrizes que orientam o funcionamento da Linha de Cuidado do Câncer do Colo do Útero no âmbito do SUS, assinale a alternativa correta, de acordo com o Ministério da Saúde (2013):

- (A) O rastreamento das lesões precursoras do câncer do colo do útero deve iniciar aos 18 anos, anualmente, para todas as mulheres sexualmente ativas.
- (B) A unidade de referência deve realizar exclusivamente colposcopia, ficando os demais procedimentos (biópsia e tratamento de lesões precursoras) sob responsabilidade da atenção terciária.
- (C) A faixa etária recomendada para rastreamento organizado das lesões precursoras do câncer do colo do útero é de 25 a 64 anos, com periodicidade trienal após dois exames anuais negativos consecutivos.
- (D) O diagnóstico e o tratamento das lesões precursoras do câncer do colo do útero são realizados apenas em serviços terciários habilitados como CACON ou UNACON.
- (E) A unidade básica de saúde não deve convocar usuárias faltosas, pois o rastreamento deve ocorrer apenas por demanda espontânea.

QUESTÃO 9:

Na noite de 11/11/2025, A.R.P, sexo feminino, 38 anos, procurou o pronto atendimento após sofrer uma queimadura causada por água quente. Na avaliação do enfermeiro, observou-se que regiões do antebraço, abdome e coxa esquerda apresentavam eritema e flictenas com base rósea e úmida. Ao determinar a extensão da Superfície Corporal Queimada (SQC), o enfermeiro identificou que a área atingida correspondia a três vezes a superfície palmar da própria vítima, incluindo os dedos.

Dando continuidade ao atendimento, o profissional realizou curativo nas áreas queimadas, orientou a paciente sobre os cuidados domiciliares e o retorno ao ESF para acompanhamento. Também verificou sua carteira de vacinação, a fim de avaliar o status vacinal relacionado à profilaxia do tétano, encontrando os seguintes registros:



**PREFEITURA MUNICIPAL DE TERRA DE AREIA
ESTADO DO RIO GRANDE DO SUL**

EDITAL Nº 395, DE 17 DE DEZEMBRO DE 2025.

dT – 16/06/2016

dT – 17/10/2016

dTpa – 09/06/2023

Em relação à avaliação da superfície corporal queimada realizada pelo enfermeiro, é correto afirmar que:

- (A) SCQ = 1,5%.
- (B) SCQ = 6%.
- (C) SCQ = 15%.
- (D) SCQ = 3%.
- (E) não é possível estimar a extensão da superfície corporal queimada pois o enfermeiro deveria ter considerado como referência apenas a superfície palmar de A.R.P.

QUESTÃO 10:

Durante a avaliação de um paciente, o enfermeiro observa um padrão respiratório caracterizado por ciclos de respiração que aumentam e diminuem em profundidade, seguidos de um período de apneia. Esse tipo de respiração é comumente associado a condições como insuficiência cardíaca ou lesões cerebrais.

Esse padrão respiratório denomina-se:

- (A) respiração de Biot.
- (B) respiração de Kussmaul.
- (C) taquipneia.
- (D) respiração de Cheyne-Stokes.
- (E) apneia.

QUESTÃO 11:



**PREFEITURA MUNICIPAL DE TERRA DE AREIA
ESTADO DO RIO GRANDE DO SUL**

EDITAL Nº 395, DE 17 DE DEZEMBRO DE 2025.

A Resolução da Diretoria Colegiada (RDC) nº 222/2018, da Anvisa, estabelece as boas práticas para o gerenciamento dos Resíduos de Serviços de Saúde (RSS), com o objetivo de reduzir os riscos relacionados à saúde humana, animal e ao meio ambiente, além de promover a adequada proteção dos recursos naturais. Considerando as diretrizes previstas nesta regulamentação para o manejo seguro e eficiente dos diferentes grupos de resíduos gerados em serviços de saúde, assinale a alternativa correta sobre o gerenciamento dos Resíduos de Serviços de Saúde (RSS).

- (A) Os sacos para o acondicionamento de RSS do grupo A devem ser substituídos ao atingirem o limite de 2/3 de sua capacidade ou então a cada 48 horas, independentemente do volume, visando ao conforto ambiental e à segurança dos usuários e profissionais.
- (B) O esvaziamento ou reaproveitamento dos sacos podem ser feitos quando não houver sacos suficientes na instituição.
- (C) Os sacos contendo RSS do grupo A de fácil putrefação devem ser substituídos no máximo a cada 48 horas, independentemente do volume.
- (D) Os RSS do grupo A que não precisam ser obrigatoriamente tratados e os RSS após o tratamento são considerados rejeitos e devem ser acondicionados em saco preto.
- (E) Os RSS do grupo A que obrigatoriamente precisam ser tratados devem ser acondicionados em sacos pretos.

QUESTÃO 12:

Em um atendimento de emergência o enfermeiro de plantão atende um paciente de 58 anos, sexo masculino, com queixa de dor torácica que irradia para o membro superior esquerdo, apresentando pele fria, pálida e úmida, frequência cardíaca e frequência respiratória aumentadas, quando comparadas ao padrão normal para a faixa etária.

Sobre esse atendimento, avalie as afirmativas a seguir.

I. No exame físico o enfermeiro deve avaliar o nível de consciência, as bulhas cardíacas, a pressão arterial, os pulsos periféricos, auscultar os campos pulmonares, avaliar a motilidade intestinal, observar o débito urinário e verificar a existência de edema.



**PREFEITURA MUNICIPAL DE TERRA DE AREIA
ESTADO DO RIO GRANDE DO SUL**

EDITAL Nº 395, DE 17 DE DEZEMBRO DE 2025.

II. O enfermeiro deve coletar dados iniciais sobre o estado atual do paciente e compará-los com a evolução do quadro clínico. Isso inclui investigar a história de dor ou desconforto torácico, dispneia, palpitações, fadiga incomum, síncope ou outros sinais que possam indicar isquemia miocárdica.

III. O enfermeiro deve realizar um exame mais focado em sinais e sintomas relacionados às doenças do aparelho respiratório, como a asma, e solicitar ao médico prescrição de broncodilatadores para melhorar a dor torácica e os sinais vitais alterados.

Está correto apenas o que se afirma em

- (A) I e III.
- (B) II e III.
- (C) III.
- (D) I.
- (E) I e II.

QUESTÃO 13:

Durante o atendimento de uma parada cardiorrespiratória, a equipe de saúde deve aplicar as recomendações atualizadas de Suporte Básico de Vida (SBV) e Suporte Avançado de Vida Cardiovascular (SAVC), conforme estabelecido nas Diretrizes da American Heart Association (AHA) 2025, que unificam e reforçam as práticas baseadas em evidências para melhorar a sobrevivência e a recuperação dos pacientes.

Essas diretrizes abordam desde a identificação precoce da parada, a qualidade das compressões torácicas, as estratégias de monitorização fisiológica avançada, até o manejo pós-ressuscitação, incluindo intervenções coronarianas e avaliação neurológica.

Considerando os princípios centrais e as atualizações descritas no documento *Destaques das Diretrizes da AHA 2025 para RCP e ACE*, avalie as afirmativas a seguir sobre as mudanças e prioridades recomendadas para o SBV e o SAVC em adultos.



**PREFEITURA MUNICIPAL DE TERRA DE AREIA
ESTADO DO RIO GRANDE DO SUL**

EDITAL Nº 395, DE 17 DE DEZEMBRO DE 2025.

I. O atendimento do paciente após o retorno da circulação espontânea requer muita atenção à oxigenação, ao controle da pressão arterial, à avaliação da intervenção coronária percutânea, ao controle direcionado de temperatura e ao neuromanóstico multimodal.

II. O acesso intraósseo é a via de primeira escolha de administração de medicação durante a ressuscitação no SAVC.

III. Mensurar continuamente a pressão arterial sanguínea e o teor de dióxido de carbono ao final da expiração durante a ressuscitação de SAVC pode ser útil para melhorar a qualidade da reanimação cardiopulmonar.

IV. As recomendações anteriores da AHA sobre a administração de epinefrina foram reafirmadas, com ênfase em sua administração mais precoce.

As afirmativas corretas são:

- (A) I, II e III, apenas.
- (B) I, III e IV, apenas.
- (C) II, III e IV, apenas.
- (D) I, II e IV, apenas.
- (E) I, II, III e IV.

QUESTÃO 14:

As recentes revisões e atualizações das diretrizes de reanimação cardiopulmonar e suporte avançado de vida da AHA 2025 refletem os avanços científicos, a consolidação de evidências empíricas e a busca por práticas de atendimento mais eficazes durante a parada cardiorrespiratória (PCR). Entre os aspectos revisados, destaca-se o manejo do acesso vascular para administrações de medicamentos e fluidos, uma etapa crítica no Protocolo de Suporte Avançado à Vida Cardiovascular (SAVC).

Com base nas atualizações da AHA 2025, assinale a alternativa correta sobre o acesso vascular durante a PCR em adultos:

- (A) A via intraóssea é a primeira escolha recomendada.
- (B) A via venosa periférica só deve ser tentada após falha da via intraóssea.
- (C) A escolha da via não interfere na prioridade do atendimento.



**PREFEITURA MUNICIPAL DE TERRA DE AREIA
ESTADO DO RIO GRANDE DO SUL**

EDITAL Nº 395, DE 17 DE DEZEMBRO DE 2025.

(D) A via central é preferencial em todas as situações de PCR.

(E) A via intravenosa é recomendada como 1ª tentativa, e a via intraóssea é aceitável se o acesso IV não for viável.

QUESTÃO 15:

O Acolhimento e Classificação de Risco (A&CR) constitui uma diretriz fundamental da Política Nacional de Humanização e está entre as principais áreas estratégicas de investimento do componente Parto e Nascimento, conforme estabelecido pela Portaria nº 1.450, de 24 de junho de 2011 (art. 7º, alínea II, inciso “e”). Essa diretriz tem como objetivo qualificar o acesso das mulheres aos serviços de saúde, garantindo atendimento oportuno, seguro, humanizado e baseado em critérios clínicos e epidemiológicos, permitindo a identificação precoce de situações de urgência, risco materno-fetal e vulnerabilidades.

O A&CR busca organizar o fluxo assistencial, reduzir atrasos evitáveis, melhorar a comunicação entre gestantes e profissionais e assegurar que cada usuária receba o cuidado adequado ao seu grau de necessidade.

Considerando os princípios, objetivos e práticas relacionados ao Acolhimento e Classificação de Risco no contexto do cuidado obstétrico, assinale a alternativa correta:

(A) o processo de acolhimento e classificação de risco é uma ação de caráter profissional e (envolve profissionais médicos);

(B) é necessário observar os sinais de alteração do nível de consciência/estado mental, respiração, ventilação, circulação, dor, sintomas gerais e fatores de risco;

(C) os sinais de gravidade e risco iminente de morte são considerados urgentes dentro do fluxograma de decisões para o acolhimento;

(D) o tempo para a classificação de risco não deverá ultrapassar 10 minutos;

(E) no passo a passo para utilização do protocolo de acolhimento e classificação de risco em serviços de obstetrícia o registro não precisa ser realizado.

QUESTÃO 16:



**PREFEITURA MUNICIPAL DE TERRA DE AREIA
ESTADO DO RIO GRANDE DO SUL**

EDITAL Nº 395, DE 17 DE DEZEMBRO DE 2025.

O Diabetes Mellitus (DM) é uma síndrome metabólica de etiologia multifatorial, caracterizada pela deficiência na produção de insulina e/ou pela incapacidade desse hormônio exercer adequadamente seus efeitos nos tecidos periféricos. A insulina, produzida pelas células beta do pâncreas, é fundamental para o metabolismo da glicose, e sua ausência ou ação ineficaz resulta em dificuldade na utilização da glicose pelas células, levando ao quadro de hiperglicemia persistente, que define o diabetes.

Entre suas complicações crônicas, destaca-se o pé diabético, condição grave caracterizada por lesões em tecidos profundos, decorrentes da associação entre neuropatia periférica e doença vascular periférica nos membros inferiores. Essas alterações favorecem o surgimento de infecções, úlceras e processos isquêmicos que podem evoluir para amputações, quando não tratados adequadamente.

Diante desse contexto, pergunta-se: Qual é o patógeno mais comum identificado nas infecções associadas ao pé diabético?

- (A) Streptococos.
- (B) Staphylococcus aureus.
- (C) Estafilococos coagulase.
- (D) Pseudomonas aeruginosa.
- (E) Francisella tularensis

QUESTÃO 17:

No contexto da atenção integral à saúde da pessoa idosa, conforme o Guia de Cuidados para a Pessoa Idosa (MS, 2023), a avaliação da funcionalidade nas pessoas idosas deve contemplar diferentes domínios. Considerando essas orientações, assinale a alternativa correta:

- A) A determinação do perfil funcional pode ser adequadamente conduzida por meio da análise isolada de morbididades autorreferidas, visto que a presença ou ausência de condições crônicas é indicador suficientemente sensível para mensurar capacidade funcional.
- B) A investigação da funcionalidade deve restringir-se aos parâmetros biomecânicos da mobilidade, uma vez que os componentes cognitivos, psicossociais e sensoriais constituem variáveis acessórias que não interferem substancialmente no prognóstico funcional.
- C) A estratificação do risco funcional deve ser operacionalizada mediante a aplicação de instrumentos padronizados e validados, como o IVCF-20 ou o ICOPE, que permitem mensurar múltiplos domínios da



**PREFEITURA MUNICIPAL DE TERRA DE AREIA
ESTADO DO RIO GRANDE DO SUL**

EDITAL Nº 395, DE 17 DE DEZEMBRO DE 2025.

capacidade intrínseca, identificar fragilidade e orientar a construção de um plano de cuidado singular, articulado com os diferentes pontos da Rede de Atenção.

D) A avaliação da funcionalidade, após realizada, prescinde de articulação interprofissional ou intersetorial, uma vez que a Atenção Primária à Saúde detém, de forma autossuficiente, toda a capacidade resolutiva necessária às demandas geradas pelos diferentes perfis funcionais.

E) A mensuração da funcionalidade deve ser acionada exclusivamente mediante queixa apresentada pela pessoa idosa, é recomendada a utilização de instrumentos padronizados, como o IVCF-10 ou o ICOPE, para identificar fragilidade, comprometimento funcional e risco, com vistas à elaboração do plano de cuidado individualizado.

QUESTÃO 18:

De acordo com o código de ética dos Profissionais de Enfermagem, estabeleça correta correspondência entre as colunas I e II.

Coluna I	Coluna II
1. Direitos	() Zelar pelos preceitos éticos e legais da profissão nas diferentes formas de divulgação.
2. Deveres	() Ter acesso às informações, relacionadas à pessoa, família e coletividade, necessárias ao exercício profissional.
	() Recusar-se a executar atividades que não sejam de sua competência técnica, científica, ética e legal ou que não ofereçam segurança ao profissional, à pessoa, família e coletividade.
	() Aprimorar os conhecimentos técnicos, científicos, éticos e culturais, em benefício da pessoa, família e coletividade e do desenvolvimento da profissão.
	() Disponibilizar seus serviços profissionais à comunidade em casos de emergência, epidemia e catástrofe, sem pleitear vantagens pessoais.

(A) 2-1-2-1-1.

(B) 1-2-1-1-2.

(C) 2-1-1-2-2.

(D) 1-1-1-2-2.



**PREFEITURA MUNICIPAL DE TERRA DE AREIA
ESTADO DO RIO GRANDE DO SUL**

EDITAL Nº 395, DE 17 DE DEZEMBRO DE 2025.

(E) 2-2-2-1-1.

QUESTÃO 19:

No âmbito da Administração Pública Municipal, o regime jurídico dos servidores constitui um conjunto de normas que regulamentam direitos, deveres, vantagens pecuniárias e critérios de avaliação funcional, garantindo segurança jurídica e padronização das relações entre o ente público e seus agentes.

No Município de Terra de Areia/RS, essas diretrizes estão estabelecidas na Lei Municipal nº 855, de 10 de maio de 2000, que dispõe sobre o Regime Jurídico dos Servidores Públicos Municipais. Entre seus dispositivos, o Artigo 72 especifica quais vantagens podem ser acrescidas ao vencimento básico do servidor, considerando a natureza do cargo, condições especiais de trabalho, indenizações devidas e incentivos previstos na legislação municipal. A correta identificação das vantagens legalmente admitidas é fundamental para a atuação de gestores, profissionais de RH, membros de comissões de concurso e servidores, uma vez que assegura conformidade com o princípio da legalidade, evitando pagamentos indevidos, responsabilização administrativa e distorções remuneratórias.

Nesse contexto, analise as vantagens previstas no Artigo 72 da Lei nº 855/2000 e assinale a alternativa que apresenta uma vantagem não incluída entre aquelas passíveis de serem pagas ao servidor municipal, além do vencimento básico

- (A) gratificações e adicionais.
- (B) indenizações.
- (C) auxílio para diferença de caixa.
- (D) prêmio assiduidade.
- (E) auxílio uniforme.

QUESTÃO 20:

Ao entrar em exercício no município de Terra de Areia, o servidor nomeado para cargo de provimento efetivo ficará sujeito a estágio probatório por período de 36 (trinta e seis) meses, durante o qual a sua aptidão, capacidade e desempenho serão objeto de avaliação por comissão especialmente designada para este fim, com vista a aquisição da estabilidade, observados os seguintes quesitos, exceto:

- (A) assiduidade.



**PREFEITURA MUNICIPAL DE TERRA DE AREIA
ESTADO DO RIO GRANDE DO SUL**

EDITAL Nº 395, DE 17 DE DEZEMBRO DE 2025.

- (B) moralidade.
- (C) disciplina.
- (D) eficiência.
- (E) responsabilidade.

OPERADOR DE MÁQUINA

Texto I

SEM BARRA

1 Enquanto a formiga

Carrega comida

Para o formigueiro,

A cigarra canta,

5 Canta o dia inteiro.

A formiga é só trabalho.

A cigarra é só cantiga.

8 Mas sem a cantiga

Da cigarra

Que distrai a fadiga,

Seria uma barra

12 O trabalho da formiga.

(José Paulo Paes.In: Henriqueta Lisboa et alii.Varal de poesia. São Paulo: Ática,2003.p.50.)

QUESTÃO 01 Releia o trecho: Seria uma barra O trabalho da formiga (linhas 11-12). O dicionário registra alguns significados para a palavra barra. Marque a alternativa que apresenta o sentido mais próximo dessa palavra no texto.

- a) Peça ou bloco de algum material.
- b) Bainha feita em roupas.
- c) Alguma coisa muito difícil.
- d) Aparelho de ginástica.
- e) Nenhuma das alternativas

QUESTÃO 02 Marque a alternativa que apresenta apenas substantivos femininos.

- a) Formiga, dia, barra.
- b) Trabalho, formiga, cigarra.
- c) Cigarra, comida, dia.
- d) Barra, fadiga, cantiga.
- e) Nenhuma das alternativas.

QUESTÃO 03 Todas as frases abaixo apresentam verbo em sua formação, EXCETO:



**PREFEITURA MUNICIPAL DE TERRA DE AREIA
ESTADO DO RIO GRANDE DO SUL**

EDITAL Nº 395, DE 17 DE DEZEMBRO DE 2025.

- a) Enquanto a formiga... (linha 1)
- b) Carrega comida. (linha 2)
- c) A cigarra canta. (linha 4)
- d) A formiga é só trabalho. (linha 6)
- e) Nenhuma das alternativas.

Texto II

A Cigarra e a Formiga

A cigarra passou cantando todo verão desse ano.

Depois se viu num apuro, chegou um inverno duro.

Por um pedaço ou migalha de pão ou mesmo de palha,
foi chorar feito mendiga, lá na porta da formiga.

- “Qualquer coisa de comer! Eu prometo devolver, assim que seja verão.

Cada grão por cada grão. E, palavra de animal, com juro etc e tal.”

- “E no tempo de calor? O que fazia? me diga,” perguntou-lhe a formiga, sem pena da sua dor.

“Eu cantava, noite e dia. Eu cantava toda hora.”

- “Cantava, né? Já sabia! Muito bem... Dance agora!”

(La Fontaine (1621-1697/Tradução de Angela-Lago)

QUESTÃO 04 Marque a alternativa que apresenta uma frase exclamativa.

- a) E no tempo de calor?
- b) Qualquer coisa de comer!
- c) A cigarra passou cantando todo verão desse ano.
- d) Cantava, né?
- e) Eu cantava, noite e dia. Eu cantava toda hora.

QUESTÃO 05 Observe as palavras destacadas no trecho abaixo.

A cigarra passou cantando todo **verão** desse ano.

Depois se viu num apuro, chegou um **inverno** duro.

As palavras destacadas significam:

- a) Feriado Nacional.
- b) Férias.
- c) Estações do ano.
- d) Datas comemorativas.
- e) Nenhuma das alternativas.

QUESTÃO 06 Todas as frases abaixo estão no singular, EXCETO:

- a) Eu cantava, noite e dia.



**PREFEITURA MUNICIPAL DE TERRA DE AREIA
ESTADO DO RIO GRANDE DO SUL**

EDITAL Nº 395, DE 17 DE DEZEMBRO DE 2025.

- b) Eu já sabia!
- c) Chegou um inverno duro.
- d) Nós prometemos devolver.
- e) Eu cantava toda hora.

QUESTÃO 07 Assinale a alternativa em que todas as palavras são derivadas de FERRO:

- a) ferver – fértil;
- b) ferreiro – ferrinho;
- c) ferida – ferrugem;
- d) fada – ferradura.
- e) folha – ferreiro.

QUESTÃO 08 Assinale a alternativa em que o grau comparativo está correto:

- a) Esta mesa é mais pequena do que a outra;
- b) A aula de hoje foi mais boa do que a de ontem;
- c) Meu carro é menor que o seu carro;
- d) Sua nota foi mais boa do que a minha.
- e) Eu sou mais maior que você.

QUESTÃO 09 A soma de $(3 + 0,5 - 0,07 + 1,52)$ é?

- a) 4,95
- b) 3,78
- c) 2,54
- d) 5,94
- e) 7,56

QUESTÃO 10 Qual é o maior número composto por cinco algarismos?

- a) 99000
- b) 99999
- c) 99909
- d) 99099
- e) 90009

QUESTÃO 11 Em média, 40% da massa de uma pessoa adulta, corresponde à água. Quantos quilogramas de água tem uma pessoa que pesa 100kg?

- a) 30 kg
- b) 45 kg
- c) 60 kg
- d) 40 kg
- e) 25kg



**PREFEITURA MUNICIPAL DE TERRA DE AREIA
ESTADO DO RIO GRANDE DO SUL**

EDITAL Nº 395, DE 17 DE DEZEMBRO DE 2025.

QUESTÃO 12 Seu Antônio comprou para três de seus filhos um celular para cada e gastou um total de R\$ 1.350,00. Quanto seu Antônio gastaria se tivesse comprado celulares para todos os seus sete filhos?

- a) R\$ 2.720,00
- b) R\$ 3.150,00
- c) R\$ 3.480,00
- d) R\$ 2.660,00
- e) R\$ 1.562,00

QUESTÃO 13 Jogando videogame, Pedro fez 1.185 pontos e sua irmã Carla fez 436 pontos a mais que Pedro. Quantos pontos Carla fez neste jogo?

- a) 1.560;
- b) 1.824;
- c) 1.348;
- d) 1.621.
- e) 2.563

QUESTÃO 14 O número natural que equivale a $40.000 + 5.000 + 70 + 5$ é:

- a) 4.575
- b) 40.505
- c) 45.075
- d) 45.750
- e) 43.562

QUESTÃO 15 A ponte Ary Parreiras, construída sobre um dos trechos mais largos do Rio Paraíba do Sul, foi inaugurada em 1936, quando era considerada a maior ponte da América do Sul. No ano de 2018 esta ponte completará:

- a) 82 anos
- b) 78 anos
- c) 86 anos
- d) 72 anos
- e) 69 anos

QUESTÃO 16 Todo condutor deve ter uma postura adequada, sendo referente a um:

- a) Condutor Ousado
- b) Condutor Agressivo e Ousado
- c) Condutor Ligeiro e Atencioso
- d) Condutor Cuidadoso e Atento
- e) Condutor Descuidado e Ligeiro

QUESTÃO 17 A placa ao lado indica:

- a) Manter a mesma velocidade para entrar em via preferencial
- b) Há algum veículo estacionado em frente



**PREFEITURA MUNICIPAL DE TERRA DE AREIA
ESTADO DO RIO GRANDE DO SUL**

EDITAL Nº 395, DE 17 DE DEZEMBRO DE 2025.

- c) Reduzir a velocidade do veículo ou parar, caso necessário, dando preferência aos veículos que estiverem na via preferencial
- d) Que pode seguir em frente pois você está na via preferencial
- e) Deve parar.

QUESTÃO 18 a CNH (Carteira Nacional de Habilitação) permite ao condutor dirigir:

- a) Qualquer tipo de veículo, independente da categoria de sua habilitação
- b) Veículos para o qual é habilitado, somente dentro de sua cidade
- c) Veículos para os quais for habilitado, dentro de todo o território Brasileiro
- d) Qualquer tipo de veículo, em qualquer país
- e) Nenhuma das alternativas.

QUESTÃO 19 A função do catalisador no escapamento do veículo é de:

- a) Diminuir o ruído do motor
- b) Diminuir o consumo de combustível
- c) Diminuir a emissão de gases
- d) Aumentar a potência do motor
- e) Nenhuma das alternativas

QUESTÃO 20 A ultrapassagem, assim como uma conversão deverão ser precedidos de:

- a) Breve toque de Buzina
- b) Sinalização Regulamentar
- c) Redução de Velocidade
- d) Sinal de Luz
- e) Nenhuma das alternativas.

CONDUTOR SOCORRISTA

LEIA:

A tradição gastronômica e a beleza da Ilha das Caieiras fazem do local um dos cartões-postais de Vitória. A região, conhecida pelos restaurantes que servem a tradicional moqueca capixaba, serviu de inspiração para o fotógrafo Yuri Barichivich realizar a exposição “Caieiras, do poente à maré”, que será aberta para o público na segunda-feira (19), às 20 horas, no Museu do Pescador.

As 16 fotos que fazem parte da mostra são fruto de dois anos de trabalho do fotógrafo. “A Ilha das Caieiras é um de meus recantos favoritos na cidade de Vitória e possui ainda uma beleza singular e quase inocente. Suas águas possibilitam lindos poentes de cores preciosas para quem pode ter o tempo de observar. Foi uma escolha natural retratar com tanto afincio um lugar tão bonito”, explicou Yuri [...].

A mostra “Caieiras, do poente à maré” foi um dos projetos selecionados pelo Edital de Ocupação de Espaços Culturais de Vitória, da Secretaria Municipal de Cultura (Semc), que periodicamente escolhe



**PREFEITURA MUNICIPAL DE TERRA DE AREIA
ESTADO DO RIO GRANDE DO SUL**

EDITAL Nº 395, DE 17 DE DEZEMBRO DE 2025.

projetos artísticos para o Museu Histórico da Ilha das Caieiras e para o Memorial da Paz, na Praça do Papa.

Disponível em: <<http://g1.globo.com/espírito-santo/verao/2015/noticia/2015/01/ilha-das-caieiras-inspira-nova-mostra-fotografica-em-vitoria.html>>. Acesso em: 19 nov. 2025. Fragmento.

QUESTÃO 1:

A informação central de um encontra-se no trecho que sintetiza a ideia fundamental defendida pelo autor, isto é, aquele que explicita de maneira mais clara e abrangente a necessidade de adoção de práticas de consumo responsáveis. Qual é o assunto desse texto?

- (A) As paisagens preferidas do fotógrafo Yuri Barichivich.
- (B) As belezas naturais da Ilha das Caieiras.
- (C) A importância do Museu Histórico da Ilha das Caieiras.
- (D) A importância da moqueca para a culinária capixaba.
- (E) A exposição fotográfica de Yuri Barichivich

QUESTÃO 2:

Considerando os recursos de pontuação empregados pelo autor, especialmente o uso das aspas, analise o emprego desse sinal gráfico no contexto apresentado e assinale a alternativa que melhor descreve sua função sintática e discursiva. No segundo parágrafo desse texto, as aspas foram utilizadas para:

- (A) apresentar a fala de uma pessoa.
- (B) destacar um trecho de outro texto.
- (C) indicar o nome de uma exposição.
- (D) marcar o uso de um estrangeirismo.
- (E) realçar a opinião do autor do texto.

QUESTÃO 3:

Texto 1:



**PREFEITURA MUNICIPAL DE TERRA DE AREIA
ESTADO DO RIO GRANDE DO SUL**

EDITAL Nº 395, DE 17 DE DEZEMBRO DE 2025.

Livro

Eu me livro daquele garoto chato
Com um livro enfiado no meu nariz
Fingindo achar a história feliz.

Fonte: MARIA, Selma. Isso isso.

São Paulo: Petrópolis, 2010. s/p

Texto 2:



Fonte: "Toda Mafalda" - Quinho

Disponível em: <http://cantinhodebrincar-neidinha.blogspot.com.br/2011/06/tirinhas-de-hq-diversas.html>. Acesso: 10 ago. 2014.

Durante o estudo de ortografia e acentuação gráfica, um dos conteúdos mais importantes é o reconhecimento da sílaba tônica, isto é, aquela que pronunciamos com maior intensidade dentro da palavra. A posição dessa sílaba determina a maior parte das regras de acentuação da Língua Portuguesa. Considerando as regras oficiais de acentuação gráfica vigentes (Novo Acordo Ortográfico da Língua Portuguesa), assinale a alternativa correta quanto à classificação e à acentuação das palavras apresentadas.

(A) As palavras “garoto”, “história”, “feliz” e “nariz”, do Texto 1, são palavras proparoxítonas, e “livro”, “dicionário”, “terminar” e “nunca”, do Texto 2, são palavras oxítonas.

(B) As palavras “história”, do Texto 1, e “dicionário”, do Texto 2, foram acentuadas corretamente, mas possuem regras de acentuação diferentes porque a primeira é considerada paroxítona e, a segunda, proparoxítona.

(C) A palavra “história”, do Texto 1, é uma palavra proparoxítona e está corretamente acentuada; e “você”, do Texto 2, é uma palavra oxítona e deve ser acentuada da mesma forma que “café”, “dendê”.



**PREFEITURA MUNICIPAL DE TERRA DE AREIA
ESTADO DO RIO GRANDE DO SUL**

EDITAL Nº 395, DE 17 DE DEZEMBRO DE 2025.

- (D) As palavras “nariz” e “feliz”, do Texto 1, deveriam estar acentuadas assim como as palavras “terminar”, “ler”, “grosso” e “nunca”, do Texto 2, que deveriam receber acento circunflexo.
- (E) As palavras “história”, do Texto 1, e “dicionário”, do Texto 2, não deveriam estar acentuadas porque os acentos agudos não fazem mais parte do português brasileiro.

QUESTÃO 4:

Assinale a alternativa em que todas as palavras apresentadas estão grafadas de acordo com as normas vigentes da ortografia oficial da língua portuguesa, conforme o Acordo Ortográfico. Analise cuidadosamente cada opção, observando possíveis erros e escolha aquela em que não há qualquer inadequação.

- (A) pajé, xadrês, flecha, mixto, aconchego
- (B) abolição, tribo, pretensão, obsecado, cansaço
- (C) gorjeta, sargeta, picina, florecer, consiliar
- (D) xadrez, ficha, mexerico, enxame, enxurrada
- (E) pagé, xadrês, flexa, mecherico, enxame

QUESTÃO 5:

Assinale a alternativa que preenche corretamente as lacunas das orações a seguir, considerando o emprego adequado das preposições “a/à” e da forma verbal “há”. Leia atentamente cada frase, observe o sentido temporal ou direcional expresso e escolha a opção cujas palavras completam corretamente os enunciados:

I. Precisa falar ____ cerca de três mil operários.

II. Daqui ____ alguns anos tudo estará mudado.

III. ____ dias está desaparecido.

IV. Vindos de locais distantes, todos chegaram ____ tempo ____ reunião.

- (A) a - a - há - a - à
- (B) à - a - a - há - a
- (C) a - à - a - a - há
- (D) há - a - à - a - a
- (E) a - há - a - à - a.



**PREFEITURA MUNICIPAL DE TERRA DE AREIA
ESTADO DO RIO GRANDE DO SUL**

EDITAL Nº 395, DE 17 DE DEZEMBRO DE 2025.

QUESTÃO 6:

Numa celebração em família, pai, mãe e seu casal de filhos estão sentados em volta de uma mesa quadrada.

Os homens chamam-se Roberto e Sérgio e as mulheres chamam-se Teresa e Fernanda. Sabe-se que:

- O pai tem Fernanda à sua frente e o filho à esquerda.
- A mãe está do lado direito de Sérgio.

Considere as afirmações:

*I – A mãe chama-se Fernanda.
II – Roberto está em frente de Teresa.
III – O pai chama-se Sérgio.*

É verdadeiro somente o que se afirma em:

- (A) I;
- (B) II;
- (C) III;
- (D) I e II;
- (E) II e III

QUESTÃO 7:

O mês de fevereiro tem 28 dias em anos regulares e 29 dias em anos bissextos. Em qualquer ano (regular ou bissexto), os meses de abril, junho, setembro e novembro têm 30 dias, e os demais meses têm 31 dias. Sabe-se, ainda, que nunca teremos dois anos consecutivos que sejam bissextos. Se 1º de janeiro de um ano bissexto caiu em uma sexta-feira, o dia 1º de março do ano seguinte cairá em uma:

- (A) quarta-feira
- (B) segunda-feira.
- (C) sexta-feira.
- (D) terça-feira.
- (E) quinta-feira.



**PREFEITURA MUNICIPAL DE TERRA DE AREIA
ESTADO DO RIO GRANDE DO SUL**

EDITAL Nº 395, DE 17 DE DEZEMBRO DE 2025.

QUESTÃO 8:

Um reservatório utilizado para armazenar areia possui capacidade total de 3,5 metros cúbicos (m^3). Sabendo que as unidades de volume podem ser convertidas dentro do Sistema Internacional qual é o volume equivalente desse reservatório expresso em decímetros cúbicos (dm^3)?

- (A) 35.000 dm^3
- (B) 35 dm^3
- (C) 3.500 dm^3
- (D) 350 dm^3
- (E) 3,5 dm^3

QUESTÃO 9:

Em muitas empresas do setor comercial, a remuneração dos vendedores é composta por duas partes: um salário fixo, garantido independentemente do volume de vendas, e uma comissão variável conforme o desempenho individual, o que incentiva a produtividade e permite ao trabalhador aumentar seus ganhos mensais. Em uma determinada loja de eletrodomésticos, os vendedores recebem um salário fixo de R\$ 1.200,00, acrescido de 6% sobre o total das vendas realizadas no mês. Em um período analisado, um vendedor alcançou um bom desempenho e totalizou R\$ 14.000,00 em vendas.

Considerando essa política de remuneração e aplicando corretamente as regras de porcentagem e soma de valores, determine o valor total que ele deverá receber ao final do mês

- (A) R\$ 2040,00
- (B) R\$ 2080,00
- (C) R\$ 3020,00
- (D) R\$ 3040,00
- (E) R\$ 3065,00

QUESTÃO 10:

O paracetamol é um medicamento amplamente utilizado para o alívio de dores leves a moderadas e para a redução da febre. Uma fábrica produz comprimidos de paracetamol com peso de 10 miligramas cada um. Quantos comprimidos serão necessários para produzir 10 kg deste medicamento?



**PREFEITURA MUNICIPAL DE TERRA DE AREIA
ESTADO DO RIO GRANDE DO SUL**

EDITAL Nº 395, DE 17 DE DEZEMBRO DE 2025.

- (A) 1.000 comprimidos
- (B) 10.000 comprimidos
- (C) 100.000 comprimidos
- (D) 1 000 000 comprimidos
- (E) 110 000 comprimidos

QUESTÃO 11:

O exame toxicológico, previsto no Código de Trânsito Brasileiro (CTB), busca aferir o consumo de substâncias psicoativas que, comprovadamente, comprometem a capacidade de uma pessoa em dirigir um veículo automotor. Os condutores das categorias C, D e E devem comprovar resultado negativo neste exame para a obtenção e renovação da Carteira Nacional de Habilitação - CNH. Além do exame toxicológico previsto para a obtenção e renovação, o CTB estabelece um outro prazo para a realização deste mesmo exame, aos condutores habilitados nas categorias citadas e tiverem idade inferior a 70 (setenta) anos. A partir da obtenção ou renovação, qual é este prazo?

- (A) 1 (um) ano e 6 (seis) meses.
- (B) 2 (dois) anos e 6 (seis) meses.
- (C) 5 (cinco) anos.
- (D) 3 (três) anos.
- (E) 5 (cinco) anos e 6 (seis) meses.

QUESTÃO 12:

A reanimação cardiopulmonar (RCP) é uma resposta sequencial organizada à parada cardíaca. O condutor socorrista, como membro da equipe de atendimento de urgências, além de conduzir o veículo de urgência, deverá ter noção de reanimação cardiopulmonar (RCP) para auxiliar a equipe caso houver necessidade. Nas compressões torácicas ou na massagem cardíaca:

- I. A relação compressão/ventilação no adulto é 30:10.*
- II. A cada 2 minutos, deve-se trocar o massageador.*
- III. A frequência de compressão deve ficar entre 100 a 120 bpm*
- IV. A superfície deve ser confortável e flexível para o conforto do paciente.*



**PREFEITURA MUNICIPAL DE TERRA DE AREIA
ESTADO DO RIO GRANDE DO SUL**

EDITAL Nº 395, DE 17 DE DEZEMBRO DE 2025.

Quais estão corretas?

- (A) Apenas I.
- (B) Apenas III.
- (C) I, II, III e IV
- (D) Apenas I, II e IV.
- (E) Apenas II e III.

QUESTÃO 13:

O SAMU, em diversos manuais de conduta e procedimentos operacionais apresenta o tópico do checklist de abandono de cena, que trata de uma averiguação no local do atendimento, inclusive na via pública, para que não fique abandonado nenhum material contaminado, equipamento, lixo, etc. O Código de Trânsito Brasileiro (CTB), em seu artigo 26 (Das Normas gerais de circulação e conduta), estabelece um procedimento similar. Assinale a alternativa que apresenta este procedimento, (artigo 26, II do CTB):

- (A) O recolhimento de animais, obstáculos ou outros impedimentos que prejudiquem a livre circulação de veículos é de responsabilidade do seu proprietário ou responsável e, caso não seja providenciado, cabe ao poder público, por meio da guarda municipal, realizar o procedimento e encaminhar o proprietário ou responsável à autoridade policial, pela infração de desobedecer à ordem de agente de trânsito.
- (B) Está isento da penalidade de multa o usuário da via terrestre, desde que condutor de veículo automotor, que transportando passageiro em seu veículo, esse seja responsável por atirar ou abandonar, na via, objeto ou substância, prejudicando a segurança viária.
- (C) Os usuários das vias terrestres, desde que condutores de veículos automotores, devem abster-se de obstruir o trânsito ou torná-lo perigoso, podendo ser responsabilizado administrativamente, civilmente e penalmente por qualquer acidente ocorrido no local, onde ele tenha prejudicado a segurança viária.
- (D) Os usuários das vias terrestres devem promover a segurança viária, juntamente com o órgão de trânsito local, ficando obrigado a sinalizar ou comunicar ao órgão citado qualquer obstáculo ou impedimento à livre circulação de veículos ou pedestres, desde que este impedimento tenha sido causado por ele ou outro usuário, ficando isento desta obrigação quando se tratar de caso fortuito ou força maior.
- (E) Os usuários das vias terrestres devem abster-se de obstruir o trânsito ou torná-lo



**PREFEITURA MUNICIPAL DE TERRA DE AREIA
ESTADO DO RIO GRANDE DO SUL**

EDITAL Nº 395, DE 17 DE DEZEMBRO DE 2025.

perigoso, atirando, depositando ou abandonando, na via, objetos ou substâncias ou, nela, criando qualquer outro obstáculo.

QUESTÃO 14:

Em Terra de Areia, uma equipe de fiscalização de trânsito realiza uma operação educativa para orientar condutores sobre limites de velocidade em vias urbanas. Durante a ação, surge uma dúvida frequente entre os motoristas: qual a velocidade máxima permitida quando a via possui pista dupla, com canteiro central separando os fluxos, mas não há qualquer placa de sinalização regulamentando a velocidade.

Considerando as regras previstas no Código de Trânsito Brasileiro (Lei nº 9.503/1997) referentes aos limites gerais de velocidade em vias urbanas na ausência de sinalização específica, assinale a alternativa que corresponde à velocidade máxima permitida para veículos leves nessa situação:

- (A) 40 km/h
- (B) 50 km/h
- (C) 60 km/h
- (D) 70 km/h
- (E) 80 km/h.

QUESTÃO 15:

O cumprimento das normas previstas no Código de Trânsito Brasileiro (CTB) é fundamental para garantir a segurança viária e reduzir a ocorrência de acidentes e situações de risco no espaço público. As infrações relacionadas à circulação, conduta e operação de veículos são classificadas conforme sua gravidade, variando de leve a gravíssima, com penalidades proporcionais ao potencial de dano que a conduta pode causar à coletividade.

Com base no CTB (Lei nº 9.503/1997) e considerando as disposições legais referentes à classificação das infrações de trânsito, julgue as sentenças abaixo como verdadeiras (V) ou falsas (F):

- 1.() É considerada infração gravíssima disputar corrida por espírito de emulação.



**PREFEITURA MUNICIPAL DE TERRA DE AREIA
ESTADO DO RIO GRANDE DO SUL**

EDITAL Nº 395, DE 17 DE DEZEMBRO DE 2025.

2.() É considerada infração leve transitar com o veículo em velocidade inferior à metade da velocidade máxima estabelecida para a via, retardando ou obstruindo o trânsito, a menos que as condições de tráfego e meteorológicas não o permitam, salvo se estiver na faixa da direita.

3.() É considerada infração gravíssima deixar de reduzir a velocidade do veículo de forma compatível com a segurança do trânsito quando se aproximar de passeatas, aglomerações, cortejos, préstitos e desfiles.

A sequência CORRETA é:

- (A) 1.V, 2.V, 3.F.
- (B) 1.V, 2.F, 3.V.
- (C) 1.V, 2.F, 3.F.
- (D) 1.F, 2.V, 3.F.
- (E) 1.V, 2.V, 3.V.

QUESTÃO 16:

No atendimento inicial a uma vítima potencialmente em parada cardiorrespiratória, a rápida identificação da ausência de responsividade e de respiração normal é fundamental para determinar a necessidade de iniciar manobras de Ressuscitação Cardiopulmonar (RCP). Assinale a alternativa correta de acordo com a recomendação da American Heart Association para pacientes com possível ou em parada cardiorrespiratória em adultos.

- (A) Não é recomendado que leigos iniciem ressuscitação cardiopulmonar com massagem cardíaca.
- (B) É recomendado que leigos verifiquem anteriormente a massagem cardíaca o pulso carotídeo por pelo menos 20 segundos.
- (C) Não é recomendado que leigos iniciem a massagem cardíaca sem a presença física de um desfibrilador externo automático para auxílio e verificação do ritmo de parada.
- (D) É recomendado que leigos iniciem a ressuscitação cardiopulmonar para uma suposta parada cardiorrespiratória, pois o risco de dano ao paciente é baixo se o paciente não estiver em parada cardiorrespiratória.
- (E) É recomendado que ao estar disponível o desfibrilador externo automático, verifique o ritmo de parada cardiorrespiratória e aplique desfibrilação sequencial dupla.

QUESTÃO 17:



**PREFEITURA MUNICIPAL DE TERRA DE AREIA
ESTADO DO RIO GRANDE DO SUL**

EDITAL Nº 395, DE 17 DE DEZEMBRO DE 2025.

Durante situações de emergência, a obstrução das vias aéreas por corpo estranho (OVACE) representa uma das causas mais comuns de morte evitável, exigindo intervenção imediata por parte do socorrista. As Diretrizes da American Heart Association (AHA) 2025 orientam o manejo adequado da OVACE em adultos conscientes, descrevendo a técnica específica destinada a gerar pressão expiratória suficiente para expulsar o objeto que impede a passagem de ar. Considerando os conhecimentos atualizados de Suporte Básico de Vida (SBV) e as recomendações presentes no manual fornecido, assinale a manobra indicada para vítimas com obstrução grave das vias aéreas por corpo estranho.

- (A) Manobra de Valsalva
- (B) Manobra de Heimlich
- (C) Manobra de Kristeller
- (D) Manobra de Leopold
- (E) Manobra de Homans

QUESTÃO 18:

O Conselho Nacional de Trânsito (CONTRAN) é a autoridade máxima do Sistema Nacional de Trânsito no Brasil. Criado pelo Código de Trânsito Brasileiro, ele estabelece normas obrigatórias em todo o país, como regras de circulação, formação de condutores, sinalização, equipamentos obrigatórios e penalidades. Também coordena e orienta os órgãos de trânsito, como DETRANs e PRF. Suas decisões são formalizadas por meio de resoluções, que definem e atualizam as políticas de trânsito nacional. Conforme o CONTRAN, quando se trata da carga horária para cursos de especialização para condutores de veículos de emergência, qual é a carga horária mínima exigida para a conclusão do curso?

- (A) 40 horas
- (B) 50 horas
- (C) 60 horas
- (D) 70 horas
- (E) 80 horas

QUESTÃO 19:



**PREFEITURA MUNICIPAL DE TERRA DE AREIA
ESTADO DO RIO GRANDE DO SUL**

EDITAL Nº 395, DE 17 DE DEZEMBRO DE 2025.

Ao entrar em exercício no município de Terra de Areia, o servidor nomeado para cargo de provimento efetivo ficará sujeito a estágio probatório por período de 36 (trinta e seis) meses, durante o qual a sua aptidão, capacidade e desempenho serão objeto de avaliação por comissão especialmente designada para este fim, com vista a aquisição da estabilidade, observados os seguintes quesitos, exceto:

- (A) assiduidade.
- (B) moralidade.
- (C) disciplina.
- (D) eficiência.
- (E) responsabilidade.

QUESTÃO 20:

A Lei Municipal nº 855/2000, que dispõe sobre o regime jurídico dos servidores públicos de Terra de Areia, estabelece critérios relacionados à estabilidade no serviço público. Considerando o previsto na legislação municipal, o servidor público nomeado para cargo efetivo adquire estabilidade no serviço público municipal após:

- (A) 6 meses de estágio probatório, desde que bem avaliado.
- (B) 1 ano de efetivo exercício, com avaliação satisfatória.
- (C) 2 anos de efetivo exercício, sem necessidade de avaliação.
- (D) 3 anos de efetivo exercício e avaliação especial de desempenho.
- (E) 5 anos de serviço público contínuo.

VISITADOR DO PIM

LEIA:

Meio Ambiente e Sustentabilidade

Atualmente, as questões ambientais envolvem a sustentabilidade. A sustentabilidade é um termo abrangente, que envolve também o planejamento da educação, economia e cultura para organização de uma sociedade forte, saudável e justa.

A sustentabilidade econômica, social e ambiental é um dos grandes desafios da humanidade.



**PREFEITURA MUNICIPAL DE TERRA DE AREIA
ESTADO DO RIO GRANDE DO SUL**

EDITAL Nº 395, DE 17 DE DEZEMBRO DE 2025.

O termo sustentabilidade surge da necessidade de aliar o crescimento econômico com a preservação ambiental.

A essa nova forma de desenvolvimento, damos o nome de desenvolvimento sustentável. Ele tem como conceito clássico ser aquele que atende às necessidades do presente sem comprometer a possibilidade das gerações futuras atenderem as suas próprias necessidades.

Para que o desenvolvimento sustentável seja uma realidade, é necessário o envolvimento de todas as pessoas e nações do planeta. As ações vão desde atitudes individuais até acordos internacionais.

No Brasil, a Política Nacional do Meio Ambiente, Lei nº 6.938, de 31 de Agosto de 1981, define os instrumentos para proteção do meio ambiente. É considerada o marco inicial das ações para conservação ambiental no Brasil.

Fonte: Toda Matéria — Adaptado

QUESTÃO 1:

O texto aborda a importância da sustentabilidade como um conceito amplo, relacionado não apenas ao meio ambiente, mas também ao planejamento econômico, social e cultural que permite a construção de uma sociedade mais justa, saudável e equilibrada. Ao tratar da ideia de desenvolvimento sustentável, o texto destaca que esse modelo busca atender às necessidades atuais sem comprometer os recursos necessários para que as futuras gerações também tenham condições de suprir suas necessidades.

Além disso, o texto ressalta que, para que esse tipo de desenvolvimento seja concretizado, é indispensável a participação ativa de todos — indivíduos, governos e nações — em ações que vão desde atitudes simples no cotidiano até políticas globais e acordos internacionais voltados à proteção e ao uso consciente dos recursos naturais.

Considerando esse contexto, de acordo com o texto, o que é necessário para que o desenvolvimento sustentável se torne uma realidade?

- (A) Com a criação da Lei nº 6.938, nada mais precisa ser feito, pois ela garante a proteção do meio ambiente.
- (B) É preciso que haja engajamento de todas as pessoas, em todo o mundo.
- (C) É preciso investir somente em preservação ambiental para que o desenvolvimento sustentável seja uma realidade.



**PREFEITURA MUNICIPAL DE TERRA DE AREIA
ESTADO DO RIO GRANDE DO SUL**

EDITAL Nº 395, DE 17 DE DEZEMBRO DE 2025.

- (D) É necessário focar no presente sem pensar no futuro, pois o futuro é incerto.
- (E) É necessário que os governos assumam responsabilidade conjunta na elaboração de políticas e ações voltadas ao uso consciente dos recursos naturais.

QUESTÃO 2:

O texto apresentado discute a evolução das preocupações ambientais e destaca que, diante dos impactos causados pelo modelo tradicional de desenvolvimento, surgiu a necessidade de repensar a relação entre sociedade, economia e meio ambiente. Nesse contexto, o termo sustentabilidade ganhou força como uma resposta à urgência de equilibrar o progresso econômico com a preservação dos recursos naturais.

Com base no texto, assinale a alternativa que descreve como surge o termo sustentabilidade.

- (A) Para associar o crescimento econômico com a preservação ambiental.
- (B) Para mitigar o planejamento da educação, economia e cultura para a organização de uma sociedade.
- (C) Para atender às necessidades do presente e comprometer as gerações futuras.
- (D) Para tornar-se um dos grandes desafios da humanidade.
- (E) Para orientar práticas individuais e coletivas voltadas à proteção do planeta, integrando aspectos sociais, econômicos e ambientais.

QUESTÃO 3:

O texto sobre Meio Ambiente e Sustentabilidade discute o conceito de desenvolvimento sustentável, explicando que ele busca atender às necessidades do presente sem comprometer as das futuras gerações e que isso exige a articulação de diversas ações, desde atitudes individuais até acordos internacionais. Em outro trecho, destaca a importância da preservação ambiental como eixo central desse modelo de desenvolvimento.

Com base nesse texto, avalie se as afirmativas a seguir são certas (C) ou erradas (E) e assinale a sequência correspondente:

- () Se em “às necessidades” (4º parágrafo) a expressão ficasse no singular, o acento da crase seria proibido.
- () Se no 5º parágrafo a palavra “ações” fosse para o singular, outras duas (além dela) também iriam.
- () Se “preservação” (3º parágrafo) fosse substituída por “extinção”, não mudaria o sentido da frase.

Assinale a alternativa correta:



**PREFEITURA MUNICIPAL DE TERRA DE AREIA
ESTADO DO RIO GRANDE DO SUL**

EDITAL Nº 395, DE 17 DE DEZEMBRO DE 2025.

- (A) E - C - E.
- (B) C - C - E.
- (C) E - E - C.
- (D) C - E - E.
- (E) C - E - C.

QUESTÃO 4:

Na língua portuguesa, informações acessórias ou explicativas podem ser inseridas na frase por meio de vírgulas, travessões ou parênteses, formando elementos chamados incisos ou expressões explicativas. Esses termos não são essenciais para a estrutura básica da oração, mas acrescentam esclarecimentos, comentários ou detalhes adicionais.

Considerando as regras de pontuação da língua portuguesa para isolar termos explicativos com o uso de parênteses, assinalar a alternativa correta.

- (A) São Paulo maior cidade do Brasil (é uma metrópole de contrastes).
- (B) São Paulo (maior cidade do Brasil) é uma metrópole de contrastes.
- (C) São Paulo maior cidade (do Brasil) é uma metrópole de contrastes.
- (D) São Paulo (maior cidade) do Brasil é uma metrópole de contrastes.
- (E) São Paulo, maior cidade do Brasil é uma metrópole de contrastes.

QUESTÃO 5:

Assinale a alternativa que preenche corretamente as lacunas das orações a seguir, considerando o emprego adequado das preposições “a/à” e da forma verbal “há”. Leia atentamente cada frase, observe o sentido temporal ou direcional expresso e escolha a opção cujas palavras completam corretamente os enunciados:

- I. Precisa falar ____ cerca de três mil operários.
- II. Daqui ____ alguns anos tudo estará mudado.
- III. ____ dias está desaparecido.
- IV. Vindos de locais distantes, todos chegaram ____ tempo ____ reunião.



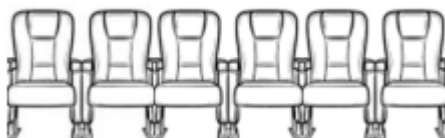
**PREFEITURA MUNICIPAL DE TERRA DE AREIA
ESTADO DO RIO GRANDE DO SUL**

EDITAL Nº 395, DE 17 DE DEZEMBRO DE 2025.

- (A) a - a - há - a - à
- (B) à - a - a - há - a
- (C) a - à - a - a - há
- (D) há - a - à - a - a
- (E) a - há - a - à - a.

QUESTÃO 6:

Em uma fila de poltronas de um cinema há 6 poltronas vazias em sequência:



Os irmãos André e Bruno e as amigas Maria, Nina e Paula vão ocupar 5 desses 6 lugares. Entretanto, as amigas querem se sentar juntas, ou seja, uma ao lado da outra.

O número de maneiras diferentes em que as 5 pessoas podem se sentar é igual a:

- (A) 96.
- (B) 120.
- (C) 144.
- (D) 180.
- (E) 216.

QUESTÃO 7:

Uma equipe de manutenção da Prefeitura foi encarregada de construir uma nova calçada em frente a uma Unidade Básica de Saúde. Para a execução dessa obra, foram adquiridos 400 tijolos de cimento, quantidade estimada como suficiente para concluir toda a extensão planejada.

O trabalho foi realizado ao longo de dois dias consecutivos. No primeiro dia, os trabalhadores utilizaram exatamente 30% do total de tijolos comprados, conforme o planejamento inicial. No segundo dia, após avaliarem o que ainda precisava ser feito, utilizaram 70% dos tijolos que restaram do dia anterior,



**PREFEITURA MUNICIPAL DE TERRA DE AREIA
ESTADO DO RIO GRANDE DO SUL**

EDITAL Nº 395, DE 17 DE DEZEMBRO DE 2025.

aproveitando o material de forma eficiente. Considerando essas informações sobre o consumo de tijolos durante os dois dias de serviço, determine quantos tijolos sobraram ao final da obra.

- (A) 138.
- (B) 123.
- (C) 105.
- (D) 92.
- (E) 84.

QUESTÃO 8:

Uma barraca de sucos naturais muito movimentada funciona diariamente na praça central de Terra de Areia. Entre as bebidas mais procuradas está o suco de abacaxi, vendido em dois tamanhos diferentes:

- *Copo pequeno: contém 250 mL de suco e custa R\$ 2,00.*
- *Copo grande: contém 350 mL de suco e custa R\$ 2,50.*

Na última quinta-feira, a barraca teve um dia de vendas intenso. Ao final do expediente, o vendedor conferiu o registro das vendas e constatou que havia vendido 30 copos pequenos e 18 copos grandes de suco de abacaxi. Com base nessas informações, é correto afirmar que, somando todos os copos vendidos naquele dia, o total de suco comercializado foi de:

- (A) 13,8 litros de suco de abacaxi e arrecadados R\$ 105,00.
- (B) 13,8 litros de suco de abacaxi e arrecadados R\$ 103,00.
- (C) 12,8 litros de suco de abacaxi e arrecadados R\$ 105,00.
- (D) 12,8 litros de suco de abacaxi e arrecadados R\$ 103,00.
- (E) 12,3 litros de suco de abacaxi e arrecadados R\$ 102,00.

QUESTÃO 9:

Cinco turmas da escola Mascarenhas de Moraes farão uma visita à exposição do museu da PUC. A visita será feita uma turma por vez e a expectativa é que cada turma leve 28 minutos na exposição. Considerando apenas esses dados, se a primeira turma entrar na exposição às 8:30h, seguida imediatamente, uma após a outra, das outras turmas, a visita terminará em qual horário?



**PREFEITURA MUNICIPAL DE TERRA DE AREIA
ESTADO DO RIO GRANDE DO SUL**

EDITAL Nº 395, DE 17 DE DEZEMBRO DE 2025.

- (A) 11 horas e 10 minutos.
- (B) 11 horas.
- (C) 10 horas e 30 minutos.
- (D) 10 horas e 40 minutos.
- (E) 10 horas e 50 minutos.

QUESTÃO 10:

Osmarina Cintra, mais conhecida pelo nome artístico Mara Rúbia, foi uma importante figura do cenário cultural brasileiro. Nascida no estado do Pará, em 3 de fevereiro de 1918, destacou-se ao longo da carreira como atriz, cantora e apresentadora. Já em idade avançada, e enfrentando problemas respiratórios, Mara Rúbia veio a falecer na cidade do Rio de Janeiro no dia 15 de maio, aos 73 anos de idade. Considerando sua data de nascimento e sua idade no momento do falecimento, determine em que ano ocorreu sua morte.

- (A) 1981.
- (B) 1986.
- (C) 1990.
- (D) 1991.
- (E) 1992.

QUESTÃO 11:

A Lei Estadual nº 12.544, de 03 de julho de 2006, instituiu o Programa Primeira Infância Melhor (PIM) que tem como objetivo orientar as famílias, a partir de sua cultura e experiências, para o estímulo ao desenvolvimento das capacidades e potencialidades de suas crianças. Não faz parte das ações do PIM:

- (A) apoiar e fortalecer as competências da família como primeira e mais importante instituição de cuidado e educação da criança nos primeiros anos de vida;
- (B) prestar apoio educacional e amparar as crianças para complementar as ações da família e da comunidade;
- (C) As ações do poder público serão prestadas, predominantemente, no âmbito da família e das instituições financeiras.



**PREFEITURA MUNICIPAL DE TERRA DE AREIA
ESTADO DO RIO GRANDE DO SUL**

EDITAL Nº 395, DE 17 DE DEZEMBRO DE 2025.

(D) prestar assistência social às crianças e às famílias beneficiadas por serviços de proteção social básica.

(E) prestar toda e qualquer orientação às famílias sobre cuidados de saúde da gestante e da criança, em articulação com os programas de saúde da mulher, da criança e da família.

QUESTÃO 12:

O Programa Primeira Infância Melhor (PIM) tem como finalidade central:

(A) Atender exclusivamente crianças de 4 a 6 anos matriculadas em escolas públicas.

(B) Promover ações de assistência social voltadas apenas às famílias em extrema pobreza.

(C) Orientar as famílias, considerando sua cultura e vivências, para estimular o desenvolvimento integral das crianças desde a gestação.

(D) Substituir instituições de educação infantil em municípios de pequeno porte.

(E) Implantar creches estaduais em todas as regiões do Rio Grande do Sul.

QUESTÃO 13:

O Estatuto da Criança e do Adolescente (ECA) estabelece que crianças e adolescentes são sujeitos de direitos e devem receber proteção integral, reconhecendo sua condição peculiar de desenvolvimento. Considerando o que determina o Título I do Estatuto, especialmente sobre a responsabilidade pela garantia dos direitos fundamentais e o princípio da prioridade absoluta, analise a situação abaixo:

Uma equipe do Programa Primeira Infância Melhor (PIM) atende uma família em que a criança apresenta sinais de negligência. Os profissionais identificam ausência de vacinação, falta de acompanhamento de saúde e condições inadequadas de convivência familiar. Em discussão interna, surge o questionamento: Quem é, segundo o ECA, o responsável pela garantia da efetivação dos direitos dessa criança, com prioridade absoluta, e que tipo de ações compõem essa prioridade?

Com base no ECA, assinale a alternativa correta:

(A) Somente o Estado é responsável pela efetivação dos direitos, cabendo à família apenas cumprir orientações técnicas emitidas pelos profissionais.

(B) A família, a comunidade e a sociedade podem auxiliar, mas o dever de garantir esses direitos é



**PREFEITURA MUNICIPAL DE TERRA DE AREIA
ESTADO DO RIO GRANDE DO SUL**

EDITAL Nº 395, DE 17 DE DEZEMBRO DE 2025.

exclusivo dos órgãos públicos de proteção.

(C) A responsabilidade é compartilhada entre família, comunidade, sociedade em geral e poder público, garantindo primazia de proteção, precedência de atendimento, preferência nas políticas sociais e destinação privilegiada de recursos.

(D) O Estado e os serviços de saúde são responsáveis diretos, enquanto escola e sociedade apenas notificam situações de risco.

(E) O ECA define que somente a família é responsável pela proteção integral, sendo o Estado acionado apenas quando houver denúncia formal.

QUESTÃO 14:

Durante uma visita domiciliar, uma orientadora do PIM encontra uma gestante que nunca fez pré-natal, relatando insegurança sobre o parto, referindo não ter recebido orientações sobre aleitamento materno e desconhecendo seus direitos.

Mediante os fatos, a profissional pergunta-se: quais garantias legais específicas o ECA assegura às gestantes para garantir um desenvolvimento integral do bebê e proteção durante a gestação, parto e puerpério?

(A) A gestante tem direito exclusivamente ao acompanhamento no parto, não havendo previsão legal sobre pré-natal ou orientações educativas.

(B) O ECA assegura às gestantes acesso a programas de saúde, nutrição adequada, pré-natal, direito a acompanhante e orientações sobre amamentação e desenvolvimento infantil.

(C) O Estatuto garante apenas o direito ao pré-natal, ficando sob responsabilidade municipal decidir sobre demais orientações.

(D) O ECA prevê atendimento apenas no pós-parto para puérperas em situação de risco social.

(E) O Estatuto prevê assistência apenas em unidades de alta complexidade.

QUESTÃO 15:

Considerando a Lei Estadual nº 12.544/2006 - Programa Primeira Infância Melhor, no âmbito dos Municípios, esse programa será coordenado pelos órgãos da administração municipal responsáveis pelas áreas da:

I. Saúde.



**PREFEITURA MUNICIPAL DE TERRA DE AREIA
ESTADO DO RIO GRANDE DO SUL**

EDITAL Nº 395, DE 17 DE DEZEMBRO DE 2025.

II. Educação.

III. Assistência social.

Está correta o que se afirma:

- (A) Apenas no item II.
- (B) Apenas nos itens I e II.
- (C) Apenas nos itens I e III.
- (D) Apenas nos itens II e III.
- (E) Em todos os itens.

QUESTÃO 16:

É direito da criança e do adolescente ser criado e educado no seio de sua família e, excepcionalmente, em família substituta, assegurada a convivência familiar e comunitária, em ambiente que garanta seu desenvolvimento integral. A partir disso, assinale a alternativa incorreta.

- (A) Será garantida a convivência integral da criança com a mãe adolescente que estiver em acolhimento institucional.
- (B) A mãe adolescente será assistida por equipe especializada multidisciplinar.
- (C) A permanência da criança e do adolescente em programa de acolhimento institucional não se prolongará por mais de 18 meses, sempre.
- (D) Será garantida a convivência da criança e do adolescente com a mãe ou o pai privado de liberdade .
- (E) Toda criança ou adolescente que estiver inserido em programa de acolhimento familiar ou institucional terá sua situação reavaliada, no máximo, a cada 3 meses.

QUESTÃO 17:

O Marco Legal da Primeira Infância (Lei 13.257/2016) estabelece diretrizes para políticas públicas destinadas às crianças de 0 a 6 anos, incluindo proteção integral, desenvolvimento saudável e garantia de direitos fundamentais. De acordo com o Marco, políticas públicas destinadas aos primeiros anos de vida devem priorizar áreas como:

- I. Assistência social à família da criança.
- II. Proteção contra toda forma de violência e de pressão consumista.



**PREFEITURA MUNICIPAL DE TERRA DE AREIA
ESTADO DO RIO GRANDE DO SUL**

EDITAL Nº 395, DE 17 DE DEZEMBRO DE 2025.

III. Adoção de medidas que evitem a exposição precoce à comunicação mercadológica.

Está(ão) correta(S):

- (A) I, II e III.
- (B) Apenas II e III.
- (C) Apenas II.
- (D) Apenas I e III.
- (E) Apenas I.

QUESTÃO 18:

Analise as partes que seguem: A Atenção Primária à Saúde é responsável pelo cuidado longitudinal das famílias nos territórios (1ª parte), e mesmo não sendo a principal porta de entrada (2ª parte), configura-se como coordenadora, ordenadora do cuidado e centro de comunicação das Redes de Atenção à Saúde (3ª parte). Acerca das partes, pode-se afirmar que:

- (A) A 1ª parte está correta, assim como as demais.
- (B) A 1ª parte está incorreta, ao contrário das demais.
- (C) A 2ª parte está incorreta, assim como as demais.
- (D) A 2ª parte está incorreta, ao contrário as demais.
- (E) A 3ª parte está incorreta, ao contrário as demais.

QUESTÃO 19:

Ao entrar em exercício no município de Terra de Areia, o servidor nomeado para cargo de provimento efetivo ficará sujeito a estágio probatório por período de 36 (trinta e seis) meses, durante o qual a sua aptidão, capacidade e desempenho serão objeto de avaliação por comissão especialmente designada para este fim, com vista a aquisição da estabilidade, observados os seguintes quesitos, exceto:

- (A) assiduidade.
- (B) moralidade.
- (C) disciplina.



**PREFEITURA MUNICIPAL DE TERRA DE AREIA
ESTADO DO RIO GRANDE DO SUL**

EDITAL Nº 395, DE 17 DE DEZEMBRO DE 2025.

(D) eficiência.

(E) responsabilidade.

QUESTÃO 20:

A Lei Municipal nº 855/2000, que dispõe sobre o regime jurídico dos servidores públicos de Terra de Areia, estabelece critérios relacionados à estabilidade no serviço público. Considerando o previsto na legislação municipal, o servidor público nomeado para cargo efetivo adquire estabilidade no serviço público municipal após:

(A) 6 meses de estágio probatório, desde que bem avaliado.

(B) 1 ano de efetivo exercício, com avaliação satisfatória.

(C) 2 anos de efetivo exercício, sem necessidade de avaliação.

(D) 3 anos de efetivo exercício e avaliação especial de desempenho.

(E) 5 anos de serviço público contínuo.

MÉDICO VETERINÁRIO

Leia o poema “Aproximação do terror”, de Murilo Mendes, escrito entre 1943 e 1945, mas publicado originalmente em 1947 no livro Poesia Liberdade.

1

Dos braços do poeta
Pende a ópera do mundo
(Tempo, cirurgião do mundo): —

O abismo bate palmas,
A noite aponta o revólver.
Ouço a multidão, o coro do universo,
O trote das estrelas
Já nos subúrbios da caneta:
As rosas perderam a fala.
Entrega-se a morte a domicílio.

Dos braços...
Pende a ópera do mundo.

2

Tenho que dar de comer ao poema.
Novas perturbações me alimentam:
Nem tudo o que penso agora
Posso dizer por papel e tinta.



**PREFEITURA MUNICIPAL DE TERRA DE AREIA
ESTADO DO RIO GRANDE DO SUL**

EDITAL Nº 395, DE 17 DE DEZEMBRO DE 2025.

O poeta já nasce conscrito,
Atento às fascinantes inclinações do erro,
Já nasce com as cicatrizes da liberdade.

O ouvido soprando sua trompa
Percebe a galope
A marcha do número 666.

Palpo¹ a Quimera².
O tremor
E os jasmims da palavra “jamais”.

3

Dos telhados abstratos
Vejo os limites da pele,
Assisto crescerem os cabelos dos minutos
No instante da eternidade.
Vejo ouvindo, ouço vendo.

Considero as tatuagens dos peixes,
O astro monossecular.
Os rochedos colocam-se máscaras contra
[pássaros asfixiantes.
A grande Babilônia ergue o corpo de dólares.
Ruído surdo, o tempo oco a tombar...
A espiral das gerações cresce.

(Murilo Mendes. Antologia poética, 2014.)

¹ palpar: apalpar.

² Quimera: monstro mitológico com cabeça de leão, corpo de cabra e cauda de serpente.

QUESTÃO 1:

Um dos trechos apresentados a seguir pode ser reescrito na voz passiva, mantendo o sentido geral da construção poética, embora haja alteração na estrutura sintática da frase. Assim, considere o fragmento do poema e identifique qual deles pode ser corretamente transformado para a voz passiva:

- (A) “O poeta já nasce conscrito,” (4ª estrofe)
- (B) “A noite aponta o revólver.” (2ª estrofe)
- (C) “Pende a ópera do mundo” (1ª estrofe)
- (D) “Já nasce com as cicatrizes da liberdade.” (4ª estrofe)
- (E) “A espiral das gerações cresce.” (8ª estrofe)



**PREFEITURA MUNICIPAL DE TERRA DE AREIA
ESTADO DO RIO GRANDE DO SUL**

EDITAL Nº 395, DE 17 DE DEZEMBRO DE 2025.

QUESTÃO 2:

Considerando a época de produção do poema situada no período do Estado Novo (marcado por forte repressão política, controle ideológico e censura), remeteria de modo mais explícito ao contexto de censura o seguinte trecho:

- (A) “Tenho que dar de comer ao poema.” (4ª estrofe)
- (B) “Assisto crescerem os cabelos dos minutos / No instante da eternidade.” (7ª estrofe)
- (C) “Os rochedos colocam-se máscaras contra pássaros asfixiantes.” (8ª estrofe)
- (D) “O abismo bate palmas, / A noite aponta o revólver.” (2ª estrofe)
- (E) “Nem tudo o que penso agora / Posso dizer por papel e tinta.” (4ª estrofe)

QUESTÃO 3:

A colocação pronominal constitui um dos aspectos mais complexos e sensíveis da sintaxe normativa da língua portuguesa, envolvendo regras específicas que determinam a posição adequada dos pronomes átonos em relação ao verbo. Considerando esse conteúdo, observe atentamente as orações apresentadas a seguir e classifique-as quanto ao tipo de colocação pronominal que apresentam (próclise, mesóclise ou ênclise):

- I. Jamais me esquecerei daquele dia.*
- II. Orgulhar-me-ei das conquistas alcançadas.*
- III. Entregou-se completamente ao trabalho.*
- IV. Quando te disseram isso, acreditaste?*

Assinale a alternativa correta, que indica a correspondência entre os tipos de colocação pronominal e as orações apresentadas.

- (A) I – próclise; II – ênclise; III – mesóclise; IV – próclise.
- (B) I – mesóclise; II – ênclise; III – próclise; IV – ênclise.
- (C) I – ênclise; II – próclise; III – mesóclise; IV – próclise.



**PREFEITURA MUNICIPAL DE TERRA DE AREIA
ESTADO DO RIO GRANDE DO SUL**

EDITAL Nº 395, DE 17 DE DEZEMBRO DE 2025.

(D) I – próclise; II – mesóclise; III – ênclise; IV – próclise

(E) I- mesóclise; II – ênclise; III – próclise; IV – próclise

QUESTÃO 4:

Assinale a alternativa em que todas as palavras apresentadas estão grafadas de acordo com as normas vigentes da ortografia oficial da língua portuguesa, conforme o Acordo Ortográfico. Analise cuidadosamente cada opção, observando possíveis erros e escolha aquela em que não há qualquer inadequação.

(A) pajé, xadrês, flecha, mixto, aconchego

(B) abolição, tribo, pretensão, obsecado, cansaço

(C) gorjeta, sargeta, picina, florescer, consiliar

(D) xadrez, ficha, mexerico, enxame, enxurrada

(E) pagé, xadrês, flexa, mecherico, enxame

QUESTÃO 5:

Leia atentamente a frase a seguir e, considerando a análise sintática dos termos destacados entre aspas, responda à questão proposta. Observe a função desempenhada por cada expressão dentro da estrutura da oração, levando em conta as relações de dependência, regência e organização sintática para identificar corretamente o papel que esses termos exercem na frase.

"O lucro", que é um dos incentivos do sistema, foi "excelente".

Na oração acima, determine a função sintática dos termos destacados, assinalando a alternativa correta:

(A) objeto direto – adjunto adverbial.

(B) sujeito – predicativo do sujeito.

(C) sujeito – predicativo do objeto.

(D) predicativo do sujeito – predicativo do objeto.

(E) objeto direto -predicativo do objeto.



**PREFEITURA MUNICIPAL DE TERRA DE AREIA
ESTADO DO RIO GRANDE DO SUL**

EDITAL Nº 395, DE 17 DE DEZEMBRO DE 2025.

QUESTÃO 6:

O botulismo é uma doença grave, resultante da intoxicação alimentar de animais por exotoxinas produzidas pelo *Clostridium botulinum*. Essa condição provoca manifestações neurológicas progressivas e de alta letalidade nos bovinos.

Considerando o quadro clínico compatível com essa intoxicação e a necessidade de distinguir o botulismo de outras enfermidades que apresentam sinais semelhantes, assinale as doenças que compõem o diagnóstico diferencial do botulismo em bovinos:

- (A) Polioencefalomalácia e encefalite por herpesvírus bovino tipo 5.
- (B) Cetose bovina e hipocalcemia.
- (C) Tétano e raiva.
- (D) Listeriose e encefalopatia espongiiforme bovina.
- (E) Mieloencefalite bovina por protozoário e leucoencefalomalácia.

QUESTÃO 7:

Os programas nacionais de defesa sanitária animal no Brasil têm como objetivo proteger a pecuária e a saúde pública por meio da prevenção, controle e erradicação de doenças de grande impacto econômico, social e zoonótico. Tais programas integram ações de vigilância epidemiológica, barreiras sanitárias, educação em saúde, diagnóstico laboratorial e articulação interinstitucional.

Considerando esses aspectos, é correto afirmar que:

- (A) embora reconheça a importância do conceito de saúde única (*One Health*), a defesa sanitária animal opera de forma isolada, sem necessidade de articulação com setores de saúde humana ou de vigilância ambiental, uma vez que seu foco exclusivo é a proteção da pecuária.
- (B) a raiva dos herbívoros não integra os programas nacionais de defesa sanitária animal, pois, por se tratar de zoonose, seu controle é de responsabilidade exclusiva do setor de saúde humana, com foco na imunização pós-exposição.



**PREFEITURA MUNICIPAL DE TERRA DE AREIA
ESTADO DO RIO GRANDE DO SUL**

EDITAL Nº 395, DE 17 DE DEZEMBRO DE 2025.

(C) a estrutura de defesa sanitária animal no Brasil atua de forma hierarquizada, com centralização absoluta no Ministério da Agricultura, Pecuária e Abastecimento, não cabendo aos serviços estaduais ou municipais funções complementares de fiscalização ou execução de ações de campo.

(D) a atuação em defesa sanitária limita-se à detecção precoce de enfermidades por meio de análises laboratoriais, não englobando atividades de vigilância ativa, campanhas de vacinação ou educação sanitária junto aos produtores rurais.

(E) a febre aftosa, a brucelose e a tuberculose constituem enfermidades prioritárias dos programas oficiais, sendo abordadas por estratégias que incluem vacinação obrigatória em determinadas espécies, monitoramento sorológico, rastreabilidade animal e integração com medidas de saúde pública voltadas à segurança alimentar.

QUESTÃO 8:

O diagnóstico da esporotricose em medicina veterinária constitui um desafio clínico e laboratorial, uma vez que a enfermidade pode apresentar formas localizadas ou disseminadas, mimetizando outras dermatoses infecciosas e não infecciosas. Nesse contexto, a confirmação da infecção pelo complexo *Sporothrix schenckii* exige a associação de métodos complementares. Sobre os recursos diagnósticos empregados na esporotricose animal, é correto afirmar que:

(A) a citologia direta pode revelar estruturas compatíveis com leveduras, mas a confirmação requer isolamento do agente em meio de cultura fúngica específico.

(B) o exame histopatológico, isoladamente, é considerado suficiente para o diagnóstico definitivo, visto que sempre permite a visualização inequívoca do agente, dispensando confirmação em cultura.

(C) os testes sorológicos representam o padrão-ouro no diagnóstico de rotina da esporotricose em animais, sendo empregados de forma ampla.

(D) a identificação molecular de *Sporothrix*, através de técnicas biomoleculares, não apresenta aplicabilidade prática na rotina laboratorial.

(E) o diagnóstico clínico presuntivo, baseado exclusivamente nas manifestações cutâneas, é considerado definitivo, visto que a apresentação da doença é exclusiva e patognomônica.



**PREFEITURA MUNICIPAL DE TERRA DE AREIA
ESTADO DO RIO GRANDE DO SUL**

EDITAL Nº 395, DE 17 DE DEZEMBRO DE 2025.

QUESTÃO 9:

Em situações de suspeita de raiva animal, o processo de vigilância exige a confirmação laboratorial por métodos padronizados e reconhecidos internacionalmente. Considerando o protocolo oficial adotado pelos serviços de saúde e pelos laboratórios de referência, indique qual é o método laboratorial de referência que integra o fluxo diagnóstico oficial para a detecção do vírus da raiva em amostras de animais suspeitos.

- (A) Hemograma automatizado com índices hematimétricos, estratificação leucocitária e avaliação de padrão inflamatório sistêmico.
- (B) Imunofluorescência direta em tecido cerebral, com confirmação por provas biológicas ou métodos moleculares em fluxos validados.
- (C) Sorologia rápida em sangue total com leitura visual, emissão de laudo no ponto de coleta e resposta imediata.
- (D) Cultura bacteriana de medula espinhal, coloração de Gram e painel bioquímico de rotina para agentes oportunistas.
- (E) a microscopia óptica simples do encéfalo, utilizando apenas coloração de Hematoxilina-Eosina, é considerada suficiente para o diagnóstico definitivo da raiva, uma vez que a presença de corpos de Negri é patognomônica e obrigatória em todos os casos.

QUESTÃO 10:

A maioria dos centros urbanos enfrenta o problema de cães e gatos mantidos sem controle, oferecendo riscos à saúde, à segurança pública, à saúde animal e ao meio ambiente, onerando o poder público com investimentos necessários para o controle populacional. As atividades isoladas de recolhimento e eliminação de cães e gatos não são efetivas para o controle da dinâmica dessas populações, sendo necessário, portanto, atuar na causa do problema: a procriação animal sem controle e a falta de responsabilidade do ser humano quanto à sua posse, propriedade ou guarda.

Sobre o tema, analise as asserções a seguir e a relação proposta entre elas:

I - A principal vantagem do método cirúrgico de esterilização é o fato de ser realizado em um único procedimento, causando a perda irreversível da capacidade reprodutiva.



**PREFEITURA MUNICIPAL DE TERRA DE AREIA
ESTADO DO RIO GRANDE DO SUL**

EDITAL Nº 395, DE 17 DE DEZEMBRO DE 2025.

PORQUE

II - As fêmeas esterilizadas cirurgicamente apresentam cio e os machos orquiectomizados, ao contrário dos vasectomizados, perdem progressivamente a libido.

- (A) As asserções I e II são proposições verdadeiras, e a II é uma justificativa da I.
- (B) As asserções I e II são proposições verdadeiras, mas a II não é uma justificativa da I.
- (C) A asserção I é uma proposição verdadeira, e a II é uma proposição falsa.
- (D) A asserção I é uma proposição falsa, e a II é uma proposição verdadeira.
- (E) As asserções I e II são proposições falsas

QUESTÃO 11:

O médico veterinário é um profissional estratégico no conceito de Saúde Única (*One Health*), atuando na interface entre saúde animal, saúde humana e meio ambiente. Suas atribuições em saúde pública englobam desde a vigilância de zoonoses até o controle de riscos relacionados à produção e consumo de alimentos de origem animal. Considerando as responsabilidades desse profissional, é correto afirmar que:

- (A) a atuação em programas de vigilância epidemiológica de zoonoses, integrando equipes multiprofissionais para prevenção, monitoramento e controle de surtos de doenças transmissíveis, constitui atribuição central do médico veterinário em saúde pública
- (B) o manejo de fauna silvestre em zoológicos configura atividade exclusiva do médico veterinário, sem implicações para a saúde coletiva ou necessidade de articulação com outros setores.
- (C) o atendimento clínico de animais de companhia, embora relevante individualmente, não possui qualquer repercussão para a saúde pública, pois doenças desses animais não são consideradas de interesse zoonótico.
- (D) o exercício da medicina veterinária na pecuária limita-se à melhoria da produtividade animal, sem interface com a segurança alimentar ou com a saúde coletiva.
- (E) a responsabilidade do médico veterinário em saúde pública restringe-se à fiscalização de medicamentos em estabelecimentos de estética animal, sem competência legal em inspeção ou controle sanitário.



**PREFEITURA MUNICIPAL DE TERRA DE AREIA
ESTADO DO RIO GRANDE DO SUL**

EDITAL Nº 395, DE 17 DE DEZEMBRO DE 2025.

QUESTÃO 12:

Os métodos epidemiológicos constituem pilares fundamentais para a vigilância, análise e controle de doenças infecciosas em diferentes populações. No âmbito da saúde coletiva, a utilização de indicadores precisos é essencial para mensurar a dinâmica temporal de agravos e orientar ações de prevenção e intervenção. Considerando esse contexto, assinale a alternativa que apresenta, de forma correta, o indicador epidemiológico utilizado especificamente para monitorar a incidência de uma doença em determinada população ao longo de um período definido.

- (A) Taxa de mortalidade específica, que mede a incidência de uma doença na população exposta.
- (B) Taxa de letalidade, que relaciona o número de casos novos ao número total de habitantes.
- (C) Coeficiente de incidência, que calcula o número de casos novos de uma doença por um período determinado em uma população específica.
- (D) Prevalência, que avalia o número de óbitos por determinada doença em um ano.
- (E) Índice de morbidade, que relaciona a mortalidade infantil com a expectativa de vida.

QUESTÃO 13:

Em setembro de 2025, uma mulher de 58 anos procurou atendimento de urgência apresentando quadro clínico composto por náuseas, disfagia, disartria e hidrofobia. A investigação subsequente revelou que a paciente havia sido mordida por um sagui e evoluiu para Raiva humana, doença viral aguda e quase sempre fatal após o estabelecimento dos sintomas.

Considerando as características epidemiológicas, clínicas e preventivas dessa zoonose, assinale a alternativa correta acerca da Raiva.

- (A) o sinal predominante nos bovinos são os acessos de fúria
- (B) os morcegos não hematófagos não são susceptíveis à doença
- (C) a saliva de cães e gatos pode conter maior concentração de vírus do que o próprio Sistema Nervoso Central
- (D) os morcegos hematófagos são susceptíveis ao vírus com possibilidade de transmiti-lo sem evoluir para a morte



**PREFEITURA MUNICIPAL DE TERRA DE AREIA
ESTADO DO RIO GRANDE DO SUL**

EDITAL Nº 395, DE 17 DE DEZEMBRO DE 2025.

(E) Os primatas neotropicais, como saguis, não participam da cadeia de transmissão da raiva para humanos, atuando apenas como hospedeiros acidentais.

QUESTÃO 14:

A Portaria SIPA/MAPA nº 5, de 08 de novembro de 1988, estabelece a padronização oficial dos cortes de carne bovina no território nacional, definindo terminologias e critérios técnicos para a classificação e o processamento dos produtos de origem animal. Entende-se por carcaça o bovino:

- (A) sensibilizado, pendurado, sangrado, esfolado, mocotó solto, desprovido de cabeça, glândula mamária (na fêmea) e testículos (no macho).
- (B) abatido, sangrado, esfolado, eviscerado, desprovido de cabeça, patas, rabada, glândula mamária (na fêmea), verga, exceto suas raízes, e testículos (no macho).
- (C) abatido, pendurado, sangrado, esfolado, eviscerado, desprovido de mocotó, cabeça, patas, rabada, glândula mamária (na fêmea) e testículos (no macho) .
- (D) sangrado, esfolado, eviscerado, desprovido de cabeça, patas, glândula mamária (na fêmea), testículos (no macho), com separação entre a quinta e sexta costelas.
- (E) abatido, sangrado, esfolado, com retirada apenas parcial das vísceras abdominais, mantendo cabeça, cauda e extremidades distais dos membros, desde que higienizadas e resfriadas imediatamente após o abate.

QUESTÃO 15:

A qualidade do leite e de seus derivados constitui um elemento essencial para toda a cadeia produtiva do setor lácteo, uma vez que influencia diretamente a segurança sanitária, o valor nutricional e a aceitabilidade dos produtos finais. Para garantir padrões elevados de inocuidade e conformidade tecnológica, torna-se indispensável a adoção rigorosa de procedimentos operacionais padronizados durante todas as etapas de beneficiamento dessa matéria-prima.

Tais procedimentos envolvem desde a obtenção higiênica do leite na propriedade rural, o controle de temperatura, a prevenção de contaminações microbiológicas, químicas e físicas ao longo do processamento, até a implementação de boas práticas de fabricação e de sistemas de autocontrole. A



**PREFEITURA MUNICIPAL DE TERRA DE AREIA
ESTADO DO RIO GRANDE DO SUL**

EDITAL Nº 395, DE 17 DE DEZEMBRO DE 2025.

observância dessas medidas é fundamental para assegurar produtos lácteos de alta qualidade, estáveis e seguros para consumo humano.

Analise as afirmativas a seguir e marque (V) para as verdadeiras e (F) para as falsas:

- () é permitida a pasteurização lenta, que consiste no aquecimento indireto do leite entre 63°C e 65°C pelo período de 30 minutos, mantendo-se o leite sob agitação mecânica, lenta, em aparelhagem própria;
- () é permitida a pasteurização rápida, que consiste no aquecimento do leite em camada laminar entre 72°C e 75°C pelo período de quinze a vinte segundos, em aparelhagem própria.
- () O leite pasteurizado deve apresentar provas de fosfatase alcalina negativa e de peroxidase positiva.
- () É permitido o reprocessamento do leite UAT para consumo humano direto.
- () A temperatura de conservação do leite cru refrigerado na unidade de beneficiamento de leite e derivados pode ser de até 7° C, quando o leite estocado apresentar contagem microbiológica máxima de 350.000 UFC/mL (trezentas e cinquenta mil unidades formadoras de colônia por mililitro) anteriormente ao beneficiamento.

- (A) V- F- V- F- F
- (B) F- V- V- F- F
- (C) V- F- V- F- F
- (D) V- V- V- F -F
- (E) F- V- F- V- F

QUESTÃO 16:

O Regulamento Técnico do Programa Nacional de Controle e Erradicação de Brucelose e Tuberculose Animal - PNCEBT instituído pela Instrução Normativa nº 2, de 10 de janeiro de 2001 e revisado através da Instrução Normativa nº 10, de 03/03/2017, tem por objetivo reduzir a prevalência e a incidência dessas doenças, visando a erradicação. As medidas sanitárias do Programa são aplicadas à população de bovinos e bubalinos. Sobre este programa, é correto afirmar:



**PREFEITURA MUNICIPAL DE TERRA DE AREIA
ESTADO DO RIO GRANDE DO SUL**

EDITAL Nº 395, DE 17 DE DEZEMBRO DE 2025.

- (A) É obrigatória a vacinação de todas as fêmeas bovina e bubalina, de três a oito meses de idade, contra a brucelose. A vacinação deve ser realizada sob a responsabilidade técnica de médico veterinário cadastrado pelo serviço veterinário municipal.
- (B) Os testes utilizados no diagnóstico da brucelose devem ser realizados em: fêmeas com idade igual ou superior a 24 meses, quando vacinadas com a B19; fêmeas não vacinadas ou vacinadas com a RB51 devem ser testadas com idade igual ou superior a 8 meses de idade; machos com idade igual ou superior a 8 meses de idade, destinados à reprodução.
- (C) Para o diagnóstico da tuberculose, serão utilizados testes alérgicos de tuberculinização intradérmica. Os testes de rotina são o teste cervical simples (TCS), o teste da prega caudal (TPC) e o teste cervical comparativo (TCC), sendo que o último também é utilizado como teste confirmatório. A tuberculinização deve ser realizada em machos e fêmeas com idade igual ou superior a doze semanas.
- (D) Nos estabelecimentos com foco de tuberculose, cuja criação seja especializada em pecuária leiteira ou sem especialização (rebanho misto), os animais devem ser testados a partir de dez semanas de idade.
- (E) Para obter a certificação de estabelecimento de criação livre, é necessária a realização de dois testes de rebanho negativos consecutivos para brucelose ou para tuberculose com intervalo de 6 a 12 meses. A manutenção do certificado de estabelecimento de criação livre de brucelose ou de tuberculose fica condicionada à realização e apresentação ao serviço veterinário oficial de testes de rebanho negativos com intervalos máximos de seis meses.

QUESTÃO 17:

A vigilância ambiental do município de Terra de Areia foi acionada para avaliar um cão encontrado em área pública. De acordo com as diretrizes do Manual de Vigilância, Prevenção e Controle de Zoonoses (MS, 2016), o recolhimento de animais pela vigilância deve ocorrer de forma seletiva, considerando risco sanitário, epidemiológico e potencial de transmissão de doenças.

Com base nessas normas, assinale a alternativa que corresponde a uma situação em que o recolhimento do animal é tecnicamente indicado:



**PREFEITURA MUNICIPAL DE TERRA DE AREIA
ESTADO DO RIO GRANDE DO SUL**

EDITAL Nº 395, DE 17 DE DEZEMBRO DE 2025.

- (A) Cão aparentemente saudável, mas com sinais de estresse comportamental, apresentado pela comunidade para fins de adoção institucional, sem histórico de zoonoses na região.
- (B) Cão adulto com histórico de abandono, assintomático, porém encontrado em área de proteção ambiental, exigindo apenas manejo populacional não invasivo.
- (C) Cão com fratura exposta decorrente de atropelamento, porém sem sinais sugestivos de zoonose, cuja única demanda da população é assistência clínica urgente.
- (D) Cão com sintomatologia compatível com zoonose de relevância epidemiológica (como agressividade súbita, hipersalivação ou sinais neurológicos), representando risco iminente de transmissão à população.
- (E) Cão morto encontrado em via pública, sem indícios de zoonose, sendo suficiente o recolhimento do cadáver por serviço público de limpeza.

QUESTÃO 18:

No âmbito da regulamentação profissional estabelecida pelo Sistema CFMV/CRMVs, o cadastro de estabelecimentos constitui um dos instrumentos essenciais para a fiscalização, a regularização das atividades e a garantia da responsabilidade técnica na Medicina Veterinária e na Zootecnia. A Resolução CFMV nº 1.475/2022 define de forma detalhada as condições, finalidades, implicações e obrigações relativas ao processo de cadastro, especialmente para empresas cuja atividade básica não é privativa dessas profissões, mas que, ainda assim, necessitam de atuação técnico-profissional vinculada.

Considerando as disposições normativas que orientam o registro e o funcionamento dessas entidades no Sistema CFMV/CRMVs, assinale a afirmativa correta sobre o cadastro de estabelecimentos.

- (A) Todo estabelecimento com atuação eventual na área rural deve registrar-se como pessoa jurídica no CRMV.
- (B) Estabelecimentos cuja atividade básica não é privativa da Medicina Veterinária podem solicitar cadastro, sem emissão de certificado de registro.
- (C) O cadastro dispensa o pagamento de taxas de ART.
- (D) O cadastro só pode ser solicitado por pessoa jurídica, sendo vedado ao produtor rural pessoa física.
- (E) O cadastro gera automaticamente a obrigatoriedade de possuir RT vinculado.



**PREFEITURA MUNICIPAL DE TERRA DE AREIA
ESTADO DO RIO GRANDE DO SUL**

EDITAL Nº 395, DE 17 DE DEZEMBRO DE 2025.

QUESTÃO 19:

Ao entrar em exercício no município de Terra de Areia, o servidor nomeado para cargo de provimento efetivo ficará sujeito a estágio probatório por período de 36 (trinta e seis) meses, durante o qual a sua aptidão, capacidade e desempenho serão objeto de avaliação por comissão especialmente designada para este fim, com vista a aquisição da estabilidade, observados os seguintes quesitos, exceto:

- (A) assiduidade.
- (B) moralidade.
- (C) disciplina.
- (D) eficiência.
- (E) responsabilidade.

QUESTÃO 20:

De acordo com o Artigo 72 da Lei Municipal nº 855/2000 (Terra de Areia), além do vencimento básico, poderão ser pagas ao servidor municipal as seguintes vantagens, exceto:

- (A) gratificações e adicionais.
- (B) indenizações.
- (C) auxílio para diferença de caixa.
- (D) prêmio assiduidade.
- (E) auxílio uniforme.

ELETRICISTA

LEIA:

A cadeira do dentista

Carlos Eduardo Novaes

Fazia dois anos que não me sentava numa cadeira de dentista. Não que meus dentes estivessem por todo esse tempo sem reclamar um tratamento. Cheguei a marcar várias consultas, mas começava a suar frio folheando velhas revistas na antessala e me escafedia antes de ser atendido. Na única ocasião em que botei o pé no gabinete do odontólogo – tem uns seis meses – quando ele me informou o preço do serviço, a dor transferiu-se do dente para o bolso.



**PREFEITURA MUNICIPAL DE TERRA DE AREIA
ESTADO DO RIO GRANDE DO SUL**

EDITAL Nº 395, DE 17 DE DEZEMBRO DE 2025.

- Não quero uma dentadura em ouro com incrustações em e esmeraldas - esclareci -, só preciso tratar o canal.
- É esse o preço de um tratamento de canal!
- Tem certeza? O senhor não estará confundindo o meu canal com o do Panamá?

Adiei o tratamento. Tenho pavor de dentista. O mundo avançou nos últimos 30 anos, mas a Odontologia permanece uma atividade medieval. Para mim não faz diferença um "pau-de-arara" ou uma cadeira de dentista: é tudo instrumento de tortura.

Desta vez, porém, não tive como escapar. Os dentes do lado esquerdo já tinham se transformado em meros figurantes dentro da boca. Ao estourar o pré- molar do lado direito, fiquei restrito à linha de frente para mastigar maminhas e picanhas. Experiência que poderia ter dado certo, caso tivesse algum jeito para esquilo.

https://www.rio.rj.gov.br/dlstatic/10112/4244912/4104925/NJM7_3BIM_ALUNO_2013.pdf

QUESTÃO 01:

Qual o assunto principal desse texto?

- (A) Adiamento de tratamento.
- (B) O atraso da odontologia.
- (C) Instrumento de tortura.
- (D) Tratamento de dentes.
- (E) Falta de higiene.

QUESTÃO 02:

Ao analisar a construção textual de “A cadeira do dentista”, percebe-se que o autor utiliza um formato específico para organizar e articular os acontecimentos e reflexões apresentados. Com base nessa

estruturação, isto é, na maneira como o texto se divide e se compõe, assinale a alternativa que identifica corretamente o tipo de organização utilizado.

- (A) Colunas.
- (B) Parágrafos.



**PREFEITURA MUNICIPAL DE TERRA DE AREIA
ESTADO DO RIO GRANDE DO SUL**

EDITAL Nº 395, DE 17 DE DEZEMBRO DE 2025.

- (C) Itens.
- (D) Versos.
- (E) Nenhuma resposta correta.

QUESTÃO 03:

Conforme as normas da gramática oficial, assinale a alternativa em que todas as palavras estão corretamente acentuadas.

- (A) facil – útil – lapis
- (B) fácil – útil – lápis
- (C) fácil – útil – lapis
- (D) lapis – fácil – util
- (E) lápis – útil – pais

QUESTÃO 04:

Leia a frase e escolha a palavra que pode substituir o termo destacado sem mudar o sentido da frase:

“O menino estava cansado depois do treino.”

- (A) Animado
- (B) Alegre
- (C) Exausto
- (D) Curioso
- (E) Brincalhão

QUESTÃO 05:

Assinale a alternativa em que todas as palavras permanecem iguais no plural (não mudam de forma):

- (A) Lápis – ônibus – tórax
- (B) Flor – paz – mão
- (C) Livro – lápis – mesa
- (D) Pão – mão – avião
- (E) Cão – mão – luz



**PREFEITURA MUNICIPAL DE TERRA DE AREIA
ESTADO DO RIO GRANDE DO SUL**

EDITAL Nº 395, DE 17 DE DEZEMBRO DE 2025.

QUESTÃO 6:

Assinale a alternativa que contém o plural correto da frase “O cidadão acordou cedo e foi buscar pão e pão de ló para seu café da manhã.”

- (A) Os cidadãos acordaram cedo e foram buscar pães e pão de lós para seus cafés da manhã.
- (B) Os cidadãos acordaram cedo e foram buscar pães e pães de ló para seus cafés da manhã.
- (C) Os cidadãos acordaram cedo e foram buscar pães e pão de lós para seus cafés da manhã.
- (D) Os cidadãos acordaram cedo e foram buscar pães e pães de ló para seus cafés da manhã.
- (E) Os cidadãos acordaram cedo e foram buscar pães e pães de ló para seus cafés da manhã.

QUESTÃO 7:

Sobre o sinônimo das palavras, marcar C para as afirmativas Certas, E para as Erradas e, após, assinalar

a alternativa que apresenta a sequência correta:

☐ “*Permanente*” é sinônimo de “*provisório*”.

☐ “*Cortês*” é sinônimo de “*grosseiro*”.

- (A) C - C.
- (B) C - E.
- (C) E - E.
- (D) E - C.
- (E) nenhuma alternativa correta

QUESTÃO 8:

O Sr. Jorge gasta 1 hora para chegar ao trabalho ele faz o percurso 5 vezes por semana. Assinale a alternativa que apresenta quantas horas ele gasta por semana para chegar no trabalho.

- (A) 3 horas
- (B) 5 horas
- (C) 2 horas
- (D) 1 hora
- (E) 7 horas

QUESTÃO 09:



**PREFEITURA MUNICIPAL DE TERRA DE AREIA
ESTADO DO RIO GRANDE DO SUL**

EDITAL Nº 395, DE 17 DE DEZEMBRO DE 2025.

Manuela está guardando dinheiro para comprar uma bolsa nova. Ela precisa economizar três notas de R\$ 20,00, quatro de R\$ 5,00 e oito moedas de R\$ 0,50 para comprar o produto. O preço do sapato é:

- (A) R\$ 84,00
- (B) R\$ 48,00
- (C) R\$ 60,00
- (D) R\$ 80,00
- (E) R\$ 94,00

QUESTÃO 10:

Em um açougue do bairro Olaria, o kilo do coxão mole custa R\$ 36,20. Em outro açougue, o coxão mole custa R\$ 40,10. Assinale a alternativa que mostra quanto é possível economizar comprando no açougue mais barato.

- (A) R\$ 4,90
- (B) R\$ 5,00
- (C) R\$ 2,50
- (D) R\$ 3,90
- (E) R\$ 2,80

QUESTÃO 11:

Um ônibus escolar realiza 4 viagens por dia, transportando 65 estudantes por viagem. O total de passageiros transportado no final do dia é:

- (A) 380 passageiros
- (B) 220 passageiros
- (C) 260 passageiros
- (D) 150 passageiros
- (E) 180 passageiros

QUESTÃO 12:

Márcia decidiu ofertar um lanche às pessoas em situação de rua na sua cidade. Para isso, ela decidiu confeccionar sanduíches e foi até à padaria perto da sua casa, onde o kg de pão francês custa R\$ 12,00.



**PREFEITURA MUNICIPAL DE TERRA DE AREIA
ESTADO DO RIO GRANDE DO SUL**

EDITAL Nº 395, DE 17 DE DEZEMBRO DE 2025.

Sabendo que Márcia possuía R\$ 42,00 para comprar pães, quantos quilos ela conseguiu comprar?

- (A) 4,5 kg
- (B) 3,5 kg
- (C) 4 kg
- (D) 3 kg
- (E) 5 kg

QUESTÃO 13:

O litro (L) é a unidade de medida utilizada para indicar capacidade, ou seja, o volume que um recipiente pode conter de líquidos como água ou produtos de limpeza.

Assinale a alternativa correta sobre essa unidade de medida:

- (A) O litro mede comprimento, assim como o metro.
- (B) A capacidade de 1 litro é equivalente a 10 mililitros.
- (C) O litro é usado apenas para medir peso de sólidos.
- (D) 1 litro (L) corresponde a 1.000 mililitros (mL).
- (E) O mililitro é maior que o litro.

QUESTÃO 14:

Ao socorrer vítima de choque elétrico, use objetos para enlaçar a vítima e puxá-la para desprendê-la a pessoa do objeto que conduz a energia. Nunca toque no corpo da vítima durante o choque elétrico. Tente desligar a chave geral o quanto antes. Assinale a alternativa que completa a lacuna do texto:

- (A) longos
- (B) flexíveis
- (C) sintéticos
- (D) isolantes



**PREFEITURA MUNICIPAL DE TERRA DE AREIA
ESTADO DO RIO GRANDE DO SUL**

EDITAL Nº 395, DE 17 DE DEZEMBRO DE 2025.

(E) condutores

QUESTÃO 15:

Servidores de uma escola municipal relataram choques leves ao tocar nas carcaças de computadores e impressoras. O eletricitista responsável constatou que não havia sistema de aterramento adequado e que os equipamentos estavam conectados diretamente à rede elétrica. Nesse caso, qual deve ser a medida mais indicada para eliminar o risco de acidentes?

- (A) Substituir os computadores por modelos mais novos.
- (B) Instalar fusíveis de maior capacidade.
- (C) Retirar o DR do circuito.
- (D) Isolar as carcaças metálicas com fita.
- (E) Instalar um sistema de aterramento eficiente.

QUESTÃO 16:

Um eletricitista da equipe de manutenção da Prefeitura de Terra de Areia foi chamado para consertar um vazamento de água em uma das salas, que acabou atingindo uma tomada elétrica. Ele percebe que o gesso e a parede estão molhados ao redor da tomada, e ele precisa atuar imediatamente para evitar um curto-circuito. Antes de qualquer coisa, ele deve adotar a medida mais segura. O que o eletricitista deve fazer para iniciar o reparo do problema com segurança?

- (A) Utilizar luvas de borracha e isolar a tomada com um pedaço de borracha.
- (B) Secar a área com um pano e remover a tomada para inspeção.
- (C) Ligar o secador de cabelo para secar a parede e, em seguida, isolar a tomada com fita isolante.
- (D) Remover a tomada e, com o auxílio de um multímetro, verificar se há corrente nos cabos.
- (E) Desligar o disjuntor do circuito no quadro de distribuição e isolar a área

QUESTÃO 17:



**PREFEITURA MUNICIPAL DE TERRA DE AREIA
ESTADO DO RIO GRANDE DO SUL**

EDITAL Nº 395, DE 17 DE DEZEMBRO DE 2025.

Durante a execução de serviços em um prédio público, o eletricitista responsável identifica que parte da equipe não está utilizando os EPIs obrigatórios, como luvas isolantes e óculos de proteção. De acordo com as normas de segurança, qual deve ser a conduta correta?

- (A) Solicitar a substituição imediata dos equipamentos de proteção coletiva.
- (B) Permitir a execução, já que são tarefas simples.
- (C) Continuar o serviço apenas com sinalização no local.
- (D) Interromper a atividade até que todos estejam equipados corretamente.
- (E) Aguardar que os servidores terminem o serviço.

QUESTÃO 18:

A lei municipal que define o regime jurídico dos servidores de Terra de Areia estabelece que os servidores públicos municipais são pessoas legalmente investidas em cargos públicos. O que isso significa?

- (A) Qualquer pessoa pode se tornar servidor sem exigir concurso ou nomeação.
- (B) O servidor precisa estar investido legalmente no cargo, ou seja, nomeado e empossado conforme a lei.
- (C) O servidor pode ocupar o cargo apenas de improviso, por “tempo livre”.
- (D) O cargo público municipal não exige cumprir requisitos legais para investidura.
- (E) O servidor pode trabalhar em cargo municipal e estadual ao mesmo tempo, sem restrição.

QUESTÃO 19:

Ao entrar em exercício no município de Terra de Areia, o servidor nomeado para cargo de provimento efetivo ficará sujeito a estágio probatório por período de 36 (trinta e seis) meses, durante o qual a sua aptidão, capacidade e desempenho serão objeto de avaliação por comissão especialmente designada para este fim, com vista a aquisição da estabilidade, observados os seguintes quesitos, exceto:

- (A) assiduidade.
- (B) moralidade.
- (C) disciplina.
- (D) eficiência.



**PREFEITURA MUNICIPAL DE TERRA DE AREIA
ESTADO DO RIO GRANDE DO SUL**

EDITAL Nº 395, DE 17 DE DEZEMBRO DE 2025.

(E) responsabilidade.

QUESTÃO 20:

A Lei Municipal nº 855/2000, que dispõe sobre o regime jurídico dos servidores públicos de Terra de Areia, estabelece critérios relacionados à estabilidade no serviço público. Considerando o previsto na legislação municipal, o servidor público nomeado para cargo efetivo adquire estabilidade no serviço público municipal após:

- (A) 6 meses de estágio probatório, desde que bem avaliado.
- (B) 1 ano de efetivo exercício, com avaliação satisfatória.
- (C) 2 anos de efetivo exercício, sem necessidade de avaliação.
- (D) 3 anos de efetivo exercício e avaliação especial de desempenho.
- (E) 5 anos de serviço público contínuo.

**ZELADOR DE ESCOLA
PORTUGUÊS**

Fragmento de Machado de Assis

“Na escola, cada pessoa tem o seu papel. Uns chegam cedo para abrir as portas, outros organizam as salas, enquanto alguns preparam as aulas. O bom funcionamento do ambiente depende da colaboração de todos. Pequenos gestos, como manter os corredores limpos ou verificar se as luzes foram apagadas, fazem grande diferença no dia a dia.”

ASSIS, Machado de. Texto adaptado da obra de Machado de Assis.

1) De acordo com o texto, o bom funcionamento da escola depende:

- A) Apenas do trabalho dos professores.
- B) Somente da limpeza diária.
- C) Da colaboração de todas as pessoas.
- D) Da abertura dos portões.
- E) Da organização das salas.

2) No trecho “para **abrir** as portas”, a palavra destacada classifica-se como:

- A) Verbo
- B) Substantivo
- C) Adjetivo
- D) Artigo



**PREFEITURA MUNICIPAL DE TERRA DE AREIA
ESTADO DO RIO GRANDE DO SUL**

EDITAL Nº 395, DE 17 DE DEZEMBRO DE 2025.

E) Pronome

3) No texto a expressão “pequenos gestos” significa:

- A) Atitudes de pouca importância.
- B) Ações simples que ajudam no funcionamento da escola.
- C) Atividades que exigem força física.
- D) Movimentos corporais.
- E) Ordens dadas pela direção.

4) A palavra “infeliz” é formada por:

- A) Prefixo + radical
- B) Radical + sufixo
- C) Radical apenas (simples)
- D) Dois radicais (composta)
- E) Palavra derivada por composição

5) Assinale a alternativa em que a palavra está acentuada corretamente:

- A) corredór
- B) ambiente
- C) funciónamento
- D) pátio
- E) pórtia

MATEMÁTICA

6) João tem 48 chaves para organizar em caixas com 6 chaves cada. Quantas caixas ele vai preencher?

- A) 4
- B) 6
- C) 7
- D) 8
- E) 10

7) Uma mangueira tem 12 metros. Foram usados 7 metros. Quantos metros restam?

- A) 3
- B) 4
- C) 5
- D) 6
- E) 7

8) O zelador gastou R\$ 32,00 em produtos de limpeza e depois mais R\$ 18,00. Qual foi o total gasto?

- A) R\$ 40,00



**PREFEITURA MUNICIPAL DE TERRA DE AREIA
ESTADO DO RIO GRANDE DO SUL**

EDITAL Nº 395, DE 17 DE DEZEMBRO DE 2025.

- B) R\$ 48,00
- C) R\$ 50,00
- D) R\$ 52,00
- E) R\$ 60,00

9) Uma sala retangular mede 5 m de comprimento e 4 m de largura. Qual é sua área?

- A) 9 m²
- B) 10 m²
- C) 15 m²
- D) 20 m²
- E) 25 m²

10) Em uma caixa há 80 litros de água. Retiraram 25 litros. Quanto ficou?

- A) 45 L
- B) 50 L
- C) 55 L
- D) 60 L
- E) 65 L

CONHECIMENTOS GERAIS E ESPECÍFICOS

11) Separar corretamente o lixo em uma escola contribui para:

- A) A preservação do meio ambiente.
- B) Causar menos trabalho ao zelador.
- C) Aumentar o uso de energia.
- D) Evitar o uso de materiais recicláveis.
- E) Aumentar o consumo de água.

12) O uso correto dos EPIs (Equipamento de Proteção Individual) tem como principal objetivo:

- A) Melhorar a aparência do funcionário.
- B) Aumentar a velocidade do serviço.
- C) Garantir segurança e evitar acidentes.
- D) Facilitar o transporte de materiais.
- E) Proteger apenas o uniforme.

13) Para economizar água, o zelador deve:

- A) Manter torneiras abertas ao lavar pátios.
- B) Ignorar vazamentos pequenos.
- C) Lavar calçadas todos os dias.
- D) Usar mangueira o tempo todo.
- E) Controlar o tempo de uso e consertar vazamentos.



**PREFEITURA MUNICIPAL DE TERRA DE AREIA
ESTADO DO RIO GRANDE DO SUL**

EDITAL Nº 395, DE 17 DE DEZEMBRO DE 2025.

14) Para cortar grama com segurança, é necessário:

- A) Ligar o equipamento com o fio danificado.
- B) Usar chinelo para facilitar o movimento.
- C) Cortar próximo a crianças para supervisionar.
- D) Utilizar EPI (Equipamento de Proteção Individual), verificar o terreno e afastar pessoas.
- E) Trabalhar em dias de chuva intensa.

15) Um vazamento simples em torneira pode ser resolvido geralmente com:

- A) Troca do disjuntor.
- B) Troca da borracha (vedação).
- C) Pintura da parede.
- D) Aumento da pressão da água.
- E) Troca da pia inteira.

Legislação Municipal

16) A Lei 855/2000 dispõe sobre:

- A) O estatuto dos vereadores.
- B) O regime jurídico dos servidores municipais.
- C) A criação de escolas municipais.
- D) O calendário escolar.
- E) O orçamento da educação.

17) De acordo com a Lei 855/2000, o servidor deve exercer suas funções com:

- A) Atrasos frequentes.
- B) Descaso com o patrimônio público.
- C) Assiduidade e responsabilidade.
- D) Somente quando solicitado.
- E) Apenas em dias alternados.

18) É dever do servidor público municipal:

- A) Recusar ordens legais.
- B) Tratar com urbanidade usuários e colegas.
- C) Divulgar informações sigilosas.
- D) Utilizar bens públicos para fins pessoais.
- E) Ausentar-se sem autorização.

19) Segundo a lei, o estágio probatório tem duração de:

- A) 12 meses
- B) 24 meses



**PREFEITURA MUNICIPAL DE TERRA DE AREIA
ESTADO DO RIO GRANDE DO SUL**

EDITAL Nº 395, DE 17 DE DEZEMBRO DE 2025.

- C) 40 meses
- D) 36 meses
- E) 48 meses

20) São requisitos básicos para ingresso no serviço público municipal, EXCETO:

- A) ser brasileiro;
- B) ter idade mínima de 16 (dezesesseis) anos, no momento da nomeação;
- C) estar quite com as obrigações militares e eleitorais;
- D) gozar de boa saúde física e mental, comprovada mediante exame médico;
- E) ter atendido as condições prescritas em lei para o cargo;

AGENTE DE COMBATE A ENDEMIAS

LEIA:

Ziraldo, o criador do Menino Maluquinho, tem muita história pra contar e encantar. Mudou a arte dos quadrinhos no Brasil, foi preso na ditadura militar e, como cartunista, ganhou o Nobel da Literatura Infanto-Juvenil. Ziraldo começou a trabalhar no jornal Folha da Manhã (atual Folha de S.Paulo), em 1954, com uma coluna dedicada ao humor. Ganhou notoriedade nacional ao se estabelecer na revista O Cruzeiro em 1957 e, posteriormente, no Jornal do Brasil, em 1963. Seus personagens (entre eles Jeremias, o Bom; a Supermãe e o Mirinho) conquistaram os leitores. Em 1960 lançou a primeira revista em quadrinhos brasileira feita por um só autor, Turma do Pererê, que também foi a primeira história em quadrinhos a cores totalmente produzida no Brasil. Embora tenha alcançado uma das maiores tiragens da época, Turma do Pererê foi cancelada em 1964, logo após o início do regime militar no Brasil. Nos anos 70, a Editora Abril relançou a revista, desta vez, porém, sem o sucesso inicial. A revista da Turma do Pererê teve outras passagens pelas bancas numa edição encadernada pela Editora Primor no ano de 1986 e em formato de almanaque pela Editora Abril na década de 1990. Em 1960 recebeu o “Nobel” Internacional de Humor no 32º Salão Internacional de Caricaturas de Bruxelas e também o prêmio Merghantealler, principal premiação da imprensa livre da América Latina.

<https://jornalnota.com.br/2023/10/24/91-%20anos-de-ziraldo-as-10-melhores-tirinhas-do-cartunista/>.

Adaptado

QUESTÃO 01

Com base no texto que apresenta a trajetória profissional de Ziraldo, qual das seguintes afirmações é verdadeira?

- (A) Ziraldo lançou a primeira revista em quadrinhos a cores no Brasil nos anos 70.
- (B) Ziraldo criou a Turma do Pererê, que teve várias edições lançadas por uma única editora.
- (C) Ziraldo foi preso durante a ditadura militar no Brasil.



**PREFEITURA MUNICIPAL DE TERRA DE AREIA
ESTADO DO RIO GRANDE DO SUL**

EDITAL Nº 395, DE 17 DE DEZEMBRO DE 2025.

(D) Ziraldo é mais conhecido por criar o personagem Jeremias, o Bom.

(E) Ziraldo criou a turma da Mônica.

QUESTÃO 02

O texto menciona diferentes fases da carreira de Ziraldo e destaca acontecimentos importantes que marcaram sua trajetória profissional. Considerando essas informações, assinale a alternativa que apresenta uma inferência correta sobre a relação entre o contexto histórico e a produção artística do autor.

(A) O grande sucesso inicial da Turma do Pererê demonstra que a revista permaneceu ininterruptamente nas bancas até os anos 1990.

(B) A prisão de Ziraldo durante a ditadura militar indica que sua atuação como artista o colocou em confronto com o regime da época.

(C) O relançamento da Turma do Pererê pela Editora Abril nos anos 70 demonstra que a censura favorecia a circulação de quadrinhos nacionais.

(D) O fato de Ziraldo ter ganhado o prêmio Merghantealler mostra que sua produção era voltada exclusivamente para o público internacional.

(E) O cancelamento da Turma do Pererê em 1964 prova que o público brasileiro não aceitava quadrinhos coloridos produzidos no país.

QUESTÃO 03

Em: “Ziraldo, o criador do Menino Maluquinho, tem muita história...” O termo destacado é:

(A) Vocativo

(B) Objeto direto

(C) Aposto explicativo

(D) Predicativo do sujeito

(E) Complemento nominal

QUESTÃO 04

O novo acordo ortográfico é o nome popular dado ao Acordo Ortográfico de 1990. É um conjunto de regras acordadas entre os diversos países que têm a língua portuguesa como idioma oficial (Brasil, Portugal, Cabo Verde, Moçambique, Guiné-Bissau, Angola, Timor – leste e São Tomé e Príncipe). De acordo com as novas regras ortográficas, a sequência de palavras cujos acentos são empregados pelo mesmo motivo é:

(A) burocráticos, próximo, século.

(B) público, função, dói.

(C) será, aí, é, está.

(D) glória, exercício, publicação.

(E) hábito, bancário, poética

QUESTÃO 05



**PREFEITURA MUNICIPAL DE TERRA DE AREIA
ESTADO DO RIO GRANDE DO SUL**

EDITAL Nº 395, DE 17 DE DEZEMBRO DE 2025.

Assinale a alternativa que preenche corretamente as lacunas das orações a seguir, considerando o emprego adequado das preposições “a/à” e da forma verbal “há”. Leia atentamente cada frase, observe o sentido temporal ou direcional expresso e escolha a opção cujas palavras completam corretamente os enunciados:

I. Precisa falar ____ cerca de três mil operários.

II. Daqui ____ alguns anos tudo estará mudado.

III. ____ dias está desaparecido.

IV. Vindos de locais distantes, todos chegaram ____ tempo ____ reunião.

(A) a - a - há - a - à

(B) à - a - a - há - a

(C) a - à - a - a - há

(D) há - a - à - a - a

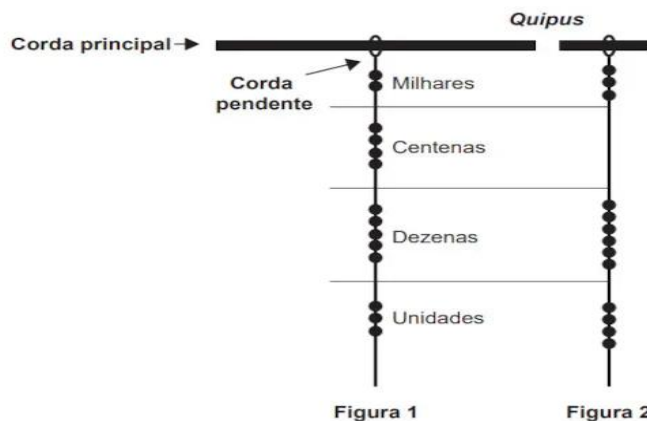
(E) a - há - a - à - a.

QUESTÃO 06

Os incas desenvolveram uma maneira de registrar quantidades e representar números utilizando um sistema de numeração decimal posicional: um conjunto de cordas com nós denominado quipus.

O quipus era feito de uma corda matriz, ou principal, na qual eram penduradas outras cordas, de diferentes tamanhos e cores (cordas pendentes). De acordo com a sua posição, os nós significavam unidades, dezenas, centenas e milhares.

Na Figura 1, o quipus representa o número decimal 2 453. Para representar o “zero” em qualquer posição, não se coloca nenhum nó.



O número da representação do quipus da Figura 2, em base decimal, é:

(A) 364.

(B) 3.064.

(C) 463.

(D) 3.640.

(E) 4.603.

QUESTÃO 07

Uma administração municipal encomendou a pintura de dez placas de sinalização para colocar em seu



**PREFEITURA MUNICIPAL DE TERRA DE AREIA
ESTADO DO RIO GRANDE DO SUL**

EDITAL Nº 395, DE 17 DE DEZEMBRO DE 2025.

pátio de estacionamento. O profissional contratado para o serviço inicial pintará o fundo de dez placas e cobrará um valor de acordo com a área total dessas placas. O formato de cada placa é um círculo de diâmetro $d = 40$ cm, que tangencia lados de um retângulo, sendo que o comprimento total da placa é $h = 60$ cm, conforme ilustrado na figura. Use 3,14 como aproximação para π .



Qual é a soma das medidas das áreas, em centímetros quadrados, das dez placas?

- (A) 16.628
- (B) 22.280
- (C) 28.560
- (D) 41.120
- (E) 66.240

QUESTÃO 08

A Organização Mundial da Saúde (OMS) recomenda que o consumo diário de sal de cozinha não exceda 5 g. Sabe-se que o sal de cozinha é composto por 40% de sódio e 60% de cloro.

Disponível em: <http://portal.saude.gov.br>. (adaptado).

Qual é a quantidade máxima de sódio proveniente do sal de cozinha, recomendada pela OMS, que uma pessoa pode ingerir por dia?

- (A) 1250 mg
- (B) 2000 mg
- (C) 3000 mg
- (D) 5000 mg
- (E) 12.500 mg

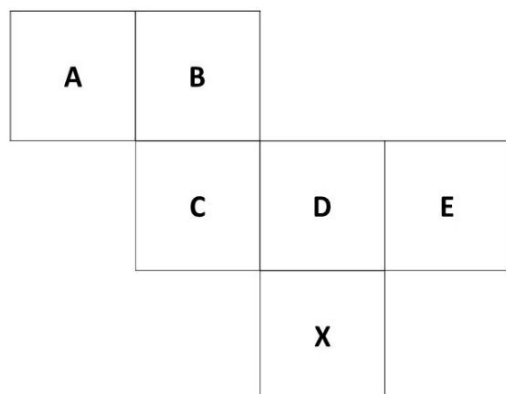
QUESTÃO 09

A figura abaixo mostra a planificação das faces de um cubo.



**PREFEITURA MUNICIPAL DE TERRA DE AREIA
ESTADO DO RIO GRANDE DO SUL**

EDITAL Nº 395, DE 17 DE DEZEMBRO DE 2025.



Nesse cubo, a face oposta à face X é

- (A) A
- (B) B
- (C) C
- (D) D
- (E) E

QUESTÃO 10

De acordo com dados do IBGE, a população residente no município de Terra de Areia, no ano de 2022, totalizava 10.334 habitantes. Dona Joana, moradora da comunidade do distrito de Sanga Funda, é mãe de quatro filhos: Adão, Pedro, Raimundo e Sebastião. Sobre essas informações, considere que:

I. Sebastião é mais velho que Raimundo.

II. Adão é mais novo que Pedro.

III. Pedro é mais velho que Raimundo.

Assim, é obrigatoriamente verdadeiro que:

- (A) Pedro é o mais velho.
- (B) Raimundo é o mais novo.
- (C) Adão é o mais novo.
- (D) Raimundo não é o mais novo.
- (E) Sebastião não é o mais novo.

QUESTÃO 11

Durante reunião com a equipe de saúde, o agente de endemias revisa doenças que precisam ser notificadas. Assinale a alternativa que apresenta apenas doenças de notificação compulsória.

- (A) Dengue, tuberculose e bronquite.
- (B) Hanseníase, febre amarela e pediculose.
- (C) Dengue, hanseníase e tuberculose.
- (D) HIV, sífilis adquirida e lombalgia.



**PREFEITURA MUNICIPAL DE TERRA DE AREIA
ESTADO DO RIO GRANDE DO SUL**

EDITAL Nº 395, DE 17 DE DEZEMBRO DE 2025.

(E) Sarampo, covid-19 e gastrite.

QUESTÃO 12

Em época de aumento de casos de arboviroses, o agente organiza ações de campo junto à equipe. Qual a prioridade CORRETA de controle?

- (A) Eliminar criadouros em mutirão, aplicar larvicida onde indicado, registrar pontos estratégicos e reduzir visitas de casa a casa.
- (B) Orientar uso de repelente em visitas, manter ovitrampas ativas, mapear áreas críticas e adiar manejo de depósitos nas residências.
- (C) Priorizar manejo mecânico de depósitos, articular limpeza urbana, usar UBV espacial conforme critério e suspender manejo em domicílios por uma semana.
- (D) Priorizar eliminação e tampa de criadouros, aplicar larvicida em recipientes não removíveis, conforme orientação técnica, e usar fumacê como complemento quando houver transmissão sustentada.
- (E) Orientar descarte de inservíveis, vedar caixas d'água, revisar quintais com moradores e apostar em pulverização de jardins como eixo central.

QUESTÃO 13

Com base na legislação que regulamenta o exercício das atividades dos Agentes de Combate às Endemias (ACE), especialmente a Lei nº 11.350, de 5 de outubro de 2006, e suas atualizações posteriores, assinale a alternativa que apresenta uma afirmação correta acerca do exercício profissional dos ACE.

- (A) Incumbe unicamente os Agentes de Combate às Endemias desempenhar com zelo e presteza as atividades previstas na lei n.º 11.350, de 05 de outubro de 2006.
- (B) As atividades dos Agentes de Combate às Endemias se darão no âmbito do Sistema Único de Saúde (SUS) e em instituições privadas.
- (C) Os Agentes de Combate às Endemias realizam suas atividades mediante vínculo indireto com o órgão ou entidade da administração direta, autárquica ou fundacional.
- (D) É essencial e obrigatória a presença de Agentes de Combate às Endemias na estrutura da Estratégia Saúde da Família (ESF).
- (E) Os Agentes Comunitários de Saúde e os Agentes de Combate às Endemias são considerados profissionais de saúde, porém com profissões não regulamentadas.

QUESTÃO 14

A visita domiciliar é uma das principais ações desenvolvidas pelo Agente de Combate a Endemias (ACE):

I – A visita domiciliar tem caráter educativo;

II – A visita domiciliar serve para identificar e eliminar criadouros;

III – As visitas domiciliares são precedidas de planejamento, preparação e organização de atividades;

IV – A visita domiciliar serve para diagnosticar a dengue e acompanhar o paciente.

Estão corretas:



**PREFEITURA MUNICIPAL DE TERRA DE AREIA
ESTADO DO RIO GRANDE DO SUL**

EDITAL Nº 395, DE 17 DE DEZEMBRO DE 2025.

- (A) I, II e IV
- (B) II, III e IV
- (C) I, II, III e IV
- (D) I, II e III
- (E) III e IV

QUESTÃO 15

Comumente associamos a dengue imediatamente à imagem do mosquito *Aedes aegypti*. No entanto, é essencial entender que a doença envolve três elementos principais: o vírus causador da dengue (que possui quatro sorotipos), o mosquito, que é o vetor responsável pela transmissão, e uma pessoa suscetível.

Em relação à dengue, assinale a opção correta:

- (A) Entre 7 e 10 dias após sugar o sangue de alguém infectado, o mosquito fêmea se torna infectivo e poderá transmitir o vírus.
- (B) todos os mosquitos que picam alguém com o vírus dengue conseguem sobreviver até o momento em que se tornam infectivos e podem, então, começar a transmitir a doença.
- (C) O mosquito fêmea se torna infectado quando suga o sangue de alguém doente.
- (D) Entre 8 e 10 dias após sugar o sangue de alguém infectado, o mosquito fêmea se torna infectivo e poderá transmitir o vírus.
- (E) O mosquito macho se torna infectado quando suga o sangue de alguém doente.

QUESTÃO 16

Assinale a alternativa que indica corretamente o princípio doutrinário do SUS em que se entende que os serviços e atendimentos devem ser ofertados reconhecendo as diferenças e necessidades dos indivíduos, ofertando mais a quem mais precisa e menos a quem requer menos cuidados, atendendo à diversidade e diferenças sociais.

- (A) Equidade
- (B) Integralidade
- (C) Universalidade
- (D) Controle social
- (E) Igualdade

QUESTÃO 17

Para a Organização das Nações Unidas (ONU), as doenças provocadas pela água, ou seja, doenças de veiculação hídrica, estão entre as cinco primeiras causas de morte na América Latina. Qual das doenças abaixo não ocorre por transmissão hídrica?

- (A) Diarreia
- (B) Cólera
- (C) Salmonelose
- (D) Febre tifóide
- (E) Tracoma



**PREFEITURA MUNICIPAL DE TERRA DE AREIA
ESTADO DO RIO GRANDE DO SUL**

EDITAL Nº 395, DE 17 DE DEZEMBRO DE 2025.

QUESTÃO 18

Assinale a alternativa que representa a Lei que cria a profissão de agente comunitário de saúde e a Lei que rege as atividades do Agente de Endemias e dos Agentes Comunitários de Saúde, respectivamente:

- (A) Lei nº 11.350/2006 e Lei nº 10.507/2002
- (B) Lei nº 10.507/2002 e Lei nº 11.350/2006
- (C) Lei nº 8.080/1990 e Lei nº 11.350/2006
- (D) Lei nº 10.507/2002 e Lei nº 8.142/1990
- (E) Lei nº 11.350/2006 e Lei nº 8.080/1990

QUESTÃO 19

De acordo com as disposições da Lei Municipal nº 855/2000, que institui o Regime Jurídico dos Servidores Públicos do Município, os servidores devem observar uma série de deveres funcionais voltados à ética, disciplina, eficiência e regularidade do serviço público. Esses deveres orientam a conduta profissional e asseguram o bom funcionamento da administração municipal. Considerando as normas que regem o comportamento esperado do servidor em exercício, assinale a alternativa que indica uma conduta que NÃO constitui dever funcional do servidor público municipal.

- (A) Zelar pelo patrimônio público.
- (B) Atender com presteza ao público em geral.
- (C) Guardar sigilo sobre assunto da repartição.
- (D) Ausentar-se do trabalho sem autorização.
- (E) Cumprir ordens superiores.

QUESTÃO 20

No âmbito do Regime Jurídico dos Servidores Públicos Municipais, a jornada e o horário de trabalho são definidos de acordo com a necessidade do serviço público, respeitando normas específicas de funcionamento de cada setor da administração. Esses parâmetros garantem a continuidade, eficiência e organização das atividades essenciais à população. Considerando as regras estabelecidas pela legislação municipal sobre carga horária, turnos, intervalos e formas especiais de funcionamento, assinale a alternativa que apresenta a afirmação correta acerca da jornada e do horário de trabalho dos servidores públicos municipais.

- (A) A carga horária máxima semanal é de 60h.
- (B) A jornada deve ser contínua, sem intervalos.
- (C) O servidor pode flexibilizar o horário sempre que desejar.
- (D) É possível adoção de regime de plantão conforme necessidade do serviço.
- (E) Servidor em estágio probatório não tem horário fixo.



**PREFEITURA MUNICIPAL DE TERRA DE AREIA
ESTADO DO RIO GRANDE DO SUL**

EDITAL Nº 395, DE 17 DE DEZEMBRO DE 2025.